

## EJERCICIOS RESUELTOS DE GEOMETRÍA

### Ejercicio nº 1.-

a) Halla el punto medio del segmento de extremos  $P(3, -2)$  y  $Q(-1, 5)$ .

b) Halla el simétrico del punto  $P(3, -2)$  con respecto a  $Q(-1, 5)$ .

#### **Solución:**

a) El punto medio es:

$$M = \left( \frac{3+(-1)}{2}, \frac{-2+5}{2} \right) = \left( 1, \frac{3}{2} \right)$$

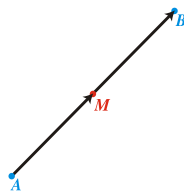
b) Llamamos  $P'(x, y)$  al simétrico de  $P$  con respecto a  $Q$ .  $Q$  es el punto medio del segmento que une  $P$  y  $P'$ . Entonces:

$$\left. \begin{array}{l} \frac{3+x}{2} = -1 \rightarrow x = -5 \\ \frac{-2+y}{2} = 5 \rightarrow y = 12 \end{array} \right\} P'(-5, 12)$$

### Ejercicio nº 2.-

El punto medio del segmento  $AB$  es  $M(2, -1)$ . Halla las coordenadas de  $A$ , sabiendo que  $B(-3, 2)$ .

#### **Solución:**



Si llamamos  $A(x, y)$ , tenemos que:

$\overrightarrow{AM} = \overrightarrow{MB}$ , es decir

$$\begin{aligned} (2-x, -1-y) &= (-3-2, 2-(-1)) \\ (2-x, -1-y) &= (-5, 3) \end{aligned}$$

$$\left. \begin{array}{l} 2-x = -5 \rightarrow x = 7 \\ -1-y = 3 \rightarrow y = -4 \end{array} \right\} \text{ Por tanto } A(7, -4)$$

**Ejercicio nº 3.-**

Escribe las ecuaciones paramétricas de la recta que pasa por los puntos  $P(-1, 3)$  y  $Q(-2, 8)$ .

**Solución:**

Vector posición:  $\overline{OP}(-1, 3)$

Vector dirección:  $PQ(-1, 5)$

Ecuaciones paramétricas:

$$\begin{cases} x = -1 - t \\ y = 3 + 5t \end{cases}$$

**Ejercicio nº 4.-**

Dadas las rectas:

$$r: \begin{cases} x = 2 - t \\ y = 6 + 4t \end{cases} \quad s: \begin{cases} x = 4 + 2t \\ y = -2 - 8t \end{cases}$$

averigua su posición relativa (si se cortan, di en qué punto).

**Solución:**

Cambiamos el parámetro en la recta  $s$ :

$$r: \begin{cases} x = 2 - t \\ y = 6 + 4t \end{cases} \quad s: \begin{cases} x = 4 + 2k \\ y = -2 - 8k \end{cases}$$

Igualamos:

$$\left. \begin{array}{l} 2 - t = 4 + 2k \\ 6 + 4t = -2 - 8k \end{array} \right\} \begin{array}{l} -2 - 2k = t \\ 6 + 4(-2 - 2k) = -2 - 8k \\ 6 - 8 - 8k = -2 - 8k \\ 0 = 0k \end{array}$$

Infinitas soluciones  $\rightarrow$  Se trata de la misma recta;  $r$  y  $s$  coinciden.

**Ejercicio nº 5.-**

Averigua si estas dos rectas son perpendiculares. Si no lo fueran, halla el ángulo que forman:

$$r: \begin{cases} x = 1 - 2t \\ y = 1 + 3t \end{cases} \quad s: \begin{cases} x = 3 + 4t \\ y = -2 - 6t \end{cases}$$

**Solución:**

Vector dirección de  $r \rightarrow (-2, 3)$

Vector dirección de  $s \rightarrow (4, -6)$

Llamamos  $\alpha$  al ángulo formado:

$$\cos \alpha = \frac{|(-2,3) \cdot (4,-6)|}{\sqrt{4+9} \cdot \sqrt{16+36}} = \frac{|-8-18|}{\sqrt{13} \cdot \sqrt{52}} = \frac{26}{\sqrt{13} \cdot 2\sqrt{13}} = \frac{26}{26} = 1 \rightarrow \alpha = 0^\circ \text{ (luego son perpendiculares).}$$

**Ejercicio nº 6.-**

**Averigua la ecuación implícita de la recta que pasa por el punto  $P(2, -2)$  y cuya pendiente es  $m = -3$ .**

**Solución:**

Escribimos la ecuación punto-pendiente y operamos:

$$y = -2 - 3(x - 2) \rightarrow y = -2 - 3x + 6 \rightarrow 3x + y - 4 = 0$$

**Ejercicio nº 7.-**

**Halla la ecuación implícita de la recta perpendicular a  $2x + y - 3 = 0$  que pasa por el punto  $P(1, 1)$ .**

**Solución:**

Obtenemos la pendiente de la recta dada:

$$2x + y - 3 = 0 \rightarrow y = -2x + 3 \rightarrow \text{pendiente} = -2$$

La pendiente de la perpendicular es:

$$\frac{-1}{-2} = \frac{1}{2}$$

La ecuación de la recta buscada será:

$$y = 1 + \frac{1}{2}(x - 1) \rightarrow 2y = 2 + x - 1 \rightarrow x - 2y + 1 = 0$$

**Ejercicio nº 8.-**

Halla la distancia de  $P$  a  $Q$  y de  $P$  a  $r$ , siendo:

$$P(-1, -1), Q(2, -3) \text{ y } r: 3x - y + 6 = 0$$

**Solución:**

$$\text{dist}(P, Q) = |\overrightarrow{PQ}| = \sqrt{3^2 + (-2)^2} = \sqrt{9+4} = \sqrt{13}$$

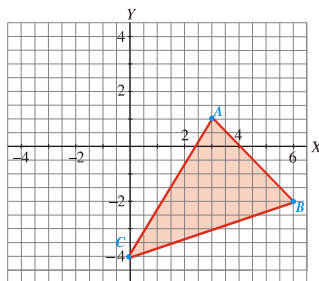
$$\text{dist}(P, r) = \frac{|3 \cdot (-1) - (-1) + 6|}{\sqrt{9+1}} = \frac{|-3+1+6|}{\sqrt{10}} = \frac{4}{\sqrt{10}} = \frac{4\sqrt{10}}{10} = \frac{2\sqrt{10}}{5}$$

**Ejercicio nº 9.-**

Halla el área del triángulo de vértices:

$$A(3, 1) \quad B(6, -2) \quad C(0, -4)$$

**Solución:**



1.º) Tomamos el lado  $BC$  como base del triángulo:

$$\text{base} = |\overrightarrow{BC}| = \sqrt{36+4} = \sqrt{40}$$

2.º) La altura es la distancia de  $A$  a la recta que pasa por  $B$  y  $C$ . Hallamos la ecuación de dicha recta:

$$\text{pendiente} = \frac{-4+2}{0-6} = \frac{-2}{-6} = \frac{1}{3}$$

$$y = -4 + \frac{1}{3}x \rightarrow 3y = -12 + x \rightarrow r: x - 3y - 12 = 0$$

Por tanto:

$$\text{altura} = \text{dist}(A, r) = \frac{|3-3-12|}{\sqrt{1+9}} = \frac{12}{\sqrt{10}}$$

3.º) El área del triángulo es:

$$\text{Área} = \frac{\text{base} \cdot \text{altura}}{2} = \frac{\sqrt{40} \cdot \frac{12}{\sqrt{10}}}{2} = 12 \text{ u}^2$$

**Ejercicio nº 10.-**

La ecuación explícita de la recta  $r$  es  $y = mx + n$  y la implícita  $Ax + By + C = 0$  con  $B \neq 0$ . Expresa  $m$  y  $n$  en función de  $A$ ,  $B$  y  $C$ .

**Solución:**

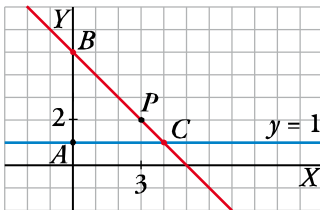
Despejamos  $y$  de la expresión  $Ax + By + C = 0 \rightarrow By = -Ax - C \rightarrow y = -\frac{A}{B}x - \frac{C}{B}$

Como  $y = mx + n$  es la misma recta que la anterior se tiene:

$$m = -\frac{A}{B} \quad \text{y} \quad n = -\frac{C}{B}$$

**Ejercicio nº 11.-**

Halla la ecuación de una recta que pasa por el punto  $P(3, 2)$  y forma con el eje de ordenadas y la recta  $y = 1$  un triángulo isósceles. Calcula el área de dicho triángulo.

**Solución:**

Para calcular la ecuación de la recta que pasa por  $P$  nos faltaría otro punto  $B$  o  $C$ , dos de los vértices del triángulo  $ABC$ , o la pendiente. Los vértices del triángulo son de la forma:

$$A(0, 1), B(0, b), C(c, 1)$$

Por ser un triángulo isósceles  $\rightarrow \text{dist}(A, C) = \text{dist}(A, B) \rightarrow c = b - 1$

$$\text{Por otro lado, } \overline{BC} = (c, 1 - b) = (b - 1, 1 - b) \rightarrow m = \frac{1 - b}{b - 1} = \frac{-(b - 1)}{b - 1} = -1$$

Luego la ecuación de la recta que pasa por  $P(3, 2)$  y tiene  $m = -1$  es:  
 $y = 2 - 1(x - 3) \rightarrow y = 2 - x + 3 \rightarrow x + y - 5 = 0$

Calculamos el vértice  $C$  punto de intersección de las rectas  $\begin{cases} y = 1 \\ x + y - 5 = 0 \end{cases}$  :

$$x + 1 - 5 = 0 \rightarrow x = 4 \rightarrow C(4, 1)$$

Luego  $B(0, c + 1) = (0, 5)$ .

$$A_{\text{TRIÁNGULO}} = \frac{\overline{AC} \cdot \overline{AB}}{2} = \frac{4 \cdot 4}{2} = 8 \text{ u}^2$$