

## Propiedades globales de las funciones

1.	Definición y formas de definir una función	2
1.1.	Definición de función	2
1.2.	Formas de definir la función:	4
1.2.1.	A partir de una representación gráfica	4
1.2.2.	A partir de expresión analítica	4
1.2.3.	Mediante tabla de valores:	5
1.2.4.	Calculo del dominio de una función	6
2.	Continuidad y discontinuidad de una función	8
3.	Monotonía: crecimiento y decrecimiento, puntos relativos	8
3.1	Monotonía: crecimiento y decrecimiento	8
3.2	Puntos relativos	9
4.	Curvatura de una función, concavidad, convexidad y punto de inflexión.	11
5.	Simetría y Periodicidad	12
5.1	Simetría	12
5.2	Periodicidad	14
6.	Tendencias, asíntotas	15
7.	Composición de funciones	16
8.	Función inversa	17
8.1	Definición de inversa	17
8.2.	Gráficas funciones inversas	18

# 1. Definición y formas de definir una función

## 1.1. Definición de función

Hemos oído hablar mucho de funciones, pero ¿sabemos bien que son las funciones? ¿y para que se utilizan?. De esto trataremos este tema y el siguiente

**Definición:** una función  $f$ , es una correspondencia o aplicación entre un subconjunto de números reales ( $D \in \mathbb{R}$ ) y los números reales ( $\mathbb{R}$ ), de forma que a cada elemento “ $x$ ”,  $x \in D$  le corresponde **un único** valor “ $y$ ”.

Veamos esquemáticamente la definición:

$$f: D \rightarrow \mathbb{R}$$
$$x \rightarrow y=f(x)$$

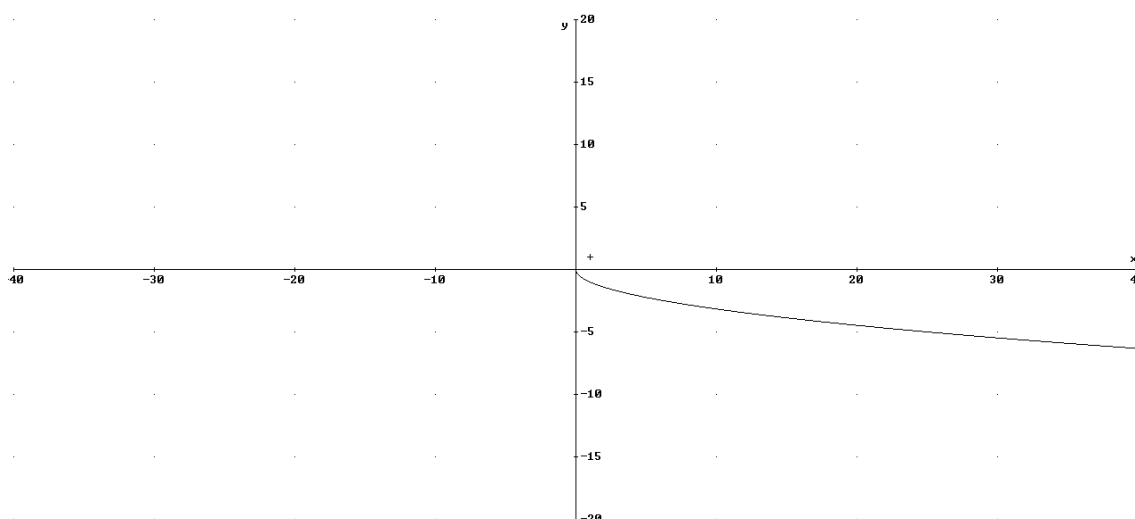
**Elementos de una función:**

- Variable independiente: es la variable  $x$
- Variable dependiente: es la variable  $y$ , se llama así porque su valor depende de  $x$ .
- Dominio de una función, se denomina  $\text{Dom}(f)$  y está formado por aquellos valores de  $x$  (números reales) para los que existe la función.
- Imagen o recorrido de la función: se designa  $\text{Im}(f)$ , a todos los valores de la variable dependiente ( $y$ ).

**Ejemplo:**  $y=f(x)=-\sqrt{x}$

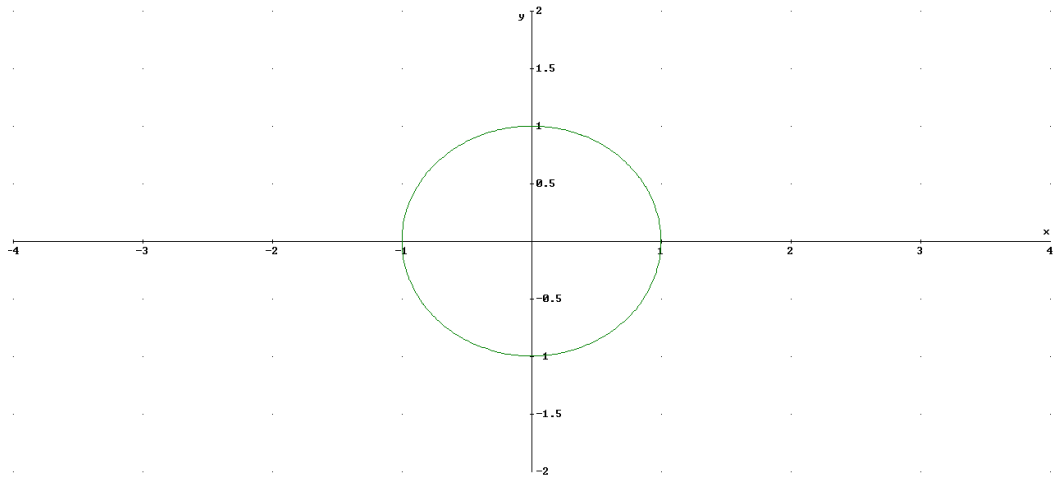
$\text{Dom}(f(x))=[0,\infty)$ , ya que la raíz sólo existe cuando el radical es positivo

$\text{Im}(f(x))=(-\infty,0]$ , que son los valores que toma la  $y$ :



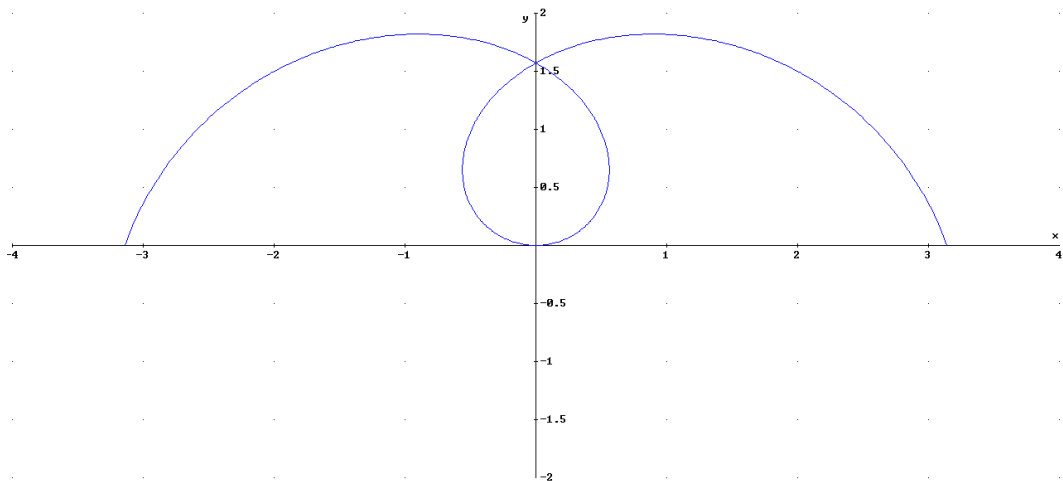
**Ejercicio 1:** identificar funciones de las que no son

a)



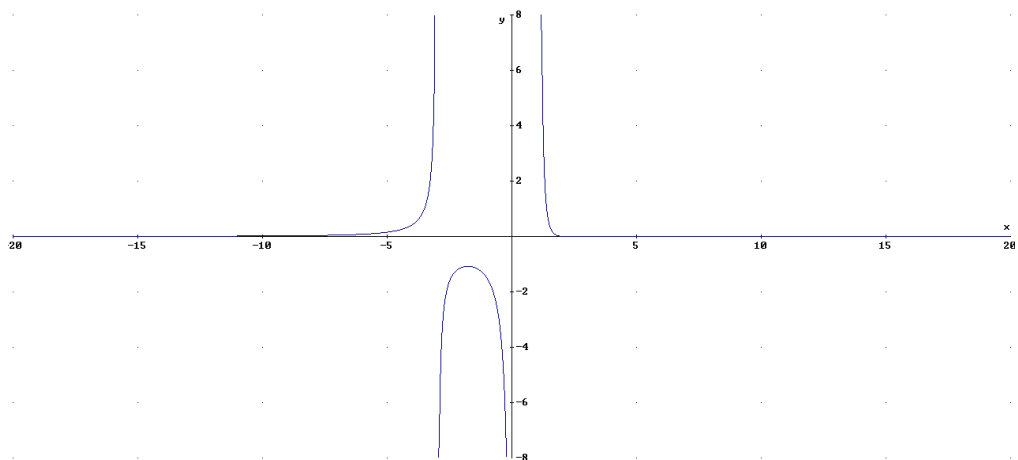
No es una función porque para un mismo valor de  $x$  toma dos valores de  $y$ .

b)



No es una función porque para algún valor de  $x$  toma dos y tres valores de  $y$ .

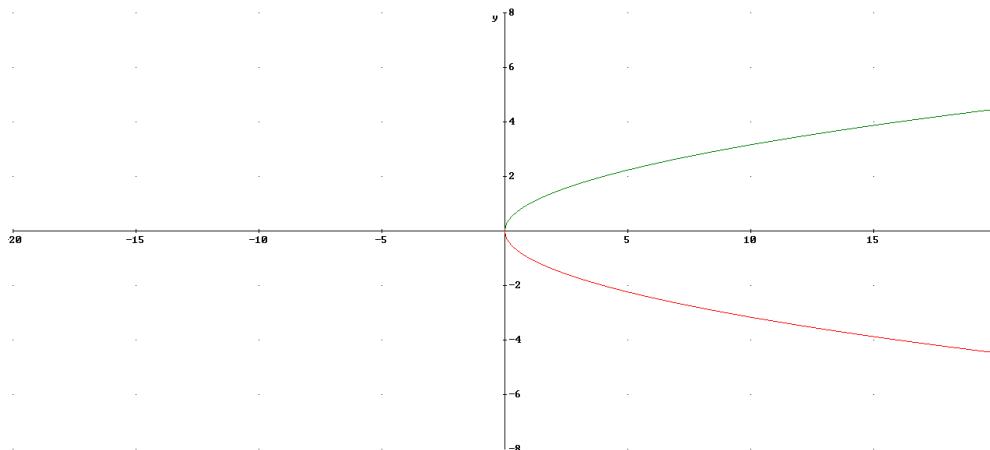
c)



Si es función, pues a cada valor de  $x$  le corresponde un único valor de  $y$ .

d)  $x=y^2 \rightarrow$  No es una función, porque para cada valor de  $x$  le corresponde dos de  $y$ , por ejemplo si  $x=4 \rightarrow y=2, y=-2$ . Si despejamos la  $y$  tenemos dos funciones:

$$y = -\sqrt{x}; \quad y = \sqrt{x}$$

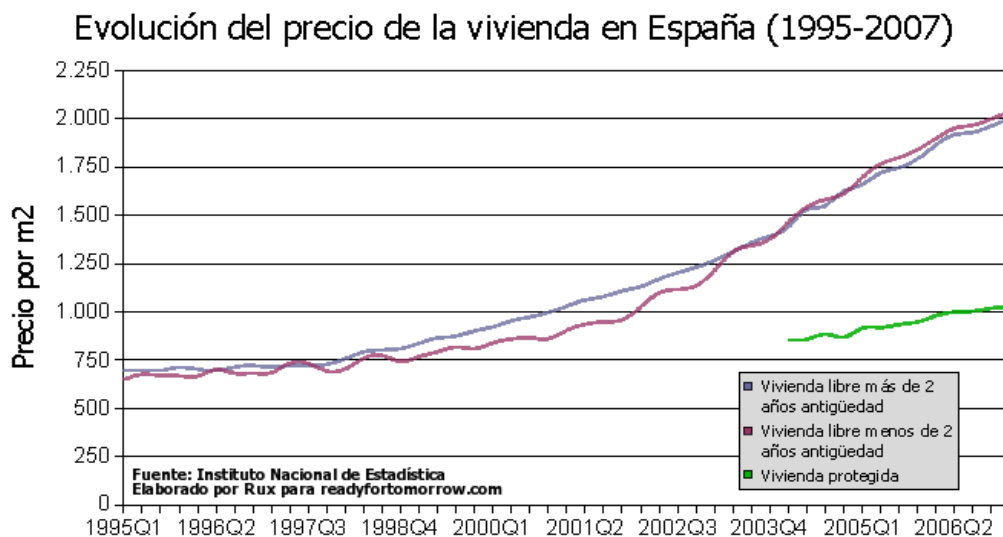


## 1.2. Formas de definir la función:

### 1.2.1. A partir de una representación gráfica

La representación gráfica nos muestra la relación entre las variables “ $x$ ” e “ $y$ ” en los ejes de coordenadas cartesianas, así la gráfica es el conjunto de todos los puntos  $(x, y=f(x))$ .

Es una forma muy intuitiva de conocer el comportamiento de la función, veamos un ejemplo, donde  $x$ =año,  $y$ =precio/m<sup>2</sup>



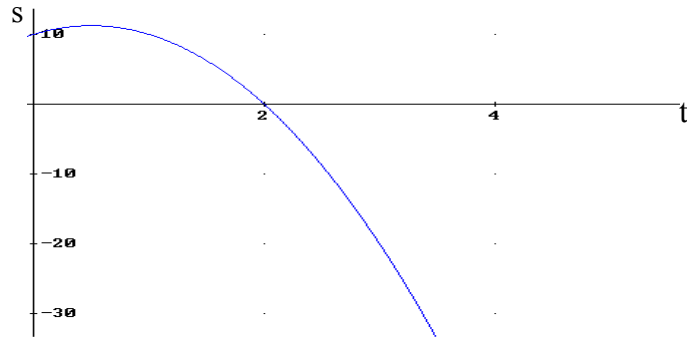
### 1.2.2. A partir de expresión analítica

Es otra forma de conocer una función: es la relación matemática entre las dos variables en la que la variable dependiente ( $y$ ) está despejada. No siempre es posible de obtener la expresión analítica de una función, por ejemplo la vista en el apartado anterior. La expresión analítica suelen utilizarse en física, química, economía, etc.

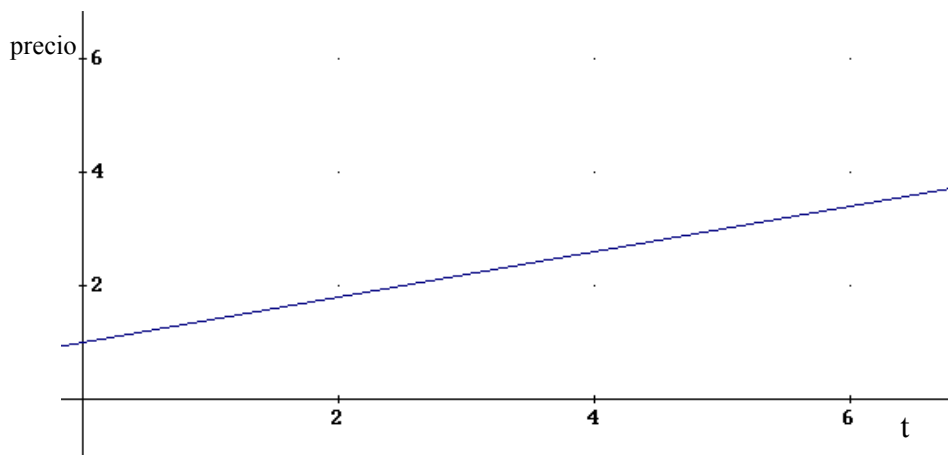
A partir de la expresión analítica es posible de obtener la gráfica, no siempre es cierta la afirmación en el otro sentido.

Veamos algún ejemplo:

- a) La posición en un movimiento uniformemente acelerado  $s=s_0+v_0\cdot t+\frac{1}{2}at^2$ . Por ejemplo si  $s_0=10\text{m}$ ,  $v_0=5\text{m/s}$ ,  $a=-10\text{m/s}^2 \rightarrow s=10+5t-5t^2$ . Tendremos que la variable independiente es el tiempo (t) y la dependiente el espacio (s):



- b) Factura del taxi: 1€por bajar la bandera y 0,4€/min  $\rightarrow p=1+0,4\cdot t$ . Donde la variable independiente es el tiempo y la dependiente el precio



### 1.2.3. Mediante tabla de valores:

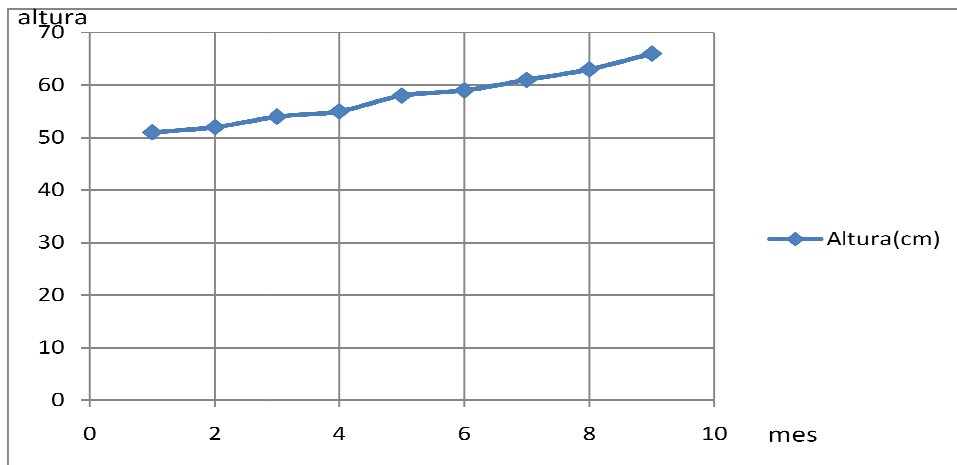
Aunque no es la forma deseada de conocer una función, a veces esta viene dada por tabla de valores, que son un conjunto de pares de valores (x,y) de la función.

**Ejemplo:** La siguiente tabla de valores muestra la evolución del crecimiento de un bebé durante los primeros meses de vida.

Meses	1	2	3	4	5	6	7	8	9
Altura(cm)	51	52	54	55	58	59	61	63	66

Decimos que no es la mejor forma de conocer la función pues ¿Qué altura tendrá cuando ha pasado 8 meses y medio?.

Se puede obtener una gráfica aproximada uniendo los puntos, aunque hay infinitas formas de unir estos puntos, se suelen unir por rectas:



### 1.2.4. Cálculo del dominio de una función

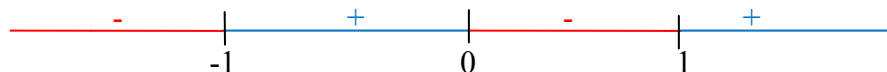
Gráficamente se ve claramente el dominio, ya que son los valores de  $x$  que toma la función. Veamos el dominio a partir de la expresión analítica. Recordemos que el dominio son los valores de  $x$  donde existe la función. En las funciones para estudiar el dominio tenemos que ver los siguientes casos:

- a) *Funciones con denominadores*: los valores de  $x$  que anulan el denominador no pertenecen al dominio (no se puede dividir entre cero)

*Ejemplo*:  $y=f(x)=\frac{2x^2}{x^2-1}$  → veamos los valores de  $x$  que anulan el denominador:  $x^2-1=0 \rightarrow x=\pm 1$ . Luego el dominio serán todos los reales menos  $\pm 1$   
 $\text{Dom}(f(x))=\mathbb{R}-\{-1,1\}=(-\infty,-1)\cup(-1,1)\cup(1,\infty)$

- b) *Raíces de índice par*: el radicando debe de ser siempre positivo o cero, pues no existen las raíces con índice par con radicando negativo (por ejemplo  $y=\sqrt{-2}$ ). Para estudiar el dominio tenemos que resolver una inecuación:

*Ejemplo*:  $y=g(x)=\sqrt{x^3-x}$  :  
 $(x^3-x)\geq 0 \rightarrow x\cdot(x+1)\cdot(x-1)\geq 0$



$\text{Dom}(g(x))=[-1,0]\cup[1,\infty)$

- c) *Logaritmos*: el argumento debe de ser positivo, ya que no hay ninguna potencia tal que un número positivo elevado a este sea negativo o cero. Al igual que con las raíces hay que resolver una inecuación.

*Ejemplo*:  $y=h(x)=\log(x+3)$   
 $x+3>0 \rightarrow x>-3 \rightarrow \text{Dom}(h(x))=(-3,\infty)$

**Ejercicio 2:** estudiar el dominio de las siguientes funciones:

a)  $y=f(x)=\sqrt{\frac{x\cdot(x-1)}{x+2}}$

b)  $y=g(x)=\log\left(\frac{x}{x-1}\right)$

c)  $y=h(x)=\sqrt[3]{\frac{x^2+1}{x-3}}$

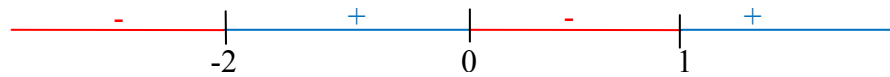
d)  $y=i(x)\begin{cases} x^2 & x < 3 \\ -x+2 & 5 < x \leq 10 \\ x^2+1 & x > 10 \end{cases}$

**Solución**

a) Se tiene que cumplir:

-  $x+2 \neq 0 \rightarrow -2 \notin \text{dom}(f(x))$

-  $\frac{x\cdot(x-1)}{x+2} \geq 0$



$\text{Dom}(f(x))=(-2,0] \cup [1,\infty)$

b) Se tiene que cumplir:

-  $x-1 \neq 0 \rightarrow 1 \notin \text{dom}(f(x))$

-  $\frac{x}{x-1} > 0$



$\text{Dom}(g(x))=(-\infty,0) \cup (1,\infty)$

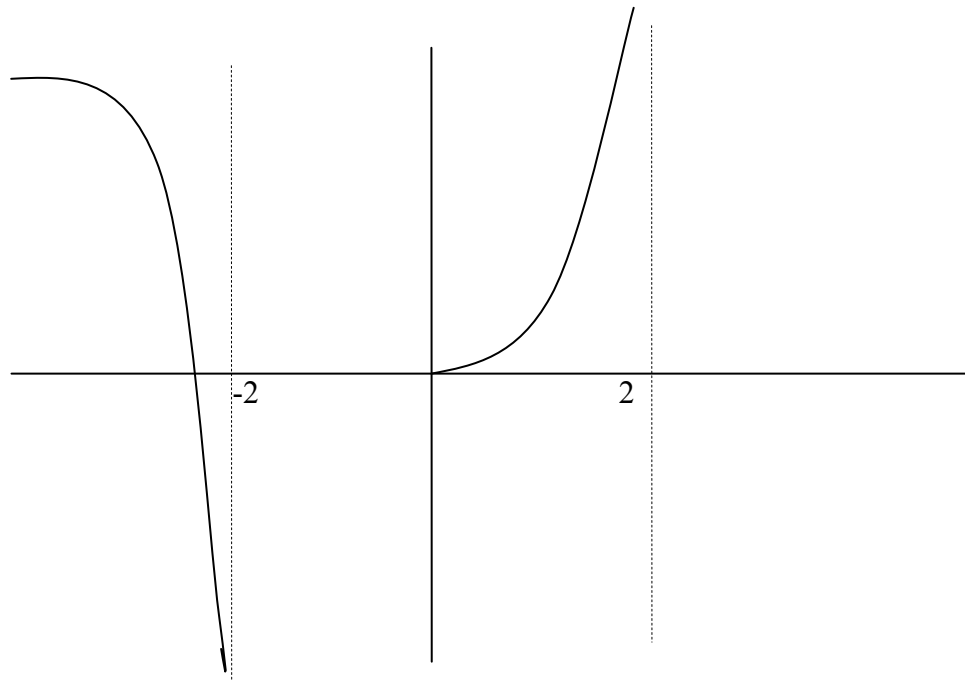
c) Es una raíz impar luego lo único que se tiene que cumplir es:

-  $x-3 \neq 0 \rightarrow \text{dom}(h(x))=\mathbb{R}-\{3\}$

d) La función no definida en  $[3,5]$  luego el dominio es:

$\text{Dom}(i(x))=(-\infty,3) \cup (5,\infty)$

**Ejercicio 3:** Estudiar dominio de la función definida por la siguiente gráfica:



$$\text{Dom}(f(x)) = (-\infty, -2) \cup [0, 2)$$

## 2. Continuidad y discontinuidad de una función

**Definición de continuidad:** una función se dice continua en un punto cuando una pequeña variación de la variable independiente ( $x$ ) supone una pequeña variación de la variable dependiente ( $y$ ). Gráficamente ocurre cuando al trazar la gráfica de la función “no levantamos el bolígrafo del papel”. En el tema 11 veremos una definición más precisa de la continuidad.

**Definición de discontinuidad:** cuando una función no es continua en un punto entonces es discontinua en ese punto.

## 3. Monotonía: crecimiento y decrecimiento, puntos relativos

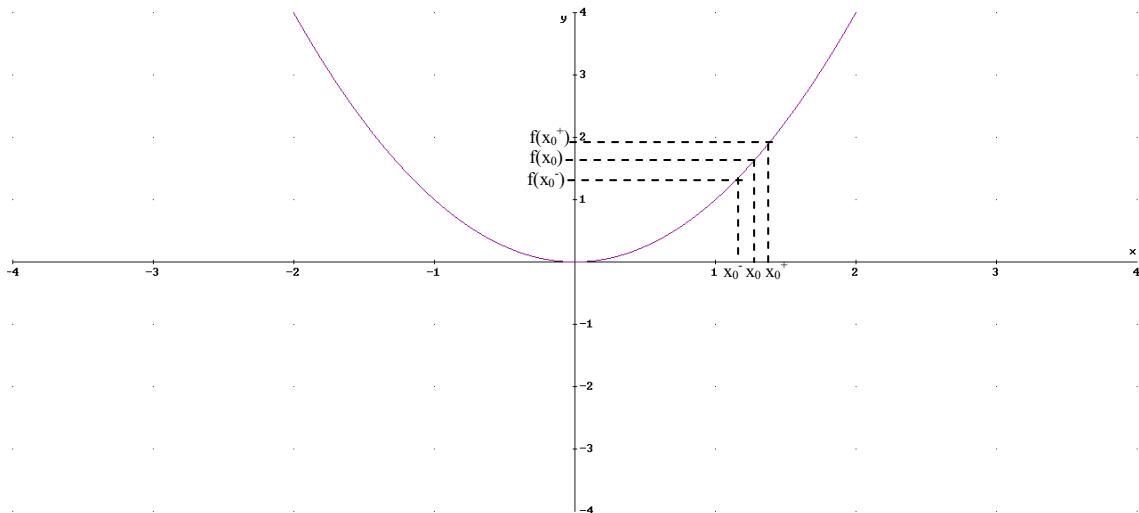
### 3.1 Monotonía: crecimiento y decrecimiento

Estudiar la monotonía de una función consiste en ver en los puntos del dominio donde esta función crece o decrece. Veamos matemáticamente cuando una función crece o decrece en un punto y en un intervalo:

**Definición:** una función  $f(x)$  es **creciente** en un punto  $x_0$  si se cumple:

- El valor de la función infinitamente próximo y menor de  $x_0$  cumple:  $f(x_0) > f(x_0^-)$
- El valor de la función infinitamente próximo y mayor de  $x_0$  cumple:  $f(x_0) < f(x_0^+)$

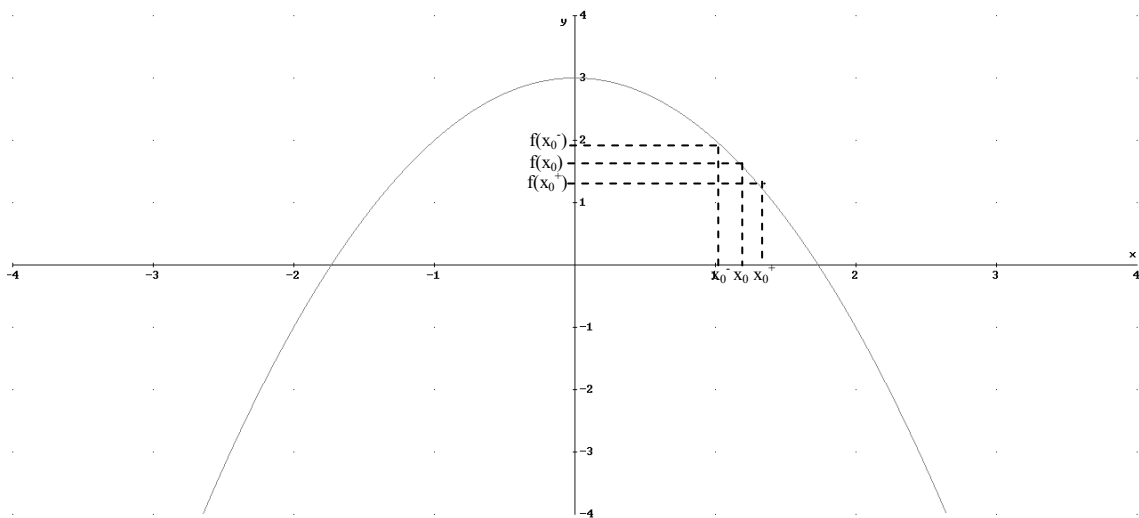




**Definición:** una función es creciente en un intervalo  $(a,b)$  si se cumple que es creciente en todos los puntos del intervalo, tal que para todo  $x_1, x_2 \in (a,b)$  tal que  $x_1 < x_2 \rightarrow f(x_1) < f(x_2)$

**Definición:** una función  $f(x)$  es **decreciente** en un punto  $x_0$  si se cumple:

- El valor de la función infinitamente próximo y menor de  $x_0$  cumple:  $f(x_0) < f(x_0^-)$
- El valor de la función infinitamente próximo y mayor de  $x_0$  cumple:  $f(x_0) > f(x_0^+)$



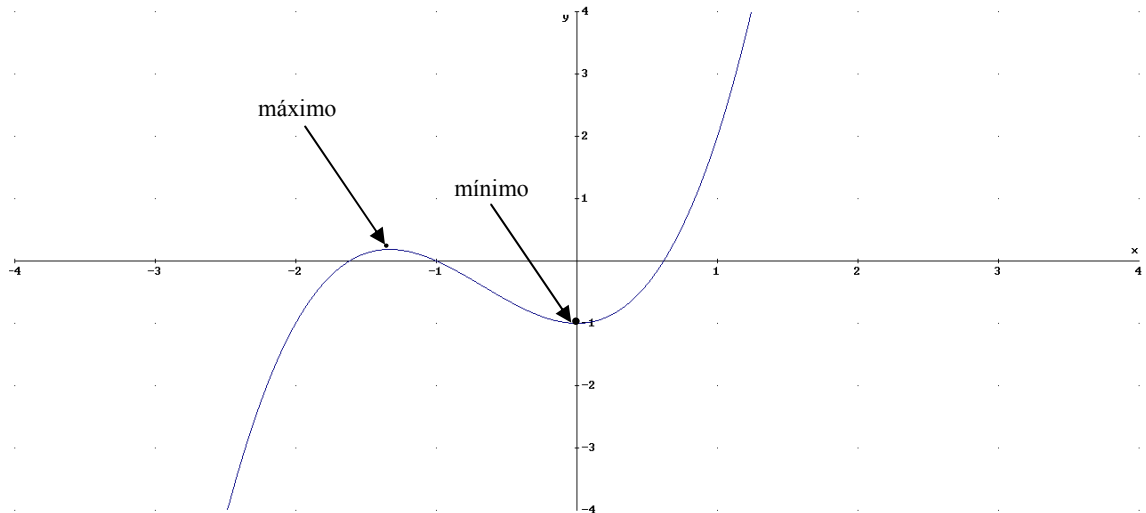
**Definición:** una función es decreciente en un intervalo  $(a,b)$  si se cumple que es decreciente en todos los puntos del intervalo, tal que para todo  $x_1, x_2 \in (a,b)$  tal que  $x_1 < x_2 \rightarrow f(x_1) > f(x_2)$

### 3.2 Puntos relativos

**Definición:** un punto relativo a  $f(x)$  es un punto perteneciente a la función en donde dicha función ni crece ni decrece, puede ser de dos tipos:

- a) **Máximo relativo:** en un entorno próximo al punto por la izquierda la función crece y en un entorno por la derecha la función decrece:  
 $f(x_0) > f(x_0^-)$  y  $f(x_0) > f(x_0^+)$

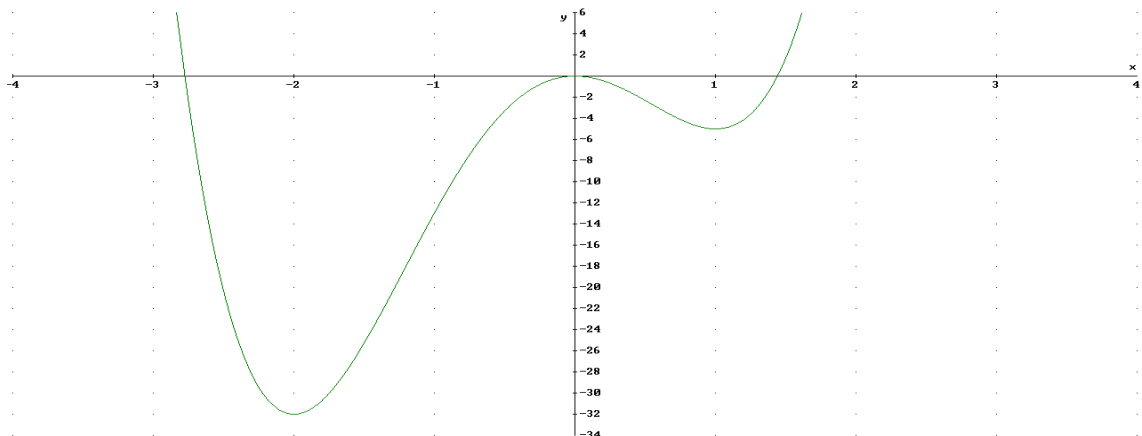
- b) **Mínimo relativo:** en un entorno próximo al punto por la izquierda la función decrece y en un entorno por la derecha la función crece  
 $f(x_0) < f(x_0^-)$  y  $f(x_0) < f(x_0^+)$



**Ejemplo:** estudiar ayudándote de la calculadora si en los puntos  $x=-3, -2, -1, 0$  la función  $f(x) = 3x^4 + 4x^3 - 12x^2$  es creciente, decreciente, máximo mínimo relativo

- a)  $x=-3 \rightarrow f(-3)=27$ ;  
 $f(-3^-)=f(-3.001)=27.14$   
 $f(-3^+)=f(-2.99)=25.57$   
 $f(-3^+) < f(-3) < f(-3^-) \rightarrow$  en  $x=-3$  la función decrece
- b)  $x=-2 \rightarrow f(-2)=-32$   
 $f(-2^-)=f(-2.001)=-31.99$   
 $f(-2^+)=f(-1.99)=-31.99$   
 $f(-2^+) > f(-2)$  y  $f(-2^-) > f(-2) \rightarrow$  en  $x=-2$  mínimo relativo  $m(-2, -32)$
- c)  $x=-1 \rightarrow f(-1)=-13$   
 $f(-1^-)=f(-1.001)=-13.02$   
 $f(-1^+)=f(-0.99)=-12.76$   
 $f(-1^+) > f(-1) > f(-1^-) \rightarrow$  en  $x=-1$  la función crece
- d)  $x=0 \rightarrow f(0)=0$   
 $f(0^-)=f(-0.001)=-1.2 \cdot 10^{-5}$   
 $f(0^+)=f(0.001)=-1.2 \cdot 10^{-5}$   
 $f(0^+) < f(0)$  y  $f(0^-) < f(0) \rightarrow$  en  $x=0$  Máximo relativo  $M(0, 0)$

**Ejercicio 3:** estudiar la monotonía y los puntos relativos de la función  $f(x)=3x^4+4x^3-12x^2$  cuya gráfica es:



Creciente:  $(-2,0) \cup (1,\infty)$

Decreciente:  $(-\infty,-2) \cup (0,1)$

Puntos relativos:

- Máximos:  $M(0,0)$

- Mínimos:  $m_1(-2,f(-2))=(-2,-32)$ ,  $m_2(1,f(1))=(1,-5)$

#### 4. Curvatura de una función, concavidad, convexidad y punto de inflexión.

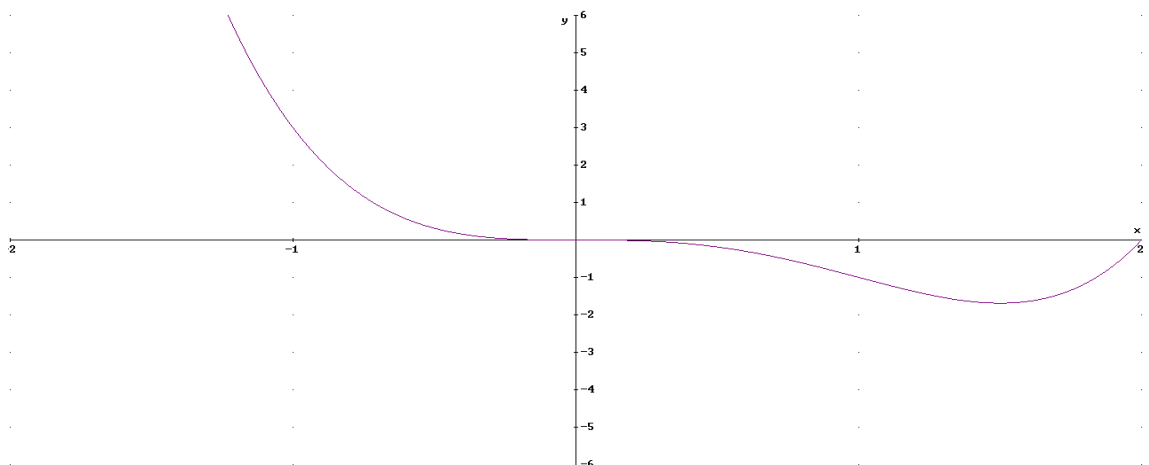
La curvatura se centra en el estudio de la forma de la función, así en un punto puede ocurrir que la función sea:

- **Concava:** si dibujamos la recta tangente en el punto se cumple que la recta por debajo de la función. Tiene forma de  $\cup$

- **Convexa:** si dibujamos la recta tangente en el punto se cumple que la recta por encima de la función. Tiene forma de  $\cap$

- **Punto de Inflexión:** cuando pasa de cóncava a convexa o al revés.

**Ejemplo:** estudiar la curvatura de la siguiente función  $f(x)=x^4-2x^3$



Concavidad:  $(-\infty, 0) \cup (1, \infty)$

Convexidad:  $(0, 1)$

Puntos de inflexión:  $P_1(0, 0)$ ,  $P_2(1, -1)$

## 5. Simetría y Periodicidad

### 5.1 Simetría

La simetría de una función se refiere al comportamiento de la función con respecto al origen y al eje OY. Atendiendo a esto tenemos que la función puede ser:

- Simétrica par o respecto el eje OY:** la función se comporta igual a la izquierda y derecha del eje OY, es como si este fuera un espejo. Se cumple  $f(x)=f(-x)$
- Simetría impar o respecto del origen:** la parte izquierda del eje OY de la gráfica es equivalente al de la derecha pero cambiando de signo. Se cumple  $-f(x)=f(-x)$
- No simétrica** cuando no es par ni impar:

**Ejemplo:** estudiar la simetría de las siguientes funciones

a)  $f(x)=x^2-4$

b)  $g(x)=x^3-x$

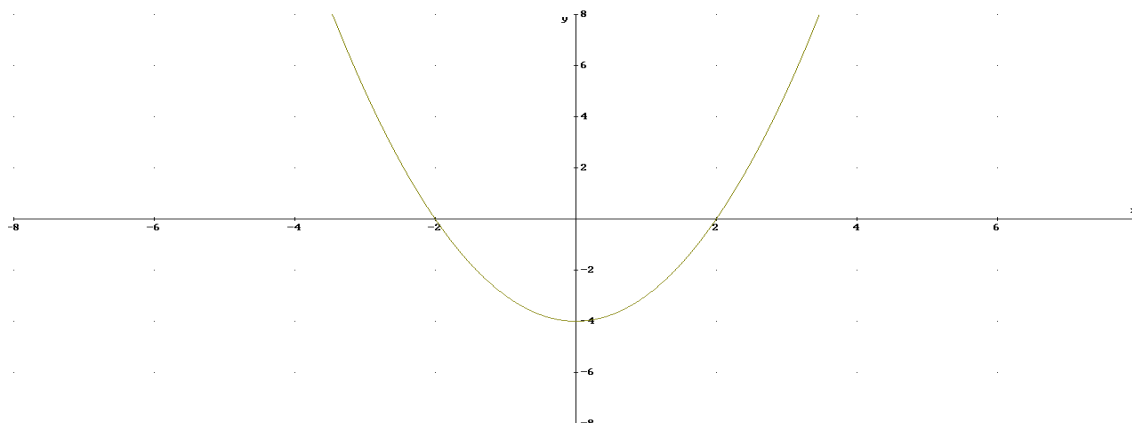
c)  $h(x)=x^2-6x+3$

a)  $f(-x)=(-x)^2-4=x^2-4=f(x) \rightarrow$  simetría par o respecto eje OY

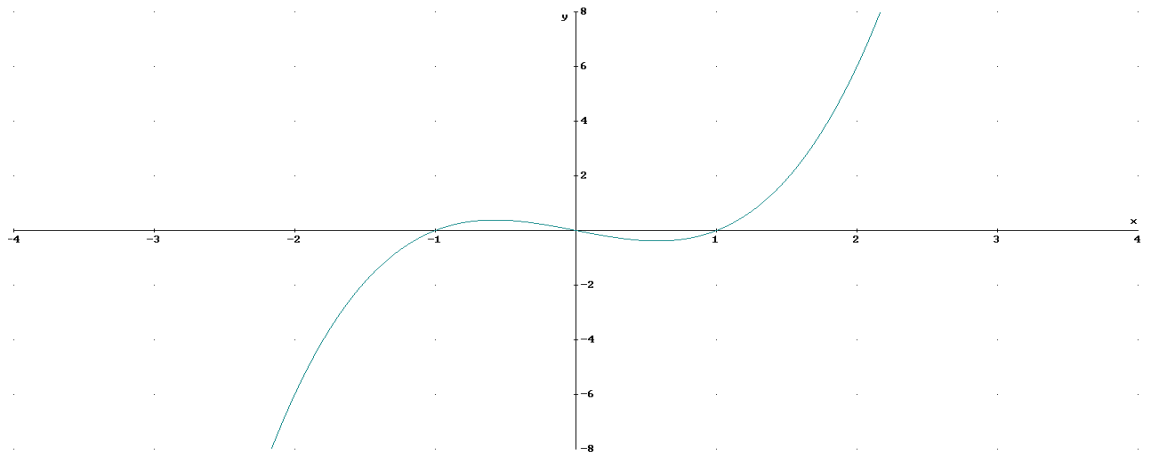
b)  $g(-x)=(-x)^3-(-x)=-x^3+x=-g(x) \rightarrow$  simetría impar o respecto el origen

c)  $h(x)=(-x)^2-6(-x)+3=x^2+6x+3 \neq h(x)$  y  $h(-x) \neq h(x)$

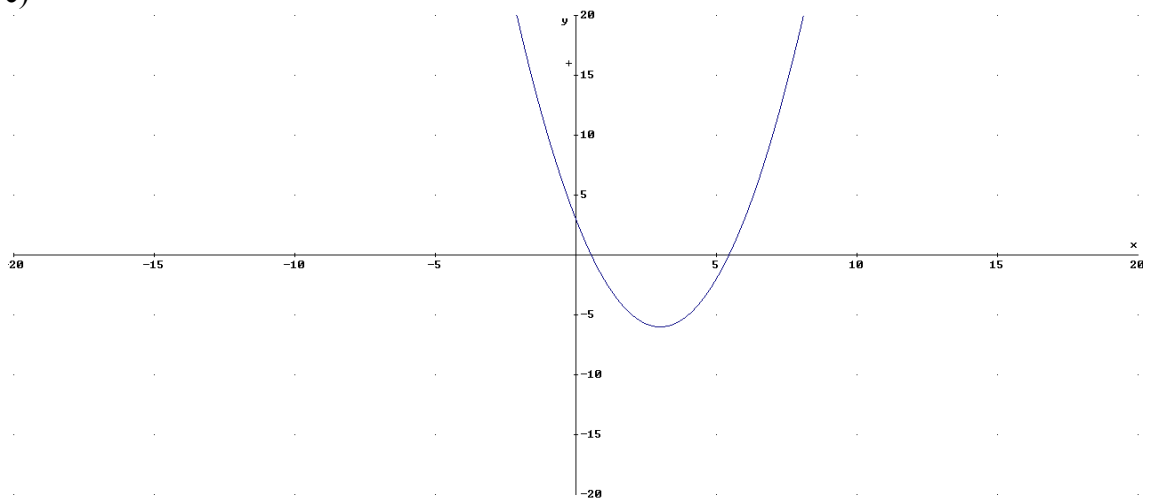
a)



b)



c)



**Ejercicio 4:** Decir si las siguientes funciones son simétricas o no, en caso afirmativo indica el tipo de simetría:

a)  $f(x) = \frac{x^3 - 3x}{2x^2 - 1}$

b)  $f(x) = \frac{x^3 - 3x}{2x^5 - x}$

c)  $f(x) = \frac{2x^4 - 3}{2x^2 + 3}$

d)  $f(x) = \frac{x^3 - 3}{2x^2 - 1}$

a)  $f(-x) = \frac{(-x)^3 - 3(-x)}{2(-x)^2 - 1} = \frac{-(x^3 - 3x)}{2x^2 - 1} = -f(x) \rightarrow$  Simetría Impar

b)  $f(-x) = \frac{-(x^3 - 3x)}{-(2x^5 - x)} = f(x) \rightarrow$  Simetría Par

c)  $f(-x) = \frac{+(2x^4 - 3)}{+(2x^2 + 3)} = f(x) \rightarrow$  Simetría Par

d)  $f(-x) = \frac{-x^3 - 3}{2x^2 - 1} \neq \frac{f(x)}{-f(x)} \rightarrow$  No simetría

### Conclusión funciones racionales:

- a) Si numerador y denominador los dos simétricos con misma simetría, la función tiene simetría par
- b) Si numerador y denominador los dos simétricos con distinta simetría, la función tiene simetría impar.
- c) Si o bien numerador o bien denominador no simétricos la función no tiene simetría.

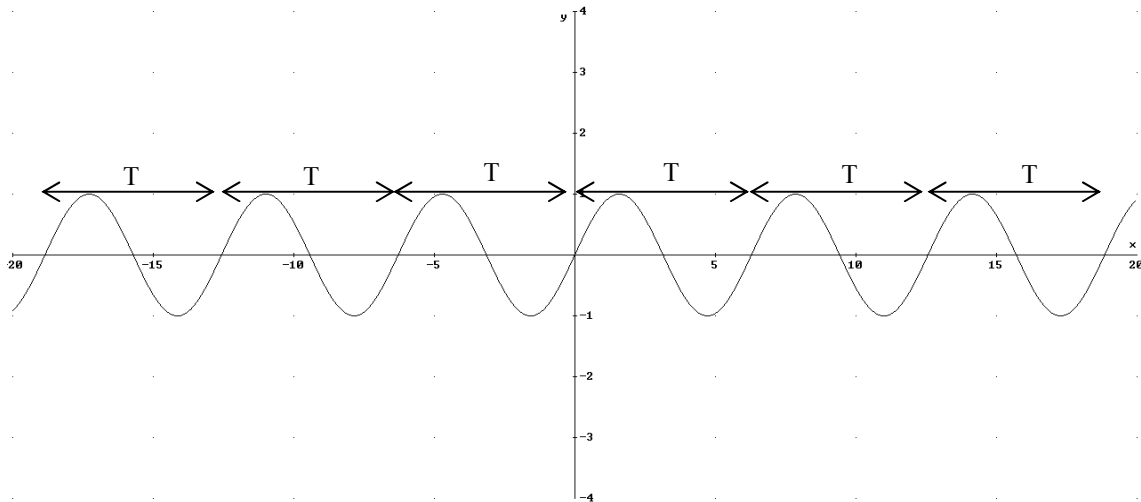
### 5.2 Periodicidad

**Definición:** una función  $f(x)$  es periódica cuando su comportamiento se repite cada vez que la  $x$  aumenta o disminuye un cierto intervalo. El mínimo intervalo en el que se repite la función se llama periodo ( $T$ ).

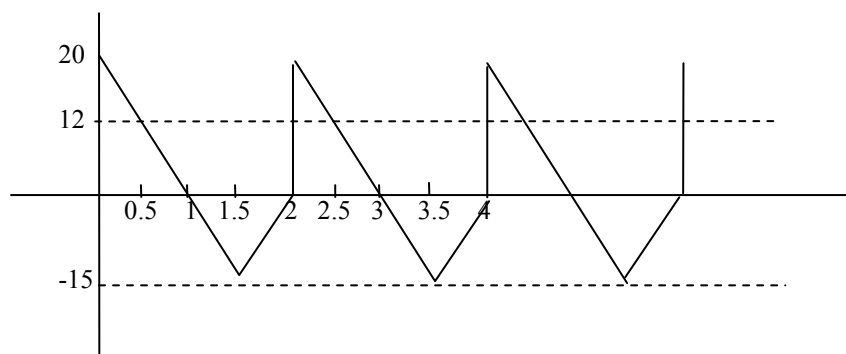
Matemáticamente:  $f(x+n \cdot T)=f(x)$  con  $n \in \mathbb{N}$

**Ejemplo:**  $f(x)=\text{sen}(x)$  (en radianes)  $\rightarrow f(x)=f(x+n \cdot 2\pi)$

$$T=2 \cdot \pi$$



**Ejercicio 5:** calcular el periodo y el valor de la función cuando  $x=17, 40.5, 69.5$



- a) El periodo es  $T=2s$
- b)  $\text{resto}(17:2)=1 \rightarrow 17=1+2 \cdot 8 \rightarrow f(17)=f(1)=0$   
 $\text{resto}(40.5:2)=0,5 \rightarrow 40=2 \cdot 20+0,5 \rightarrow f(40.5)=f(0.5)=12$   
 $\text{resto}(69.5:2)=1,5 \rightarrow 69.5=1,5+2 \cdot 34 \rightarrow f(69.5)=f(1.5)=-15$

## 6. Tendencias, asíntotas

Las tendencias de una función consiste en el estudio del comportamiento de la función, cuando la variable independiente ( $x$ ) tiende a  $+\infty$  y  $-\infty$ .

**Definición:** una asíntota es una recta a la que la función se acerca infinitamente sin llegar a ella. Podemos distinguir entre las siguientes asíntotas:

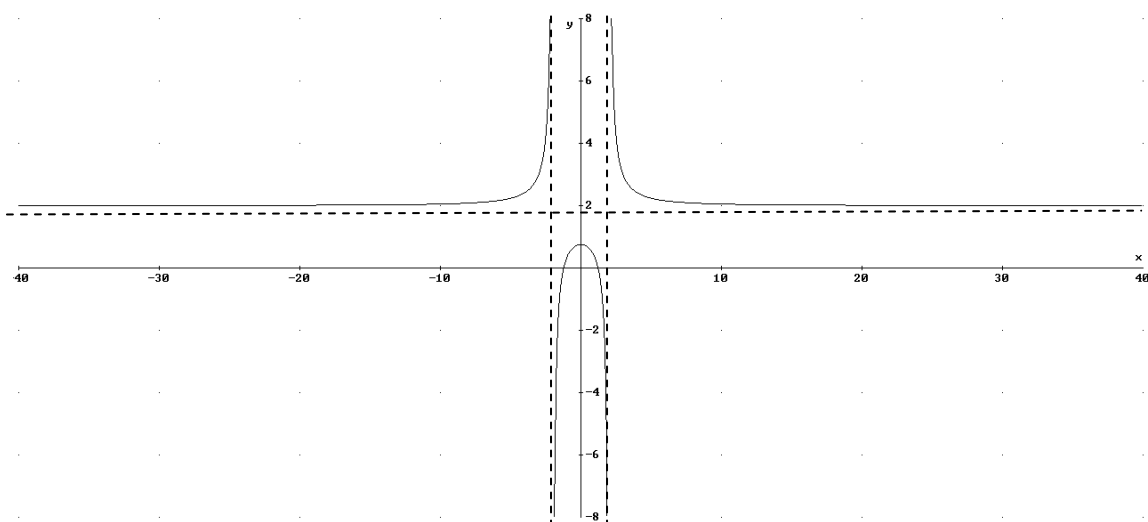
- **Vertical:** La recta es de la forma  $x=a$ , con lo que es una recta paralela al eje OY. Ocurre cuando se anula el denominador de una función
- **Horizontal:** la recta es de la forma  $y=b$ , con lo que la recta es paralela al eje OX. Ocurre cuando al tender a  $x \rightarrow +\infty$  y  $-\infty$ , la función tiende al valor  $b$ .
- **Oblicua:** la recta es de la forma  $y=mx+n$ .

**Ejemplo:** Estudiar asíntotas y dibujar la gráfica de  $f(x) = \frac{2x^2 - 3}{x^2 - 4}$

a) Asíntota vertical  $x=2$ ,  $x=-2$ :

$f(2^+) = f(2,0001) = 1,3 \cdot 10^4$  tiende a  $\infty$ ,  $f(2^-) = f(1,9999) = -1,2 \cdot 10^4$  luego tiende a  $-\infty$   
 $f(-2^-) = f(-2,0001) = 1,3 \cdot 10^4$  tiende a  $\infty$ ,  $f(-2^+) = f(-1,9999) = -1,2 \cdot 10^4$  luego tiende a  $-\infty$

b) Asíntota horizontal  $f(9999) \approx 2$ ,  $f(-9999) \approx 2$   $\lim_{x \rightarrow \pm\infty} \frac{2x^2 - 3}{x^2 - 4} = 2 \rightarrow y=2$



**Ejercicio 6:** Estudiar asíntotas y dibujar la gráfica de  $f(x) = \frac{x^2 - 3}{x + 1}$

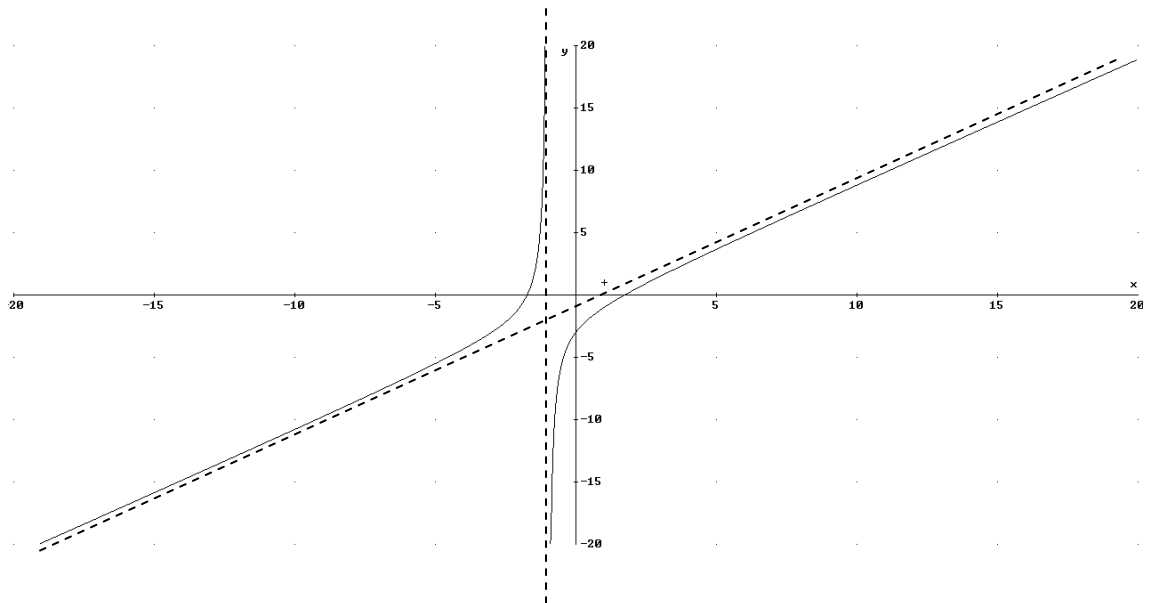
Tiene asíntota vertical en  $x=-1$ .

$f(-1^-) = f(-1,0001) = 2 \cdot 10^4$  tiende a  $\infty$ ;  $f(-1^+) = f(-0,9999) = -2 \cdot 10^4$  tiende a  $-\infty$

Veamos cuando  $x \rightarrow \pm\infty$

si  $x \rightarrow \infty$   $f(9999) \approx 9998$  y si  $x \rightarrow -\infty$   $f(-9999) \approx -1000$

La función tiende a  $+\infty$  si  $x \rightarrow \infty$  y a  $-\infty$  si  $x \rightarrow -\infty$ . Pero viendo los resultados podemos ver que crece de forma lineal, de tal manera que a la  $x$  le hace corresponder en el límite un valor de  $y$  una unidad menor que  $x$ . Esta función tiene asíntota oblicua  $y=x-1$



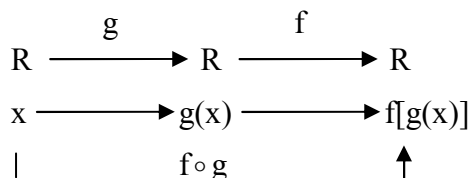
**Nota:** en el tema 11 veremos una forma más matemática de calcular las asíntotas a partir de los límites.

## 7. Composición de funciones

**Definición:** sean  $f(x)$  y  $g(x)$  dos funciones reales con variable real, se llama función compuesta de  $f$  con  $g$ , y se denota como  $f \circ g$ , a la función definida de la siguiente forma:

$$(f \circ g)(x) = f[g(x)]$$

Veamos gráficamente el resultado de la composición



La composición por lo general no cumple la propiedad conmutativa, es decir:

$$(f \circ g)(x) \neq (g \circ f)(x)$$

**Ejemplo:** sean las siguientes funciones  $f(x) = x^2 - 2x + 1$ ,  $g(x) = \text{sen}(x)$ ,  $h(x) = e^x$ . Calcular

- $(f \circ g)(x) \rightarrow (f \circ g)(x) = f[g(x)] = \text{sen}^2(x) - 2 \cdot \text{sen}(x) + 1$
- $(g \circ f)(x) \rightarrow (g \circ f)(x) = g[f(x)] = \text{sen}(x^2 - 2x + 1)$
- $(f \circ h)(x) \rightarrow (f \circ h)(x) = f[h(x)] = e^{2x} - 2e^x + 1$

**Ejercicio 7.** Calcular las siguientes composiciones (tomar  $f$ ,  $g$  y  $h$  del ejemplo)

- $(h \circ f)(x) \rightarrow (h \circ f)(x) = h[f(x)] = e^{x^2 - 2x + 1}$
- $(g \circ h)(x) \rightarrow (g \circ h)(x) = g[h(x)] = \text{sen}(e^x)$
- $(h \circ g)(x) \rightarrow (h \circ g)(x) = h[g(x)] = e^{\text{sen}(x)}$



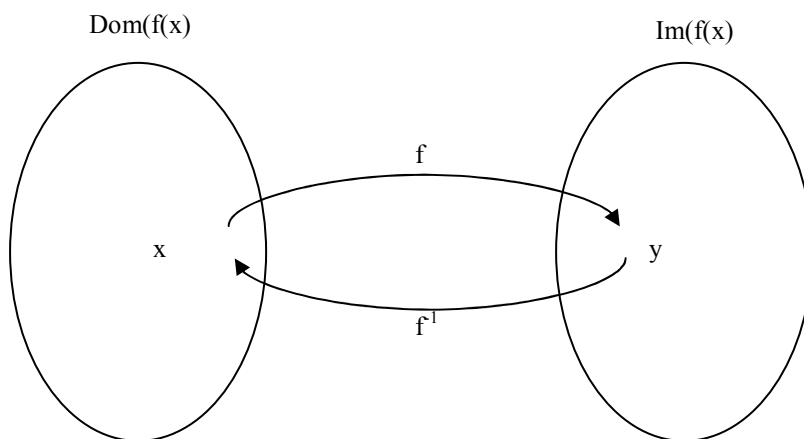
## 8. Función inversa

### 8.1 Definición de inversa

**Definición:** Sea una función  $f(x)$  inyectiva (para cada valor de  $y$  sólo un valor de  $x$ ), la función inversa, que se denota como  $f^{-1}(x)$ , es una función que cumple:

$$(f \circ f^{-1})(x) = (f^{-1} \circ f)(x) = i(x) = x$$

Veamos gráficamente el significado de la inversa:



Procedimiento para el cálculo de la inversa de  $y=f(x)$ . Pasos

- 1) Cambiar  $y$  por  $x \rightarrow x=f(y)$
- 2) Despejar  $y$  en función de  $x$
- 3)  $y=f^{-1}(x)$

**Ejemplo:**  $y=f(x)=\frac{x}{x+1}$

- 1)  $x=\frac{y}{y+1}$
- 2)  $x(y+1)=y \rightarrow y(1-x)=x \rightarrow y = \frac{x}{1-x}$
- 3)  $f^{-1}(x)=\frac{x}{1-x}$

Comprobación:  $(f \circ f^{-1})(x) = \frac{\frac{x}{1-x}}{1+\frac{x}{1-x}} = \frac{\frac{x}{1-x}}{\frac{1-x+x}{1-x}} = \frac{x}{1-x} \cdot \frac{1-x}{1} = x$

- $f(1)=1/2 \rightarrow f^{-1}(1/2)=1$
- $f(2)=2/3 \rightarrow f^{-1}(2/3)=2$

**Ejercicio 8.** Calcular la inversa de las siguientes funciones: a)  $f(x)=3x-1$ , b)  $g(x)=e^x$

Solución :

a)  $f^{-1}(x)=\frac{x+1}{3}$

b)  $g^{-1}(x)=\ln(x)$

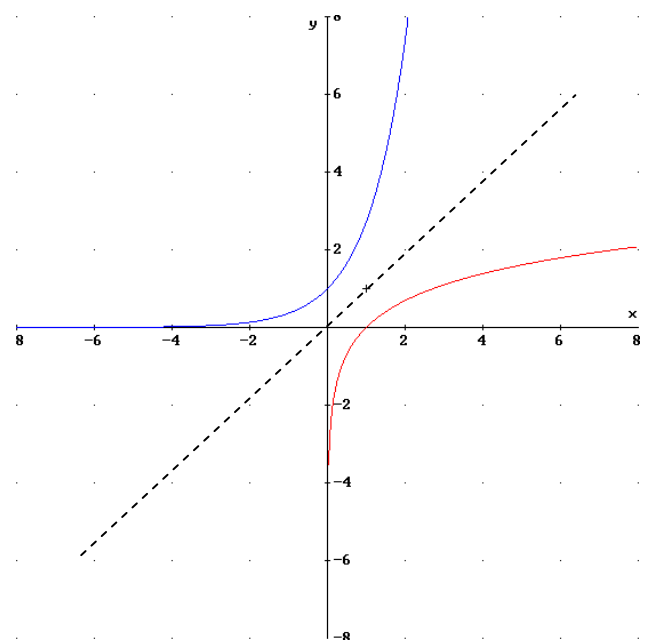
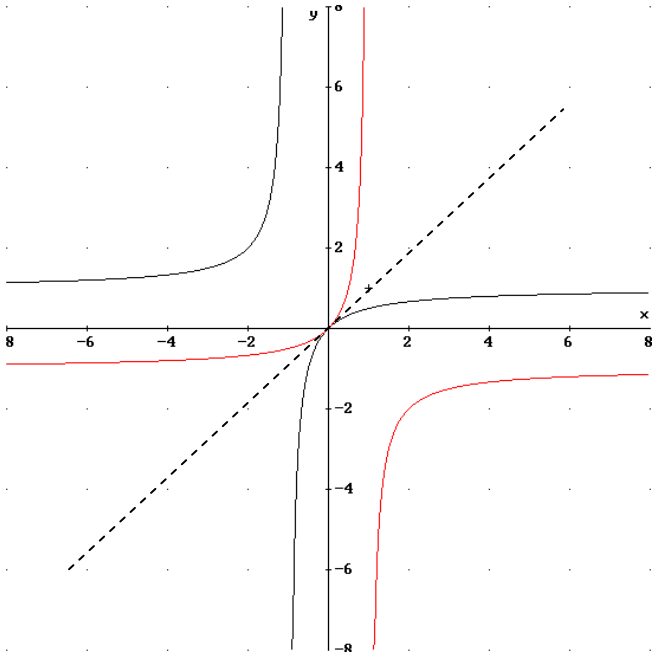
## 8.2. Gráficas funciones inversas

Las gráficas de toda función  $f(x)$  y de su inversa  $f^{-1}(x)$  son simétricas respecto a la recta  $y=x$ .

Veamos algunos ejemplos:

$$f(x)=\frac{x}{x+1} \text{ y } f^{-1}(x)=\frac{x}{1-x}$$

$$g(x)=e^x \text{ y } g^{-1}(x)=\ln(x)$$



## Ejercicios finales

**Ejercicio 9.** Determina el dominio de las siguientes funciones:

a.  $f(x) = \sqrt{x^2 - 4x + 3}$

b.  $g(x) = \frac{x^3 - 3x}{x^2 - 100}$

c.  $h(x) = \sqrt{\frac{-2}{x^3 + 2x^2 + x}}$

d.  $i(x) = \ln\left(\frac{x+3}{x-1}\right)$

### Solución

a) Al ser una raíz de índice par  $x^2 - 4x + 3 \geq 0$ :

$$x^2 - 4x + 3 = 0 \rightarrow x = 3 \text{ y } x = 1$$



$$\text{Dom}(f(x)) = (-\infty, 1] \cup [3, \infty)$$

b) Al tener denominador se debe de cumplir que este no se anule.

$$x^2 - 100 \neq 0 \rightarrow x \neq \pm 10. \text{ Dom}(g(x)) = \mathbb{R} - \{10, -10\}$$

c) Tenemos que la función es una raíz cuadrada, luego el radical ha de ser positivo o cero, por otro lado el denominador no puede ser nulo:

$$x^3 + 2x^2 + x = x(x+1)^2 = 0 \rightarrow x = 0, x = -1.$$



$$\text{Dom}(h(x)) = (-\infty, -1) \cup (-1, 0)$$

d) La función es un logaritmo, luego el argumento ha de ser positivo, además el denominador no puede ser cero:

$$\frac{x+3}{x-1} > 0 \text{ y } x \neq 1$$



$$\text{Dom}(i(x)) = (-\infty, -3) \cup (1, \infty)$$

**Ejercicio 10.** Estudia la simetría de las siguientes funciones:

a)  $f(x)=x^3-7x$

b)  $h(x)=x^6-2x^4-5$

c)  $i(x)=x^3+2x-3$

d)  $g(x) = \frac{x^3-3x}{x^2-100}$

**Solución**

a)  $f(-x)=-x^3+7x=-f(x) \rightarrow$  simetría impar

b)  $h(-x)=x^6-2x^4-5=h(x) \rightarrow$  simetría par

c)  $i(-x)=-x^3-2x-3 \neq i(x), -i(x) \rightarrow$  no simétrica

d)  $g(-x)=\frac{-x^3+3x}{x^2-100} = -\frac{x^3-3x}{x^2-100} = -g(x) \rightarrow$  simetría impar

**Ejercicio 11:** Estudia las asíntotas de las siguientes funciones

a)  $f(x) = \frac{x^3-3x}{x^2-100}$

b)  $g(x)=\frac{x^2-3}{x^3}$

**Solución**

a) **Asíntotas verticales:** donde se anula el denominador  $\rightarrow x^2-100=0 \rightarrow x=\pm 10$

Asíntota  $x=-10$ , veamos si cuando  $x$  se acerca a  $-10$  tiende a más o menos infinito:

$$x \rightarrow -10^- \quad f(-10^-)=f(-10,0001)=-4.85 \cdot 10^5 \text{ luego } y \rightarrow -\infty$$

$$x \rightarrow -10^+ \quad f(-10^+)=f(-9.9999)=4.85 \cdot 10^5 \text{ luego } y \rightarrow +\infty$$

Asíntota  $x=10$ , veamos si cuando  $x$  se acerca a  $10$  tiende a más o menos infinito:

$$x \rightarrow 10^+ \quad f(10^+)=f(10,0001)=4.85 \cdot 10^5 \text{ luego } y \rightarrow \infty$$

$$x \rightarrow 10^- \quad f(10^-)=f(9.9999)=-4.85 \cdot 10^5 \text{ luego } y \rightarrow -\infty$$

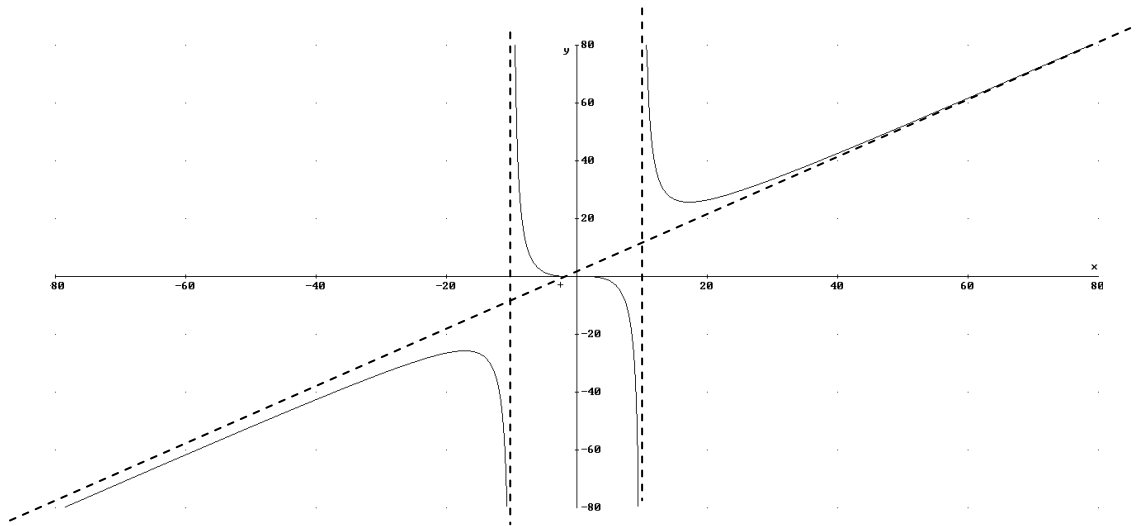
**Asíntotas horizontales y oblicuas:**

Veamos hacia qué valor tiende la función cuando  $x \rightarrow \pm \infty$

Si  $x \rightarrow \infty$ :  $f(9999) \approx 9999$  tiende a  $+\infty$  pero de tal forma que  $y=x$

Si  $x \rightarrow -\infty$ :  $f(-9999) \approx -9999$  tiende a  $-\infty$  pero de la forma  $y=x$

Luego la asíntota es oblicua  $y=x$



b) **Asíntotas verticales:** donde se anula el denominador  $\rightarrow x^3=0 \rightarrow x=0$

Asíntota  $x=0$ , veamos si cuando  $x$  se acerca a 0 tiende a más o menos infinito:

$$x \rightarrow 0^- \quad f(0^-) = f(-0,0001) = 3 \cdot 10^{12} \text{ luego } y \rightarrow \infty$$

$$x \rightarrow 0^+ \quad f(0^+) = f(0,00001) = -3 \cdot 10^{12} \text{ luego } y \rightarrow -\infty$$

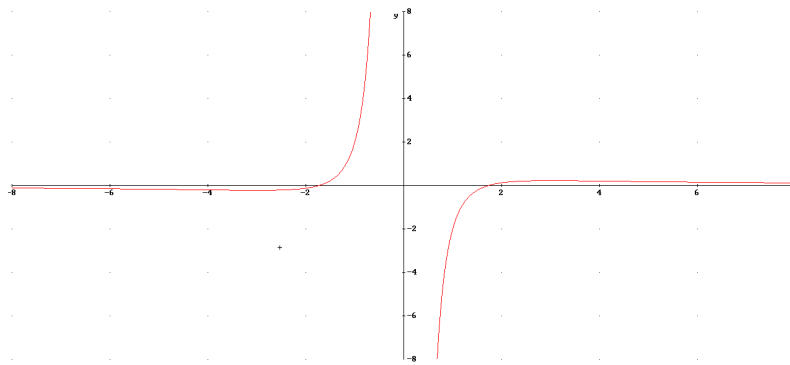
**Asíntotas horizontales y oblicuas:**

Veamos hacia qué valor tiende la función cuando  $x \rightarrow \pm\infty$

Si  $x \rightarrow \infty$ :  $f(9999) \approx 0,0001$  tiende a 0 .

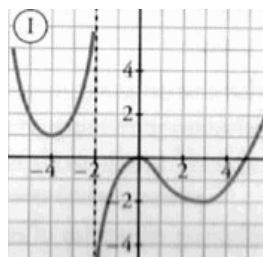
Si  $x \rightarrow -\infty$ :  $f(-9999) \approx -0,00001$  tiende a 0.

Luego la asíntota es horizontal  $y=0$



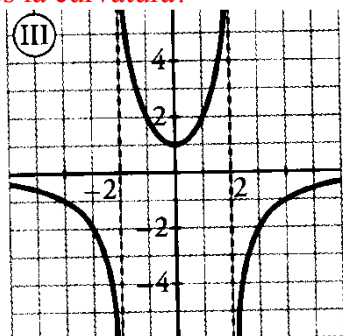
**Ejercicio 12:** Dibuja la gráfica de la función que cumple

- Asíntota vertical en  $x=-2$
- Creciente en  $(-4,-2) \cup (-2,0) \cup (3,\infty)$  y decreciente en  $(-\infty,-4) \cup (0,3)$
- Mínimo en  $(-4,1)$  y  $(3,-2)$ . Máximo en  $(0,0)$
- forma  $\cup$  en intervalo  $(-\infty,-2) \cup (1,\infty)$  y forma de  $\cap$  en  $(-2,1)$
- Punto de inflexión en  $(1,-1)$



**Ejercicio 13:** Ídem problema 10:

- a) Simetría par
- b) Asíntotas verticales en  $x=-2$  y  $x=2$ . Asíntota horizontal  $y=0$
- c) Decreciente en  $(-\infty,-2) \cup (-2,0)$  y creciente en  $(0,2) \cup (2,\infty)$
- d) Mínimo en  $(0,1)$
- e) ¿Cómo es la curvatura?



**Ejercicio 14:** Ídem problema 10:

- a) Simetría impar
- b) Asíntotas verticales en  $x=-1$  y  $x=1$ . Asíntota oblicua  $y=x$
- c) Creciente en  $(-\infty,-1.7) \cup (1.7,\infty)$  y decreciente en  $(-1.7,-1) \cup (-1,1) \cup (1,1.7)$
- d) Mínimo en  $(1.7, 2.6)$  y máximo en  $(-1.7,-2.6)$
- e) Punto de inflexión en  $(0,0)$
- f) ¿Cómo es la curvatura?

