




1. Suma.

9	6	7	6
5	8	7	9
<u>+4</u>	<u>+1</u>	<u>+3</u>	<u>+2</u>
<input style="width: 50px; height: 40px;" type="text"/>	<input style="width: 50px; height: 40px;" type="text"/>	<input style="width: 50px; height: 40px;" type="text"/>	<input style="width: 50px; height: 40px;" type="text"/>

2. Resta.

9	8	7	6
<u>-5</u>	<u>-2</u>	<u>-5</u>	<u>-3</u>
<input style="width: 50px; height: 40px;" type="text"/>	<input style="width: 50px; height: 40px;" type="text"/>	<input style="width: 50px; height: 40px;" type="text"/>	<input style="width: 50px; height: 40px;" type="text"/>

3. ¿Cuántos elefantes van en busca de comida?

				
<input style="width: 50px; height: 40px;" type="text"/>	+	<input style="width: 50px; height: 40px;" type="text"/>	=	<input style="width: 50px; height: 40px;" type="text"/>

4. Completa.

Con 6 decenas y 4 unidades formamos el 64.

Con 5 decenas y 7 unidades formamos el

Con 2 decenas y 5 unidades formamos el

5. Completa con signos y con letras:

< (menor), > (mayor), = (igual)

El 16 es	que el 35	16	<input type="checkbox"/>	35
El 68 es	que el 21	68	<input type="checkbox"/>	21
El 30 es	que el 30	30	<input type="checkbox"/>	30
El 93 es	que el 89	93	<input type="checkbox"/>	89

6. Ordena de mayor a menor los siguientes números.

58 12 87 61

> > >

7. Completa las series y relaciona.

10 20 30

↓ veinte cuarenta sesenta setenta
diez treinta cincuenta ochenta noventa

0 5 10

↓ diez veinte treinta treinta y cinco
cero cinco quince veinticinco cuarenta