


PRIMER TRIMESTRE

Unidad 1. Lengua


AR

Nombre y apellidos:

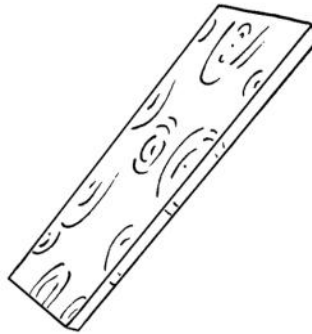
Curso: Fecha:

 Completa el abecedario.

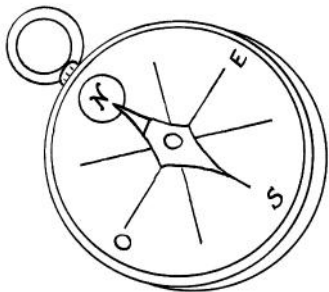
a	-	b	-		-	d	-		-		-	
h	-		-	j	-		-	l	-	m	-	
	-	o	-	n	-		-	r	-		-	t
u	-		-		-		-	y	-		-	.

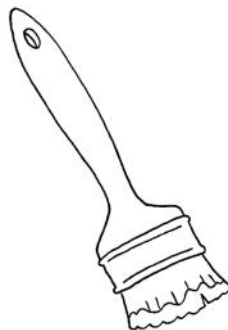
 Escribe los nombres de los dibujos.













PRIMER TRIMESTRE

Unidad 1. Matemáticas

AR

Nombre y apellidos:

Curso: Fecha:

 Une según corresponda.

$$8 D + 4 U$$

$$37$$

$$50 + 0$$

$$6 D + 5 U$$

$$65$$

$$30 + 7$$

$$3 D + 7 U$$

$$50$$

$$80 + 4$$

 Ordena y completa con los signos.

DE MENOR A MAYOR

DE MAYOR A MENOR

36

45

21


○ ○

69

56

65

○ ○

 Escribe el número anterior y el posterior.

← 77 →

← 17 →

← 46 →

← 29 →

← 43 →

← 50 →

 Calcula e indica los términos de las operaciones.

$$\begin{array}{r} 53 \\ + 23 \\ \hline \end{array}$$

$$\begin{array}{r} 96 \\ - 54 \\ \hline \end{array}$$

PRIMER TRIMESTRE

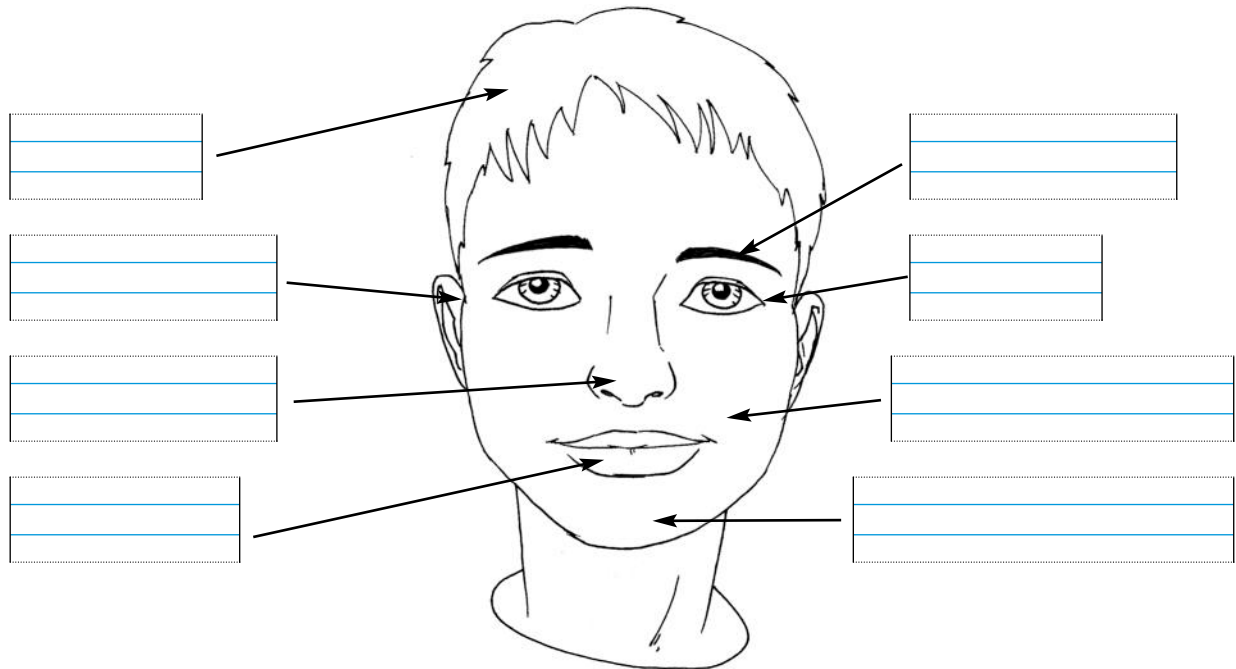
Unidad 1. Conocimiento del Medio


AR

Nombre y apellidos:

Curso: Fecha:

 Escribe los nombres de las partes de la cara.



 Une y subraya así:

partes de la cabeza → azul

partes del tronco → rojo

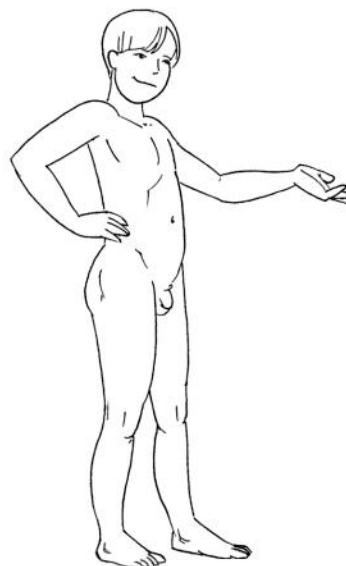
extremidades → amarillo

cara

nalga

pie

espalda



pecho

muslo

mano

abdomen

PRIMER TRIMESTRE


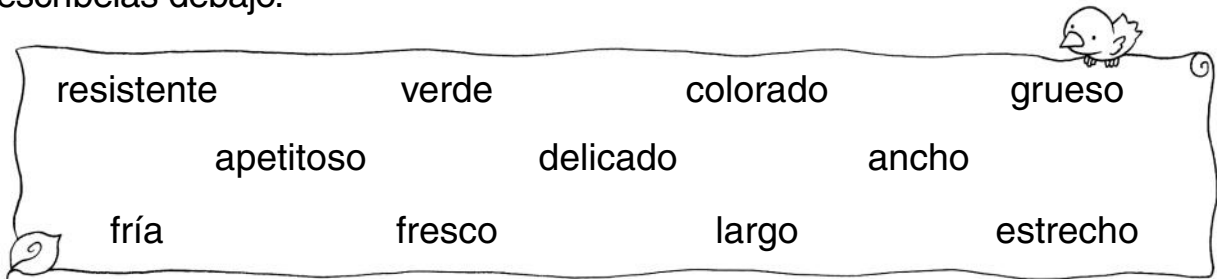
Unidad 2. Lengua

AR

Nombre y apellidos:


Curso: Fecha:

Busca en el recuadro las palabras sinónimas de las que te damos y escríbelas debajo.



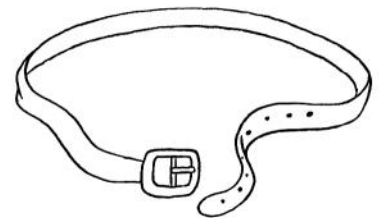
rojo

.....
.....



frágil

.....
.....



fino

.....
.....

Escribe sustituyendo los dibujos por palabras.

La  se ha roto.

.....
.....

El  es rojo.

.....
.....

PRIMER TRIMESTRE


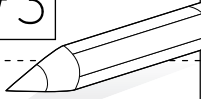
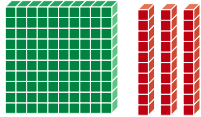
Unidad 2. Matemáticas


AR

Nombre y apellidos:

Curso: Fecha:

 Completa.

	<div style="border: 1px solid black; width: 60px; height: 40px; margin: 0 auto;"></div>	<div style="border: 1px solid black; width: 60px; height: 40px; display: flex; align-items: center; justify-content: center;"> 173  </div>
<div style="border: 1px solid black; width: 60px; height: 40px; margin: 0 auto;"></div>		<div style="border: 1px solid black; width: 60px; height: 40px; display: flex; align-items: center; justify-content: center;"> 116 </div>

 Realiza y contesta.

El mayor más el menor.

El menor más el mayor.

36

27

49

+

¿Cómo son los resultados?

¿Por qué?

PRIMER TRIMESTRE






Unidad 2. Conocimiento del Medio

AR

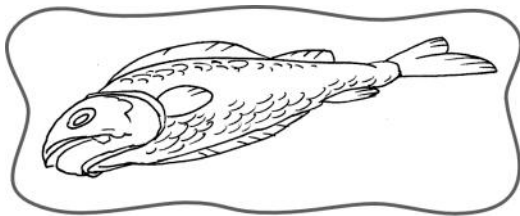
Nombre y apellidos:

Curso: Fecha:

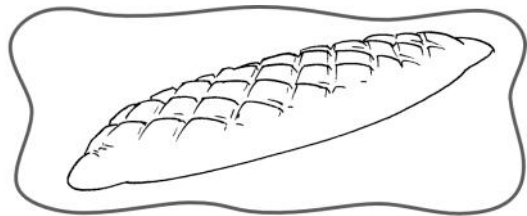
Señala donde corresponda.

					
FRUTAS Y VERDURAS					
CARNES Y PESCADOS					
PAN, PASTAS Y LEGUMBRES					


Escribe dónde se vende cada alimento.



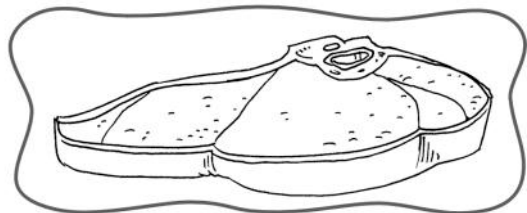
.....
.....



.....
.....



.....
.....




.....
.....

PRIMER TRIMESTRE
Unidad 3. Lengua

AR

Nombre y apellidos:

Curso: Fecha:

 Completa con **gr** o **gl**.

ale ___ ar

___ ifo

___ acias

arre ___ ar


___ obo

___ itar

___ orieta

___ acioso

re ___ a

 Completa con signos de interrogación o de admiración.

___ ¿Dónde están las llaves ___

___ ¿Qué frío hace ___

___ ¿Preparamos ya la comida ___

___ ¿Me ayudas un momento ___

___ ¿Por fin, las encontré ___

 Escribe el principio de un cuento que te guste.

.....

.....

.....

.....

.....

PRIMER TRIMESTRE

Unidad 3. Matemáticas


AR

Nombre y apellidos:

Curso: Fecha:

 Dibuja.

 <p style="font-size: 24px; margin-top: 10px;">235</p>	<p style="font-size: 24px;">263</p>	<p style="font-size: 24px;">218</p> 
-----------------------------------------------------------------------------------------------------------------------------------------	-------------------------------------	-----------------------------------------------------------------------------------------------------------------------------------------------

 Suma.

$$\begin{array}{r} 88 \\ + 24 \\ \hline \square \end{array}$$

$$\begin{array}{r} 72 \\ + 69 \\ \hline \square \end{array}$$

$$\begin{array}{r} 55 \\ + 93 \\ \hline \square \end{array}$$

$$\begin{array}{r} 29 \\ + 88 \\ \hline \square \end{array}$$

$$\begin{array}{r} 57 \\ + 73 \\ \hline \square \end{array}$$

$$\begin{array}{r} 46 \\ + 58 \\ \hline \square \end{array}$$

 Completa.

$$\begin{array}{r} 7 \rightarrow \square \\ 6 \rightarrow \square \\ + 4 \rightarrow \square \\ \hline \square \end{array}$$

$$\begin{array}{r} 7 \rightarrow \square \\ 6 \rightarrow \square \\ + 4 \rightarrow \square \\ \hline \square \end{array}$$

$$\begin{array}{r} 9 \rightarrow \square \\ 1 \rightarrow \square \\ + 3 \rightarrow \square \\ \hline \square \end{array}$$

$$\begin{array}{r} 9 \rightarrow \square \\ 1 \rightarrow \square \\ + 3 \rightarrow \square \\ \hline \square \end{array}$$

 Colorea la medida más aproximada:

tu estuche	→	8 palmos	4 palmos	2 palmos
tu mesa	→	3 palmos	1 palmo	15 palmos
el ancho de la clase	→	12 pies	30 pies	120 pies

PRIMER TRIMESTRE
Unidad 3. Conocimiento del Medio

AR

Nombre y apellidos:

Curso: Fecha:

📶 Completa las frases con las siguientes palabras.

ventre – domésticos – mamíferos – vertebrados – vivíparos

Los animales que maman cuando nacen se


llaman . Estos animales

tienen huesos, son .

Nacen del de la madre,

son .

📶 Escribe los nombres de las partes de esta ave:



PRIMER TRIMESTRE

Unidad 4. Lengua

AR

Nombre y apellidos:

Curso: Fecha:

📶 Completa con **pr** o **pl**:

___ uma ___ ofesora ___ umero

___ ismáticos ex ___ anada ___ emio

___ eferida ___ ato ex ___ icación

📶 Escribe un nombre de cada tipo.

Nombre común de persona

.....
.....
.....

Nombre propio de persona

.....
.....
.....

Nombre común de lugar

.....
.....
.....

Nombre propio de lugar

.....
.....
.....

📶 Elige a uno de los personajes y escribe su descripción.



.....
.....
.....

.....
.....
.....


PRIMER TRIMESTRE

Unidad 4. Matemáticas

AR

Nombre y apellidos:

Curso: Fecha:

 Une y ordena.

Tengo 4 decenas menos que 391

368

Tengo 2 unidades más que 378

380

Tengo 1 centena más que 217

349

Soy el número anterior a 350

351

Soy el número posterior a 299

300

Soy el anterior a 369

317

< < < < <

 Realiza las operaciones correctas y tacha las incorrectas.

Minuendo: 93

Sustraendo: 56

Minuendo: 75

Sustraendo: 86

Minuendo: 19

Sustraendo: 7

PRIMER TRIMESTRE
Unidad 4. Conocimiento del Medio

AR

Nombre y apellidos:

Curso: Fecha:

 Completa las frases con estas palabras:

sobrino – prima – primo – madre – padre – tío – tía

Mis abuelos son los padres de mi

o de mi .


Mi prima es hermana de mi .

La hermana de mi madre es mi .

El hermano de mi padre es mi .

La hija de mis tíos es mi .

Mi primo es el de mis padres.

 Rodea lo correcto.

La fachada es la pared

exterior
interior

 de una casa.

La azotea está

en la entrada
en lo alto

 del edificio.

El portal está

en la entrada
en lo alto

 del edificio.

En una casa unifamiliar vive

una
muchas

 familia.


PRIMER TRIMESTRE
Unidad 5. Lengua

AR

Nombre y apellidos:

Curso: Fecha:

 Escribe los nombres de estos dibujos donde corresponda:



fr

fl

.....
.....
.....


.....
.....
.....

.....
.....
.....

.....
.....
.....

.....
.....
.....

.....
.....
.....

 Escribe las oraciones cambiando la palabra destacada por su aumentativo.

Allí hay un **árbol**.

.....
.....
.....

Utilizo la **cuchara**.

.....
.....
.....

PRIMER TRIMESTRE

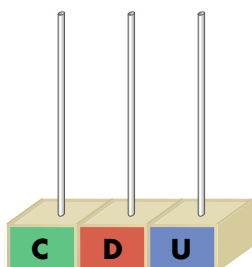
Unidad 5. Matemáticas

AR

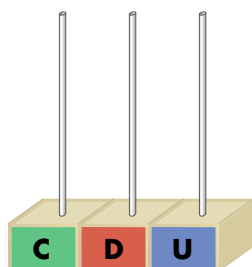
Nombre y apellidos:

Curso: Fecha:

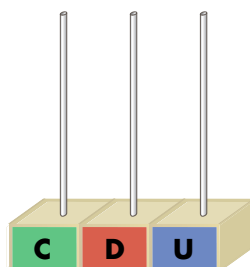
 Completa.



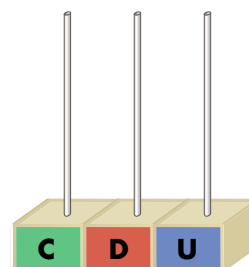
434



450



489



401

 Calcula.

	4	4	7			2	5	6			3	7	8			4	3	9
-	2	6	3		-	1	7	2		-	1	8	1		-	3	5	6

 Colorea las camisetas según el código:

8.º → rojo

5.º → verde

3.º → amarillo

7.º → morado


10.º → azul

1.º → rosa

4.º → naranja

2.º → marrón

9.º → negro




PRIMER TRIMESTRE


Unidad 5. Conocimiento del Medio

AR

Nombre y apellidos:

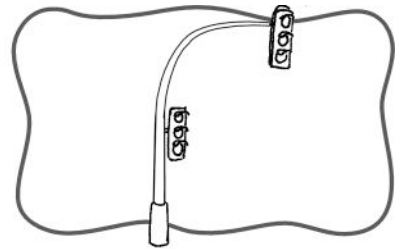
Curso: Fecha:

 Relaciona cada objeto con su función y escribe su nombre.




ECHAR
CARTAS

.....
.....



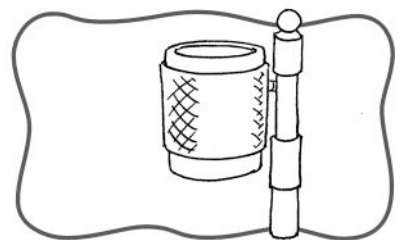
TIRAR
PAPELES

.....
.....




CONTROLAR
EL TRÁFICO

.....
.....



ILUMINAR LA
CALLE

.....
.....

 Rodea de azul lo que puedes ver en una calle y de rojo lo que está bajo el suelo.

