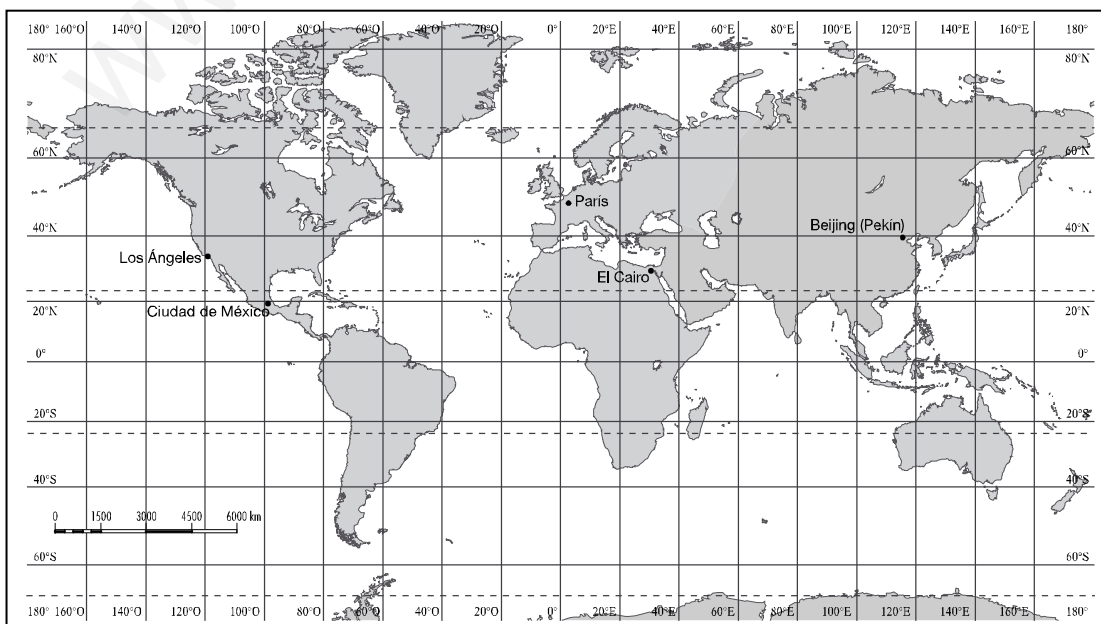


## TEMA 1 EL PLANETA TIERRA

1. ¿Por qué se conoce la Tierra como el planeta azul? ¿Por qué decimos que tiene forma de geoide? ¿Por qué se considera el planeta de la vida?
2. Reflexiona y contesta:
  - ¿Por qué en India amanece antes que en Brasil?
  - ¿Dónde amanece antes en Valencia o en La Coruña?
3. Observa el mapa de husos horarios del libro de texto y contesta:
  - Si en Greenwich son las 14 horas, ¿qué hora es a 75º oeste?
  - Si viajamos de Madrid a Pekín, ¿adelantaremos o atrasaremos el reloj? ¿Cuántas horas?
4. Define solsticio y equinoccio.
5. ¿Por qué la duración del día es diferente en invierno y en verano?
6. En un mapa de escala 1:400000, dos puntos están a una distancia de 5 cm. ¿Cuántos kilómetros los separan en la realidad?
7. Señala en el mapamundi los paralelos y los meridianos siguientes:

- a  Círculo Polar Ártico.                      c)  Trópico de Capricornio.  
b)  Meridiano de Greenwich.                      d)  Ecuador



8. Observa el mapamundi anterior e indica cuáles son las coordenadas geográficas de las siguientes ciudades:

	LONGITUD	LATITUD
París		
Pekín		
Los Ángeles		

9. Completa las siguientes frases:

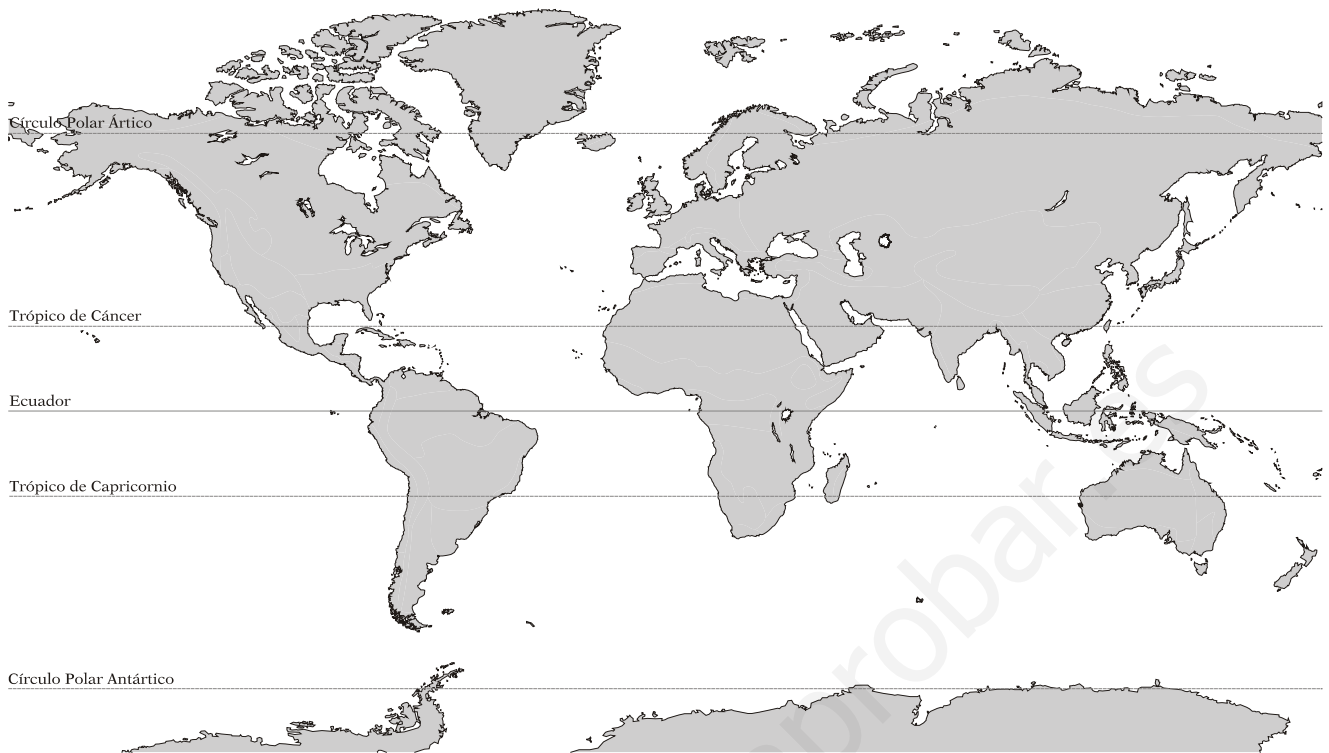
- a) El movimiento de ..... es el giro de la Tierra sobre sí misma, alrededor de un eje imaginario, cuyos extremos son los polos. La dirección de este movimiento es .....- ..... y tarda en completarse ..... horas.
- b) El movimiento de ..... es el giro de la Tierra alrededor del Sol. La dirección de este movimiento es ..... y tarda en completarse .....
- c) La sucesión del día y de la noche y la diferencia horaria se deben al movimiento de .....
- d) Las consecuencias del movimiento de..... y de la inclinación del eje terrestre son:  
la sucesión de las estaciones, la diferente duración del día y de la noche y la existencia de diferentes zonas térmicas en la Tierra.

### TEMAS 2-3 EL MEDIO FÍSICO DE LA TIERRA. COMPONENTES BÁSICOS Y CONTINENTES

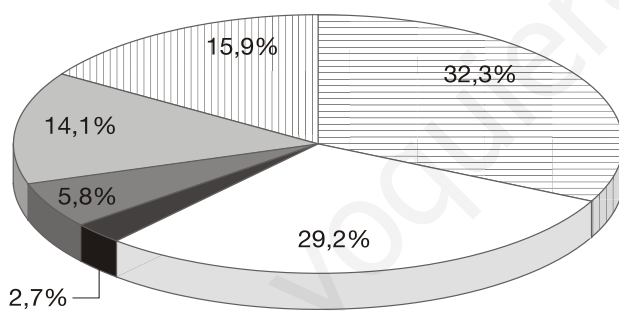
10. Haz un dibujo de las capas internas y externas de la Tierra e indica una característica de cada una.

11. Define litosfera.

12. Escribe en el mapa los nombres de los continentes y los océanos del hemisferio norte.



13. Completa la leyenda del gráfico siguiente según corresponda.




**SUPERFICIE DE LOS OCÉANOS**

Espacio ocupado por los océanos: 70,8%

- Océano Pacífico
- Océano Atlántico
- Océano Índico
- Océano Glacial Ártico
- Océano Glacial Antártico
- Espacio continental

14. Sobre el dibujo señala: plataforma continental, talud continental, llanura abisal, fosa marina, isla volcánica y dorsal oceánica.



15. Completa las siguientes frases:

- Los ..... o seísmos son bruscas sacudidas de la corteza terrestre.
- La ..... es el proceso de formación de montañas.
- Los ..... son fisuras o grietas de la corteza terrestre.
- El origen del relieve se debe a las ..... de la Tierra.

16. Sitúa en el mapa físico de Asia los elementos del relieve indicados.



**Golfos:** (1) de Bengala y (2) Pérsico.

**Penínsulas:** (3) Kamchatka, (4) Corea, (5) Arábica y (6) Deccán.

**Islas:** (7) Filipinas, (8) Japón, (9) Indonesia.

**Mares:** (10) de Bering, (11) Aral y (12) Caspio.

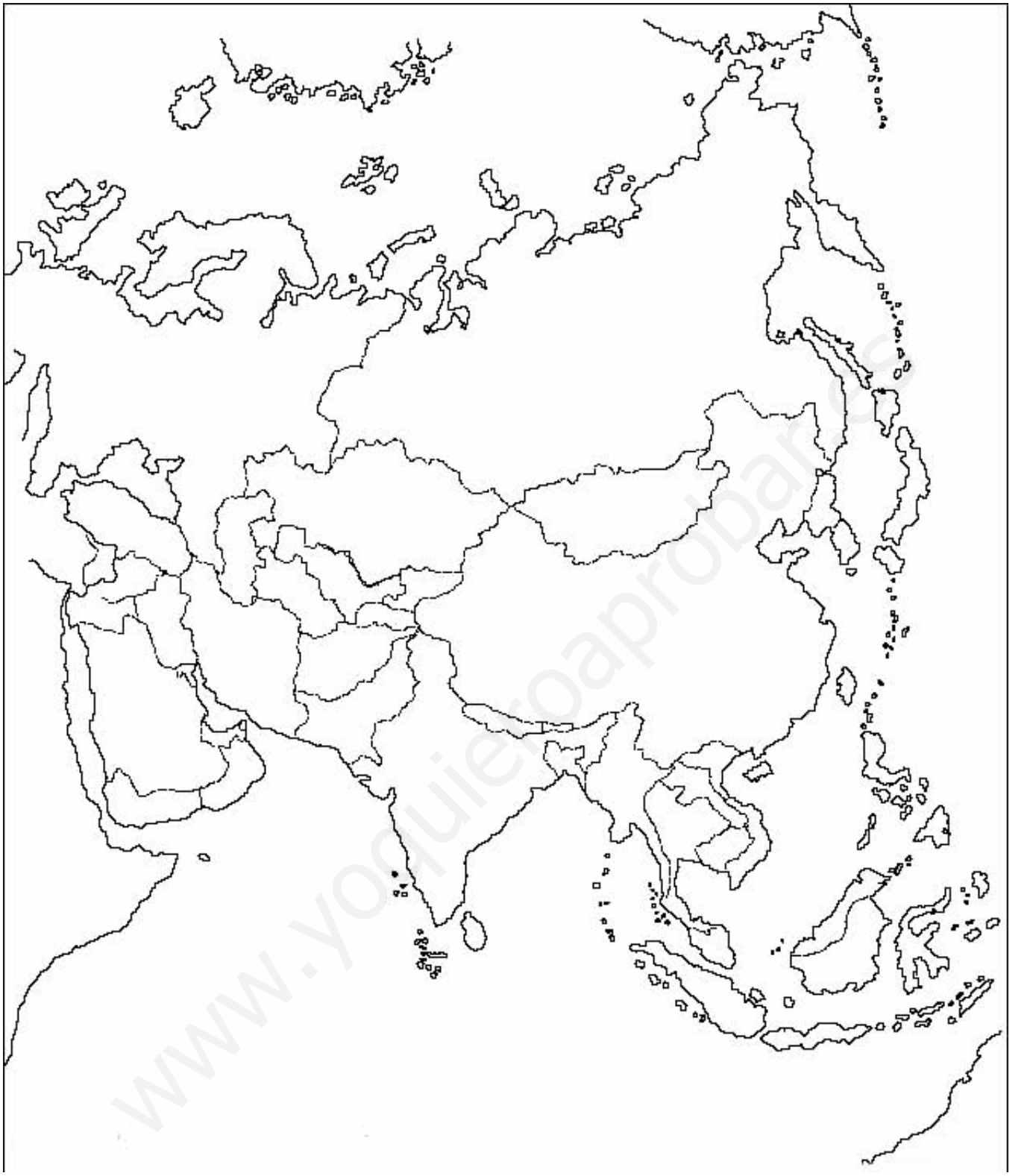
**Meseta** (13) de Anatolia.

**Llanura** (14) de Siberia.

**Cordillera** (15) del Himalaya.

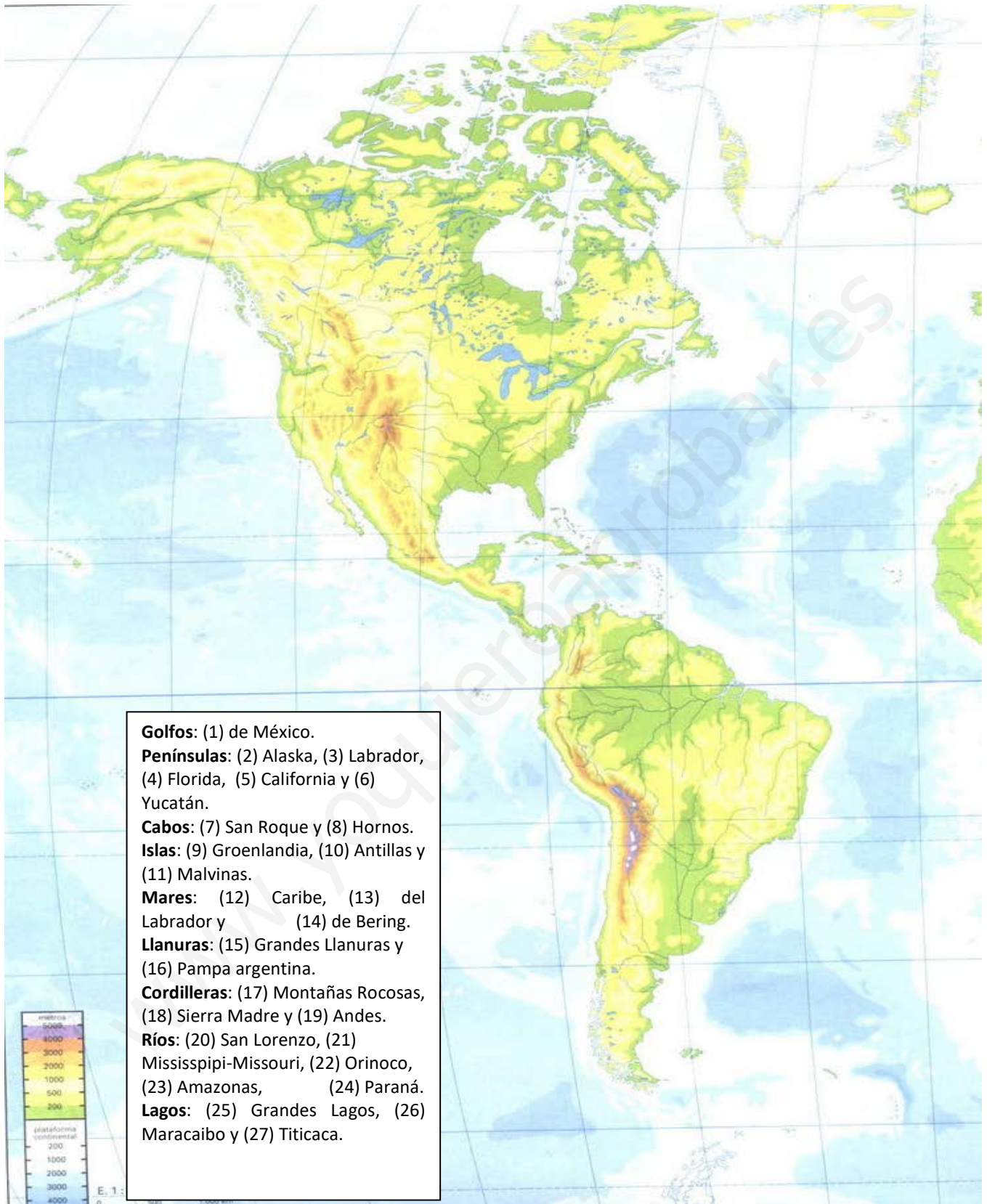
**Ríos:** (16) Obi, (17) Lena, (18) Huang He, (19) Yangtsé, (20) Ganges, (21) Tigris y (22) Éufrates.

17. Sitúa en el mapa político de Asia los países abajo indicados.



1 AFGANISTÁN	7 CHINA	13 IRÁN	19 PAKISTÁN
2 ARABIA SAUDITA	8 FILIPINAS	14 ISRAEL	20 SIRIA
3 ARMENIA	9 GEORGIA	15 JAPÓN	21 TAILANDIA
4 AZERBAIYÁN	10 INDIA	16 JORDANIA	22 TAIWÁN
5 COREA DEL NORTE	11 INDONESIA	17 MALASIA	23 TURQUÍA
6 COREA DEL SUR	12 IRAQ	18 MONGOLIA	24 VIETNAM

18. Localiza en el mapa físico de América los elementos del relieve indicados.



19. Localiza en el mapa político de América los países indicados.



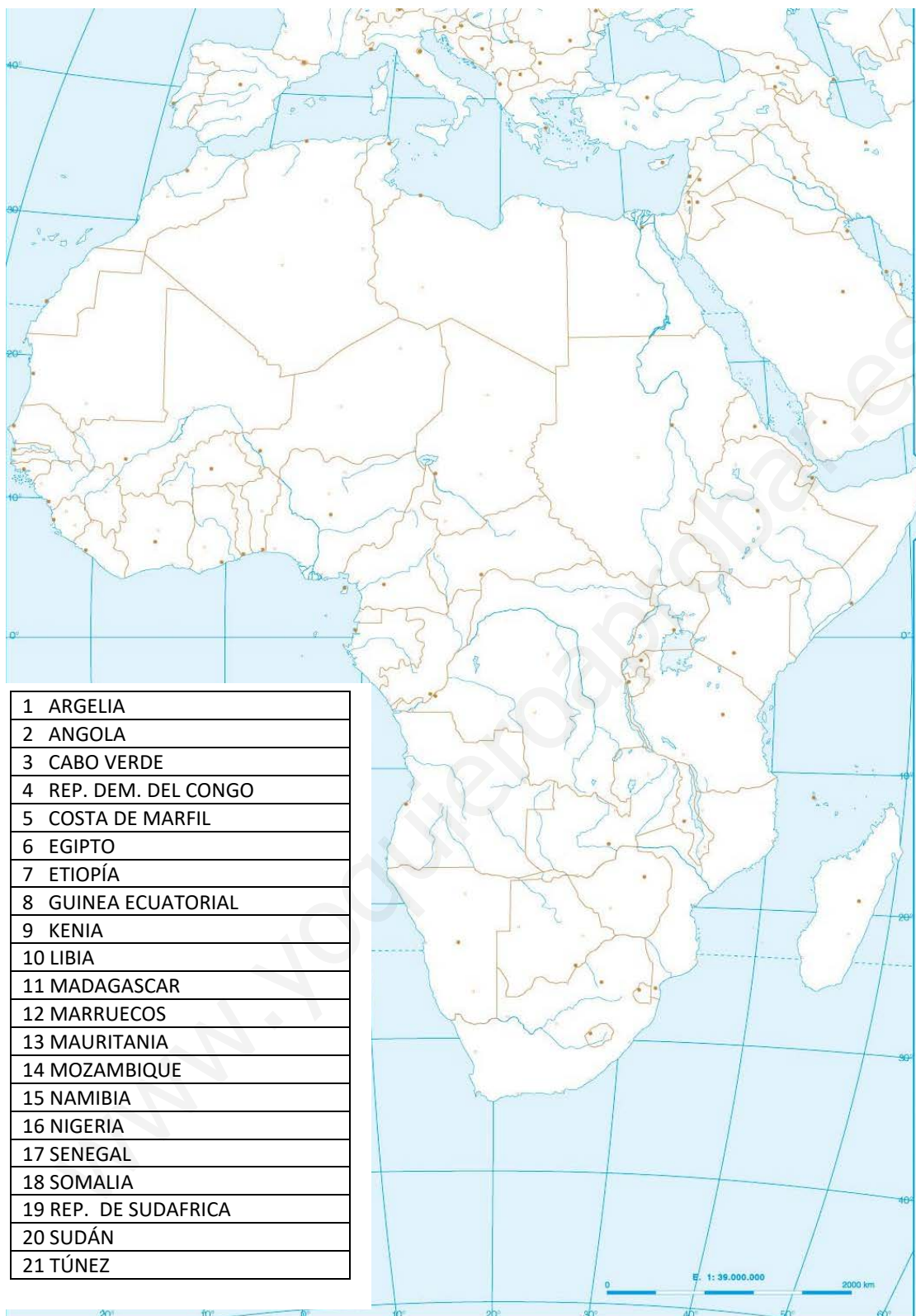
20. Localiza en el siguiente mapa físico de África los elementos del relieve indicados.



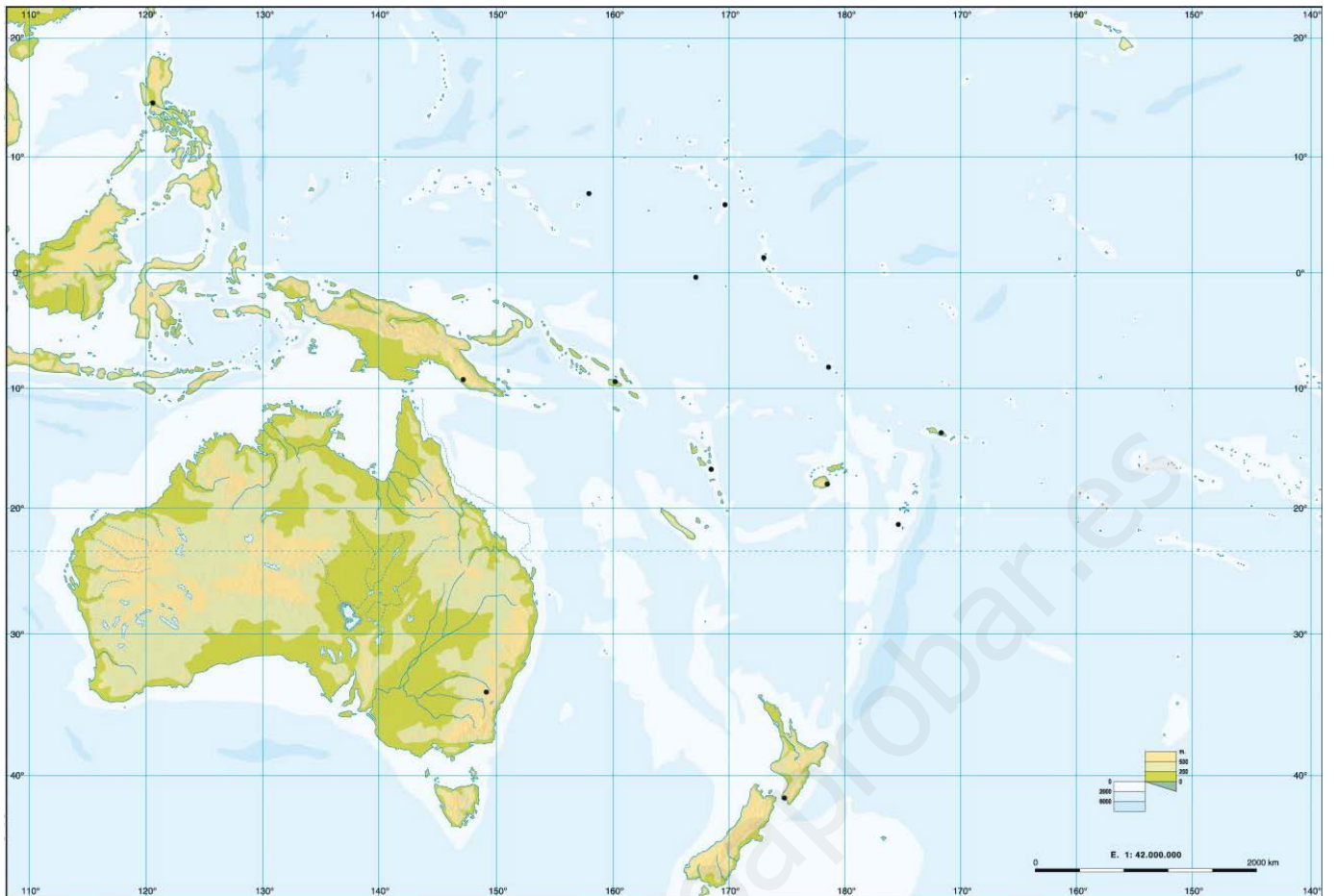
- Golfos:** (1) Gabés, (2) Sirte, (3) Adén y (4) Guinea.  
**Península:** (5) de Somalia.  
**Cabos:** (6) Guardafuí, (7) Agujas, (8) Buena Esperanza y (9) Verde.  
**Islas:** (10) Madagascar, (11) Cabo Verde y (12) Madeira.  
**Mares:** (13) Mediterráneo y (14) Rojo.  
**Macizos:** (15) Ahaggar y (16) Tibesti.  
**Fosa tectónica:** (17) Rift Valley.  
**Cordilleras:** (18) Montes Drakensberg y (19) Atlas.  
**Ríos:** (20) Nilo, (21) Congo, (22) Zambeze y (23) Orange.  
**Lagos:** (24) Victoria, (25) Chad y (26) Tanganika



21. Localiza en el mapa político de África los países abajo indicados.



22. Señala en el mapa físico de Oceanía los elementos del relieve indicados.



**Península** (1) de cabo de York.

**Mares:** (2) de Timor y (3) de Tasmania.

**Llanura:** (4) Nullarbor.

**Arrecife:** (5) Gran Barrera de Coral.

**Cordillera:** (6) Gran Cordillera Divisoria.

**Desierto:** (7) Gran Desierto de Arena.

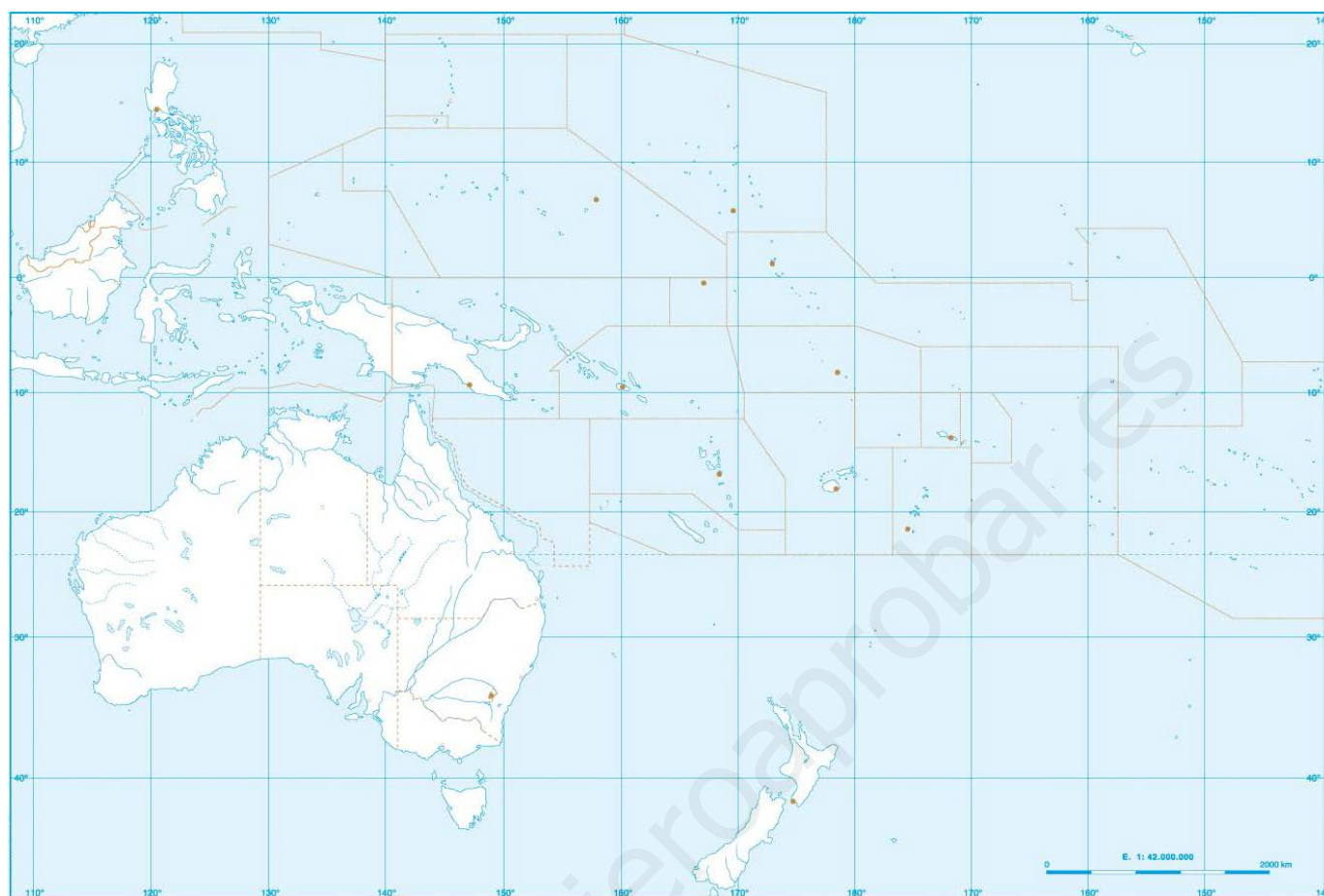
**Islas:** (8) Australia, (9) Nueva Guinea y (10) Nueva Zelanda.

**Ríos:** (11) Murray y (12) Fly.

**Lagos:** (13) Eyre.

23. Localiza en el mapa político de Oceanía los países indicados.

1 AUSTRALIA	3 MICRONESIA	5 PALAOS	7 SALOMON
2 FIJI	4 NUEVA ZELANDA	6 PAPÚA-NUEVA GUINEA	8 SAMOA



24. Señala en el mapa físico de Europa los elementos del relieve indicados.



**Golfos:** (1) Botnia, (2) Vizcaya y (3) Génova.

**Penínsulas:** (4) Escandinava, (5) Jutlandia, (6) Ibérica e (7) Itálica.

**Cabos:** (8) Finisterre y (9) Norte.

**Mares:** (10) Barents, (11) Báltico, (12) del Norte, (13) Mediterráneo, (14) Tirreno, (15) Adriático y (16) Negro.

**Llanura:** (17) Gran Llanura Europea.

**Macizos:** (18) Montes Escandinavos y (19) Macizo Central de Francia.

**Cordilleras:** (20) Pirineos, (21) Alpes, (22) Apeninos y (23) Cárpatos.

**Islas:** (24) Británicas, (25) Islandia, (26) Baleares, (27) Córcega, (28) Cerdeña, (29) Sicilia y (30) Malta.

**Ríos:** (31) Volga, (32) Danubio, (33) Ural, (34) Dniéper, (35) Don, (36) Pechora, (37) Dniéster y (38) Rin.

**Lagos:** (39) Ladoga, (40) Onega y (41) Constanza.

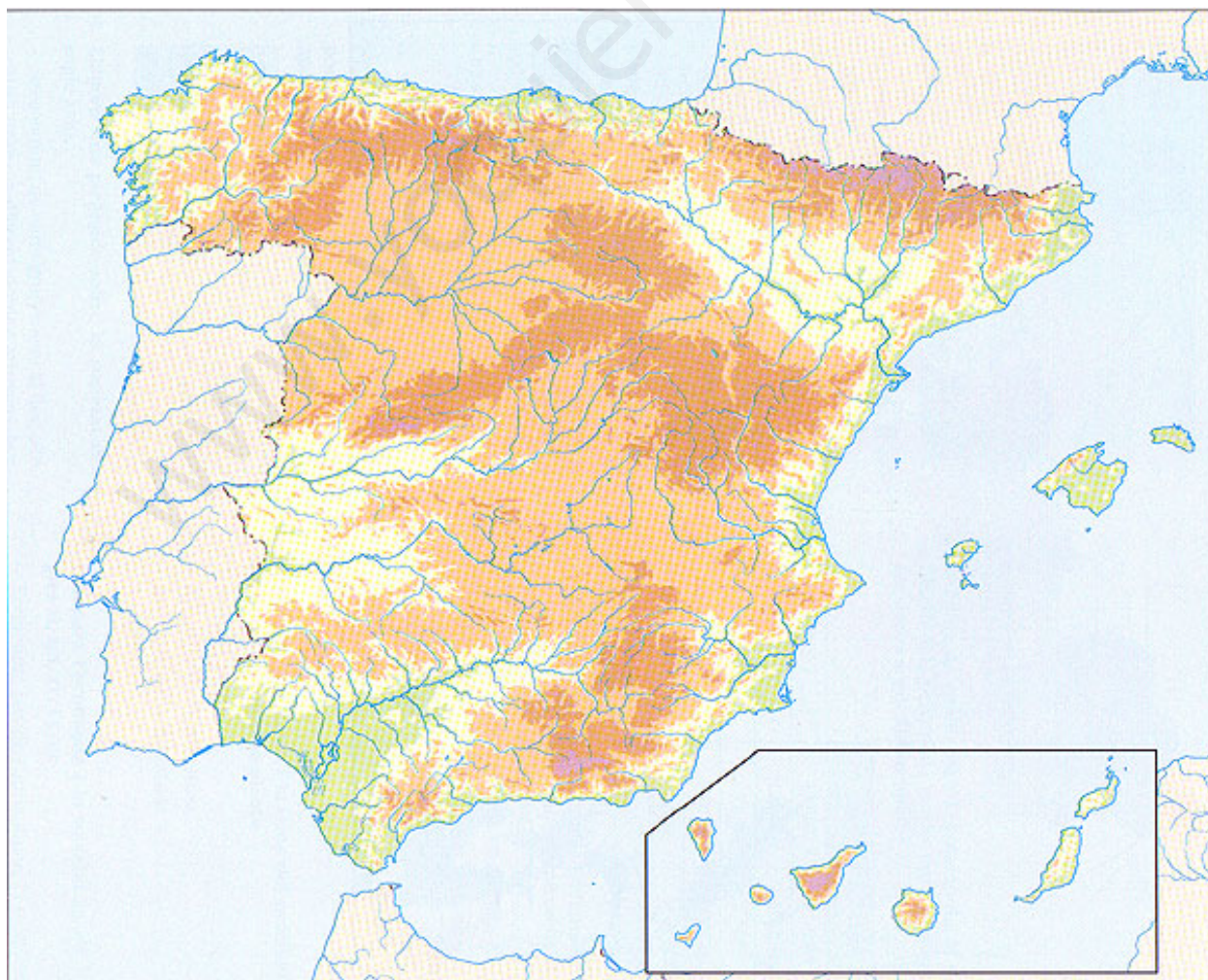
25. Localiza en el mapa político de Europa los países indicados.



1 ALBANIA	21 IRLANDA
2 ALEMANIA	22 ISLANDIA
3 AUSTRIA	23 ITALIA
4 BÉLGICA	24 KOSOVO
5 BIELORRUSIA	25 LETONIA
6 BOSNIA-HERZEGOVINA	26 LITUANIA
7 BULGARIA	27 MACEDONIA
8 REPÚBLICA CHECA	28 MALTA
9 CHIPRE	29 MOLDAVIA
10 CROACIA	30 MONTENEGRO
11 DINAMARCA	31 NORUEGA
12 ESLOVAQUIA	32 PAÍSES BAJOS
13 ESLOVENIA	33 POLONIA
14 ESPAÑA	34 PORTUGAL
15 ESTONIA	35 RUMANÍA
16 FINLANDIA	36 RUSIA
17 FRANCIA	37 SERBIA
18 GRAN BRETAÑA	38 SUECIA
19 GRECIA	39 SUIZA
20 HUNGRÍA	40 UCRANIA

26. Señala en el mapa físico de España los elementos del relieve indicados.

<b>Relieves costeros</b>	(1) Golfo de Vizcaya. (2) Cabo de Palos. (3) Golfo de Cádiz. (4) Golfo de Valencia. (5) Cabo de Gata.	(6) Cabo de la Nao. (7) Cabo de Finisterre. (8) Punta de Estaca de Bares. (9) Bahía de Palma. (10) Delta del Ebro.
<b>Océanos y mares</b>	(11) Cantábrico. (12) Mediterráneo.	13) Atlántico.
<b>Cadenas montañosas macizos y mesetas</b>	(14) Submeseta Norte. (15) Submeseta Sur. (16) Montes de Toledo. (17) Macizo Galaico. (18) Montes de León. (19) Cordillera Cantábrica. (20) Sierra Morena.	(21) Pirineos. (22) Cordillera Costero Catalana. (23) Cordillera Subbética. (24) Cordillera Penibética. (25) Sistema Ibérico. (26) Pico Mulhacén. (27) Volcán Teide.
<b>Ríos</b>	(28) Bidasoa. (29) Nervión. (30) Miño. (31) Duero. (32) Guadiana.	(33) Guadalquivir. (34) Tajo. (35) Segura. (36) Júcar. (37) Ebro.
<b>Islas</b>	(38) Gran Canaria. (39) Lanzarote. (40) Tenerife. (41) La Palma. (42) La Gomera. (43) Hierro	(44) Fuerteventura. (45) Mallorca. (46) Menorca. (47) Ibiza. (48) Formentera.



27. Completa el mapa político de España. Escribe los nombres de las provincias de España y de las capitales de comunidades autónomas



#### TEMA 4 EL CLIMA Y LAS ZONAS BIOCLIMÁTICAS

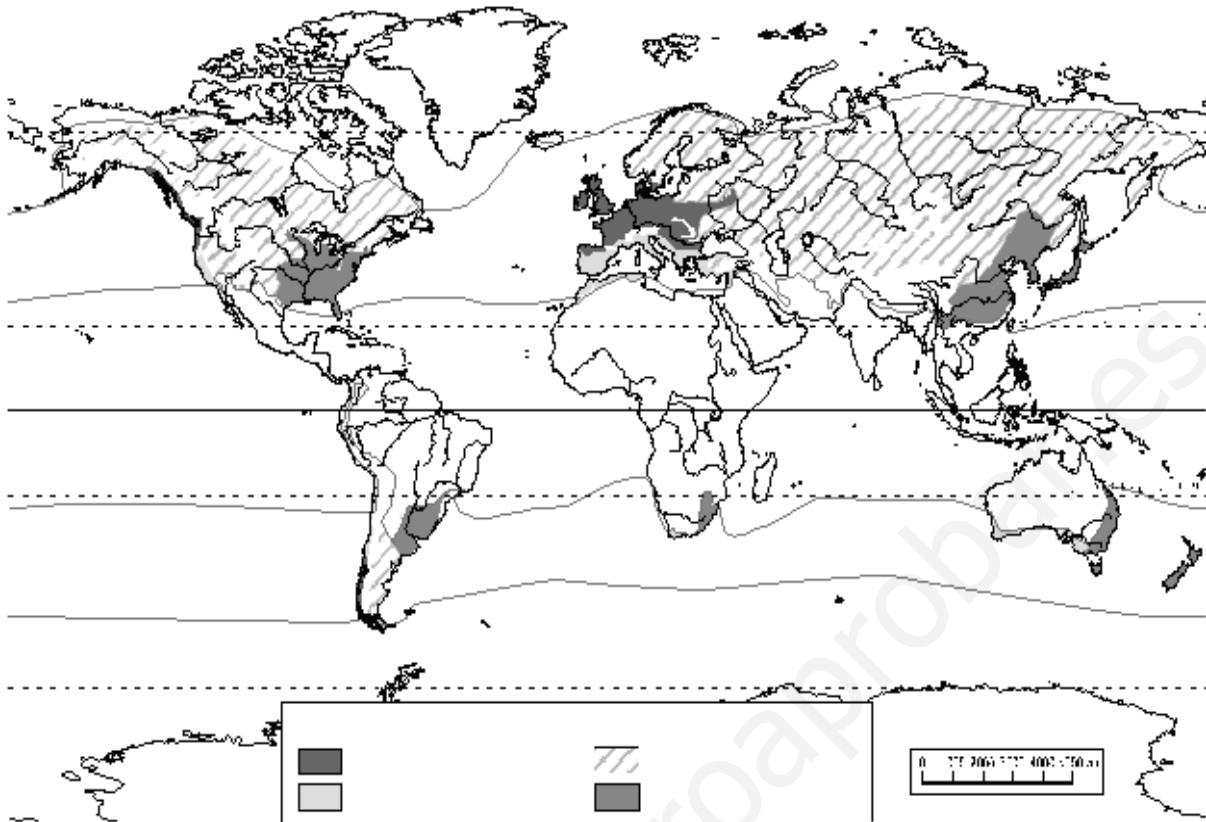
28. Define el concepto de tiempo atmosférico.

29. Completa las siguientes frases:

- La temperatura disminuye desde el ..... hacia los polos.
- Los factores que influyen en la precipitación son la distancia al mar, la ..... y la .....
- La presión atmosférica se mide con el .....
- El ..... es el aire en movimiento horizontal.
- La ..... es la cantidad de agua que cae de las nubes.
- Las ..... son líneas que miden los puntos de la superficie terrestre con las mismas temperaturas.
- La alta presión se denomina ..... y produce tiempo .....
- El factor que origina el viento es la diferencia de ..... El viento sopla siempre desde las ..... presiones hasta las ..... presiones.

30. Observa el mapa y responde a las preguntas:

- Localiza en el mapa las grandes zonas climáticas del planeta.
- Escribe en la leyenda los nombres de los cuatro climas.



c) Completa el siguiente cuadro:

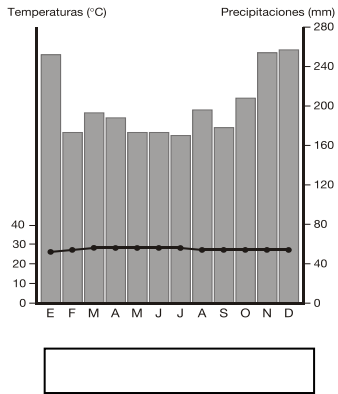
	Medio oceánico	Medio mediterráneo	Medio ecuatorial
Temperaturas			
Precipitaciones			
Ríos			
Vegetación			

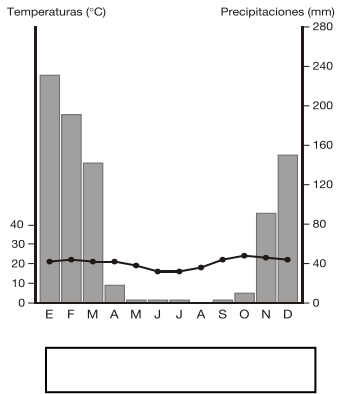


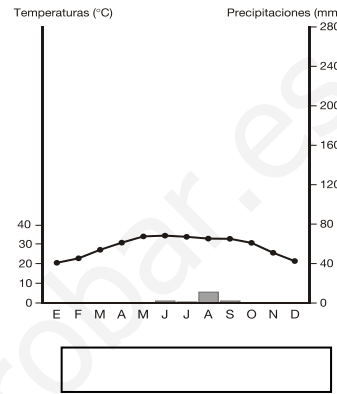
31. Diferencia entre elementos y factores del clima.

**TEMA 5 LOS GRANDES CONJUNTOS BIOCLIMÁTICOS DE LA TIERRA**

32. Indica a qué climas pertenecen los siguientes climogramas.








33. ¿Qué nombre recibe la vegetación característica del clima ecuatorial? Realiza una breve descripción de ella.

34. Responde verdadero (V) o falso (F).

- a) ( ) De los bosques ecuatoriales se obtienen maderas nobles y leña, minerales y tierras para el cultivo o para la cría de vacas y bueyes.
- b) ( ) Como consecuencia de estas actividades, cada año se han recuperado 4,5 millones de hectáreas de bosque.

35. ¿En qué consiste el cultivo de rozas o agricultura itinerante? ¿Es este tipo de agricultura beneficiosa o perjudicial para el medio natural?

36. Elimina los productos que no sean propios de la agricultura de plantación de las zonas tropicales.  
Café - té - trigo - caña de azúcar - patata - algodón.

37. Une con una flecha los conceptos que estén relacionados.

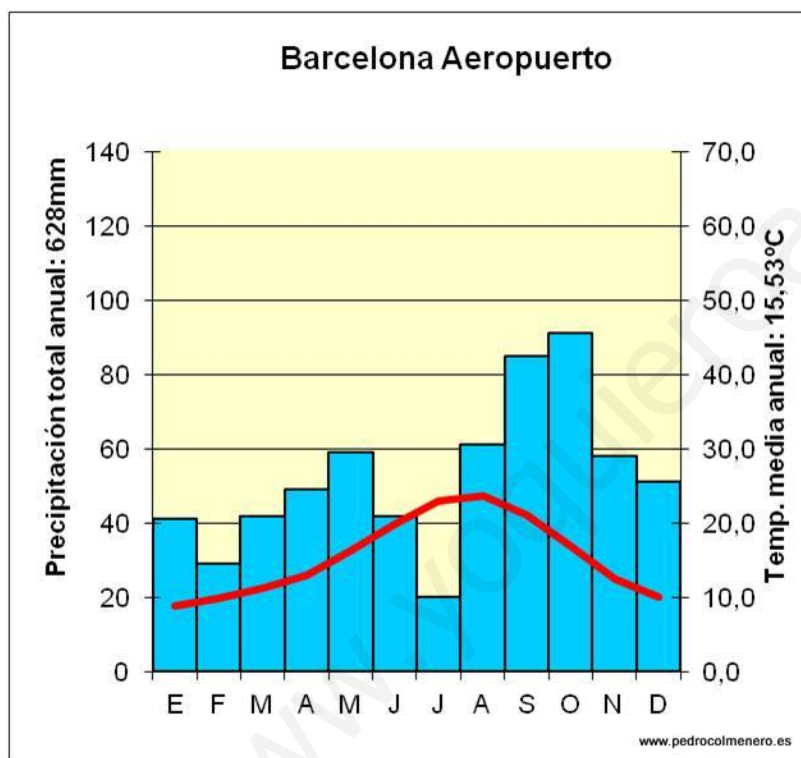
- |   |   |
|---|---|
| Regiones tropicales costeras                    | Apenas existen enfermedades parasitarias                      |
| Mesetas y montañas tropicales                   | Agricultura y ganadería más moderna y productiva              |
| Valles y deltas de los grandes ríos tropicales. | Abundancia de agua.   |
|   | Zonas climáticas que favorecen una rica y variada agricultura |

38. ¿Dónde se concentra la población en el medio tropical?

39. ¿Qué tipo de transformaciones en el medio natural realizó la humanidad desde el Neolítico hasta finales del siglo XVIII en la zona templada de la Tierra?

40. Explica brevemente cómo son los campos cerrados (*bocage*) del litoral atlántico europeo.

41. Elabora y comenta el diagrama climático.



42. Con la ayuda del mapa de los medios naturales de la zona templada, indica dónde se localiza el medio mediterráneo.

43. Define los siguientes conceptos: bosque caducifolio, tundra, estepa.

#### TEMA 6 EL MEDIO FÍSICO Y LOS BIOCLIMAS DE ESPAÑA Y DE MADRID

44. Dibuja el mapa climático de España indicando en la leyenda el nombre de los climas más característicos.



45. Indica el nombre de las comunidades autónomas que forman parte del clima mediterráneo y del oceánico.

46. Completa.

- A partir de 1960, las regiones mediterráneas se han transformado debido al desarrollo de las ..... y del ....., actividades que, junto con el ....., ocupan a la mayoría de la población.
- Los principales centros industriales son..... y ....., que cuentan con una variada gama de industrias ..... (alimentación, tejidos, automóviles, etc.) y de ..... (informática, electrónica, telecomunicaciones, etc.). La actividad industrial es también importante en ..... y .....
- El turismo se ha desarrollado en el litoral ..... y en las ....., áreas que se encuentran entre las más ..... de España.

www.yoquieroaprobar.es

**TEMA 7 LA PREHISTORIA**

47. a) Señala el siglo y el milenio a los que pertenecen las siguientes fechas:

- 1492 d.C.
- 2500 a.C.
- 1929 d.C.
- 395 a.C.
- 1100 d.C.
- 1200 a.C.
- 622 d. C.
- 200 a.C.

47. b) Enumera los diferentes períodos de la prehistoria y de la historia incluyendo cronología (cuándo empezó y terminó cada etapa histórica) y el acontecimiento histórico con el que empezó cada etapa.

48. Relaciona los siguientes períodos cronológicos con sus fechas de inicio y finalización:

- |                          |                               |
|--------------------------|-------------------------------|
| 1) Paleolítico Superior. | a) 40000 a 10000 a.C.         |
| 2) Paleolítico Medio.    | b) 2,5 millones a 10000 a.C.  |
| 3) Paleolítico.          | c) 2,5 millones a 125000 a.C. |
| 4) Paleolítico Inferior. | d) 125000 a 40000 a.C.        |

49. Indica junto a cada frase si es propio del Paleolítico o del Neolítico:

- |   |       |
|---|-------|
| a) Surgió en el Creciente Fértil.             | ..... |
| b) Practicaban una economía depredadora.      | ..... |
| c) Su trabajo estaba poco especializado.      | ..... |
| d) Fabrican útiles de piedra y cerámica.      | ..... |
| e) Eran nómadas.                              | ..... |
| f) Vivían en aldeas y poblados.               | ..... |
| g) Practicaban la agricultura y la ganadería. | ..... |

50. Relaciona los siguientes conceptos con su consecuencia fundamental:

- |                                      |   |
|--------------------------------------|---|
| a) Bipedismo.                        | 1) Permite pensar y dotarse de cultura. |
| b) Pulgar oponible en la mano.       | 2) Liberar los brazos y manos.          |
| c) Capacidad de hablar.              | 3) Permite la comunicación.             |
| d) Aumento de la capacidad craneana. | 4) Permite fabricar herramientas.       |

51. Señala las características fundamentales de los siguientes homínidos:

HOMÍNIDO	CARACTERÍSTICAS
<i>Homo habilis</i>	
<i>Homo erectus</i>	
<i>Homo Neanderthalensis</i>	
<i>Homo sapiens</i>	

52. Cita algunos de los útiles que aparecieron con el desarrollo de la agricultura y comenta brevemente su utilidad.

53. Compara la pintura rupestre cantábrica y la levantina y señala sus características.



( ) ( ) ( )

( ) ( ) ( )

- a) Sólo aparecen animales.
- b) Aparecen figuras humanas.
- c) Reproducen las formas reales.
- d) Son esquemáticas.
- e) Utilizan dos colores
- f) Solo utilizan un color.

**TEMA 8 MESOPOTAMIA**


**TEMA 9 EGIPTO**

54. Indica a qué civilización pertenecen las siguientes ciudades: Ur, Menfis, Tebas, Lagash, Gizeh, Babilonia.

55. ¿Qué semejanzas y diferencias existen entre el faraón de Egipto y el patesi mesopotámico?

56. ¿Qué consecuencias tuvo la aparición de la agricultura de regadío?

57. Completa la ficha correspondiente a las siguientes construcciones:



	<b>A</b>	<b>B</b>
TIPO DE EDIFICIO		
PARTES		
FUNCIÓN		
PERIODO		

58. Responde a las preguntas:

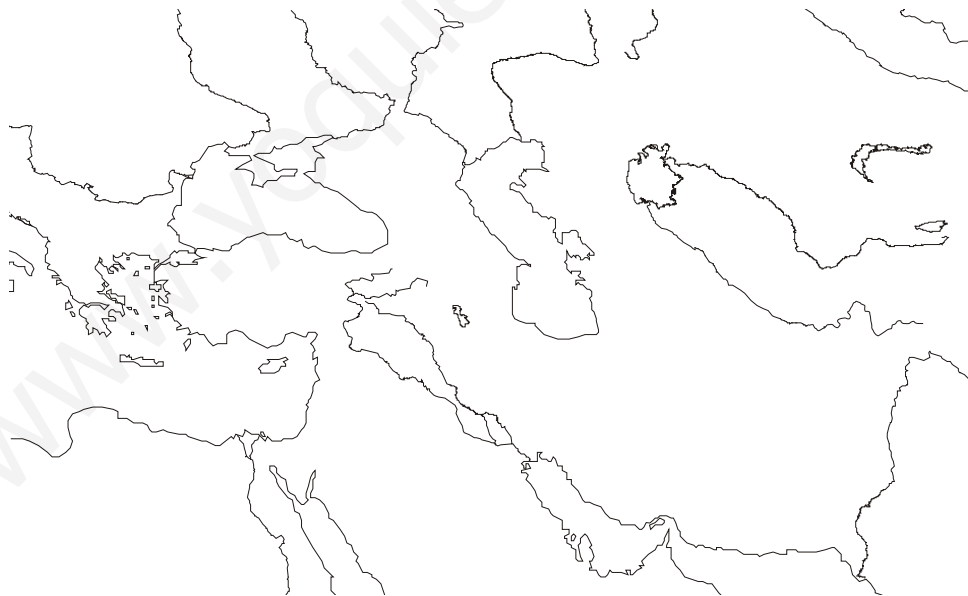
- ¿Por qué las primeras civilizaciones históricas surgieron junto a los ríos?

- ¿Cómo se gobernó Egipto?

- ¿Qué diferencias sociales había en Egipto?

#### TEMA 10 GRECIA

59. Señala en el mapa los límites geográficos del imperio de Alejandro Magno (336-323 a.C.).



60. ¿Cómo se denominan los sistemas políticos de Atenas y Esparta? ¿Qué similitudes aprecias entre ambos?



61. ¿Qué legado ha aportado la civilización griega a la occidental?

62. Contesta las siguientes preguntas:

- ¿Qué es una polis?


- ¿Por qué se realizaron las colonizaciones griegas y por dónde se extendieron los colonizadores?

- ¿Dónde surgió la democracia y qué caracteriza este sistema de gobierno?

6.3. Qué diferencias encuentras entre las polis de Esparta y Atenas

64. Desarrolla el tema "La religión griega: los dioses y el culto religioso".

64. Escribe los nombres de las distintas partes del templo dórico de Afaia en su lugar correspondiente:



66. Relaciona mediante flechas:

- |              |  |
|--------------|--|
| a) Ares.     | 1) Dios de los infiernos.                      |
| b) Hades.    | 2) Diosa protectora de la ciudad.              |
| c) Poseidón. | 3) Dios de la guerra.                          |
| d) Zeus.     | 4) Dios del mar.                               |
| e) Apolo.    | 5) Dios principal y padre de todos los dioses. |
| f) Atenea    | 6) Dios de la sabiduría y la música.           |