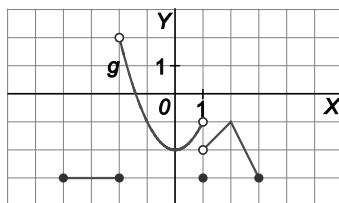
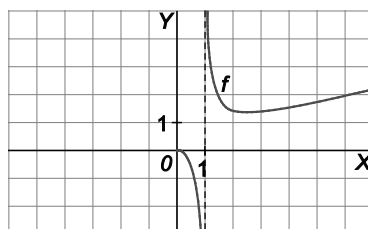


Dada la gráfica de  $g(x)$  calcula los límites pedidos.



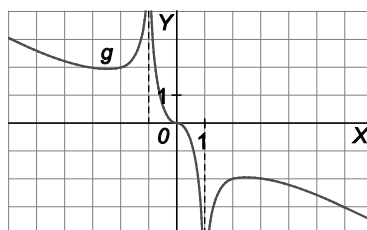
- a)  $\lim_{x \rightarrow -2^+} g(x)$        $\lim_{x \rightarrow -2^-} g(x)$        $\lim_{x \rightarrow -2} g(x)$
- b)  $\lim_{x \rightarrow 1^+} g(x)$        $\lim_{x \rightarrow 1^-} g(x)$        $\lim_{x \rightarrow 1} g(x)$
- c)  $\lim_{x \rightarrow 2^+} g(x)$        $\lim_{x \rightarrow 2^-} g(x)$        $\lim_{x \rightarrow 2} g(x)$
- a)  $\lim_{x \rightarrow -2^+} g(x) = 2$        $\lim_{x \rightarrow -2^-} g(x) = -3$       No existe  $\lim_{x \rightarrow -2} g(x)$
- b)  $\lim_{x \rightarrow 1^+} g(x) = -2$        $\lim_{x \rightarrow 1^-} g(x) = -1$       No existe  $\lim_{x \rightarrow 1} g(x)$
- c)  $\lim_{x \rightarrow 2^+} g(x) = -1$        $\lim_{x \rightarrow 2^-} g(x) = -1$        $\lim_{x \rightarrow 2} g(x) = -1$

Dada la gráfica de  $f(x)$ , calcula:



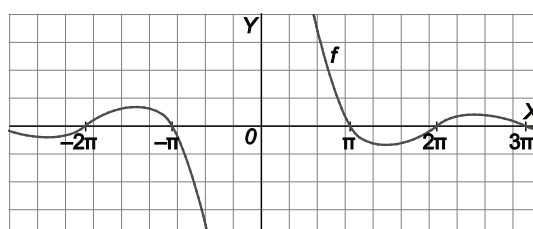
- a)  $\lim_{x \rightarrow 1^-} f(x)$
- b)  $\lim_{x \rightarrow 1^+} f(x)$
- a)  $\lim_{x \rightarrow 1^-} f(x) = -\infty$
- b)  $\lim_{x \rightarrow 1^+} f(x) = +\infty$

Dada la gráfica de  $g(x)$ , calcula:



- a)  $\lim_{x \rightarrow -1} g(x)$
- b)  $\lim_{x \rightarrow 1} g(x)$
- a)  $\left. \begin{array}{l} \lim_{x \rightarrow -1^-} g(x) = +\infty \\ \lim_{x \rightarrow -1^+} g(x) = +\infty \end{array} \right\} \Rightarrow \lim_{x \rightarrow -1} g(x) = +\infty$
- b)  $\left. \begin{array}{l} \lim_{x \rightarrow 1^-} g(x) = -\infty \\ \lim_{x \rightarrow 1^+} g(x) = -\infty \end{array} \right\} \Rightarrow \lim_{x \rightarrow 1} g(x) = -\infty$

Dada la gráfica de  $f(x)$ , calcula:



- a)  $\lim_{x \rightarrow +\infty} f(x)$
- b)  $\lim_{x \rightarrow -\infty} f(x)$
- a)  $\lim_{x \rightarrow +\infty} f(x) = 0$
- b)  $\lim_{x \rightarrow -\infty} f(x) = 0$

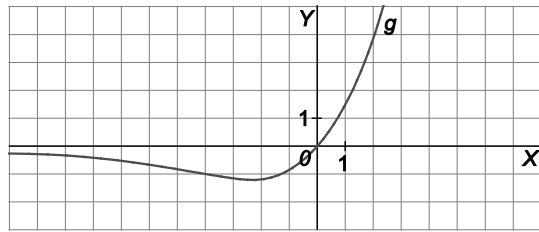
Dada la gráfica  $g(x)$ , calcula:

a)  $\lim_{x \rightarrow +\infty} g(x)$

b)  $\lim_{x \rightarrow -\infty} g(x)$

a)  $\lim_{x \rightarrow +\infty} g(x) = +\infty$

b)  $\lim_{x \rightarrow -\infty} g(x) = 0$



123. Dada la sucesión por recurrencia  $a_1 = 1$   $a_n = \frac{1}{1 + a_{n-1}}$ :

- a) Calcula sus primeros términos. b) Sabiendo que es convergente, calcula su límite.

a)  $a_1 = 1$ ,  $a_2 = \frac{1}{1+1} = \frac{1}{2}$ ,  $a_3 = \frac{1}{1+\frac{1}{2}} = \frac{2}{3}$ ,  $a_4 = \frac{1}{1+\frac{2}{3}} = \frac{3}{5}$ ,  $a_5 = \frac{1}{1+\frac{3}{5}} = \frac{5}{8}$ ,  $a_6 = \frac{1}{1+\frac{5}{8}} = \frac{8}{13}$

- b) Como la sucesión es convergente, entonces  $\lim_{n \rightarrow \infty} a_n = \lim_{n \rightarrow \infty} a_{n-1} = L$ . Por tanto:

$$L = \frac{1}{1+L} \Rightarrow L^2 + L - 1 = 0 \Rightarrow L = \frac{-1 + \sqrt{5}}{2}, L = \frac{-1 - \sqrt{5}}{2}$$

La sucesión  $a_n$  es de términos positivos entonces la solución válida es  $L = \frac{-1 + \sqrt{5}}{2}$

### Autoevaluación

Comprueba qué has aprendido

1. Calcula el dominio de las funciones:

a)  $f(x) = \frac{2x^2 - 3}{(x-5)^2(4x^4 + 1)}$

b)  $f(x) = \sqrt{\frac{x}{x^2 - 9}}$

c)  $f(x) = \log_3 \sqrt{x^2 - x}$

- a)  $(x-5)^2(4x^4 + 1) = 0 \Rightarrow \begin{cases} x-5=0 \\ 4x^4 + 1=0 \end{cases} \Rightarrow$  La única solución real es  $x = 5$ . Por tanto, la función existe en todo el conjunto de los números reales excepto en  $x = 5$ . Luego  $D(f) = (-\infty, 5) \cup (5, +\infty)$ .

b)  $\begin{cases} \frac{x}{x^2 - 9} \geq 0 \\ x^2 - 9 \neq 0 \end{cases} \Rightarrow x \in (-3, 0] \cup (3, +\infty)$ . Luego  $D(f) = (-3, 0] \cup (3, +\infty)$ .

- c) Para que exista  $\log_3 \sqrt{x^2 - x}$  debe ocurrir que  $x^2 - x > 0 \Rightarrow x \in (-\infty, 0) \cup (1, +\infty)$ . Luego  $D(f) = (-\infty, 0) \cup (1, +\infty)$ .

## 2. Halla el valor de los siguientes límites.

a)  $\lim_{x \rightarrow -\infty} \frac{-2x^4 - 3x + 5}{-3x^3 + x - 3}$

e)  $\lim_{x \rightarrow -3} \frac{4x^2}{(x+3)^2}$

h)  $\lim_{x \rightarrow 3} \left[ \frac{1}{x-3} - \frac{3}{x^2-9} \right]$

b)  $\lim_{x \rightarrow +\infty} \frac{2\sqrt[5]{x^2-5}}{-\sqrt[5]{x^2} + 3\sqrt[10]{x^4} + x}$

f)  $\lim_{x \rightarrow -2} \frac{1}{1 + \frac{1}{1+x}}$

i)  $\lim_{x \rightarrow -4} \left( \frac{2x-3}{-11} \right)^{\frac{x+4}{3}}$

c)  $\lim_{x \rightarrow +\infty} (2x - \sqrt{4x^2 - x})$

g)  $\lim_{x \rightarrow -\frac{3}{2}} \frac{4x^3 + 16x^2 + 21x + 9}{4x^3 + 20x^2 + 33x + 18}$

j)  $\lim_{x \rightarrow +\infty} \left( \frac{2x^2-3}{2x^2+3} \right)^{\frac{-x^3}{x^3+1}}$

d)  $\lim_{x \rightarrow 2} \frac{2 - \sqrt{x+2}}{-2x^2 + 4x}$

a)  $\lim_{x \rightarrow -\infty} \frac{-2x^4 - 3x + 5}{-3x^3 + x - 3} = \lim_{x \rightarrow -\infty} \frac{-2x^4}{-3x^3} = \frac{-\infty}{+\infty} = -\infty$

b)  $\lim_{x \rightarrow +\infty} \frac{2\sqrt[5]{x^2-5}}{-\sqrt[5]{x^2} + 3\sqrt[10]{x^4} + x} = \lim_{x \rightarrow +\infty} \frac{2\sqrt[5]{x^2}}{-\sqrt[5]{x^2} + 3\sqrt[10]{x^4} + x} = \lim_{x \rightarrow +\infty} \frac{2\sqrt[5]{x^2}}{2\sqrt[5]{x^2}} = 1$

c)  $\lim_{x \rightarrow +\infty} (2x - \sqrt{4x^2 - x}) = \infty - \infty \Rightarrow \lim_{x \rightarrow +\infty} (2x - \sqrt{4x^2 - x}) = \lim_{x \rightarrow +\infty} \frac{(2x - \sqrt{4x^2 - x})(2x + \sqrt{4x^2 - x})}{2x + \sqrt{4x^2 - x}} =$   
 $= \lim_{x \rightarrow +\infty} \frac{4x^2 - (4x^2 - x)}{2x + \sqrt{4x^2 - x}} = \lim_{x \rightarrow +\infty} \frac{x}{2x + \sqrt{4x^2 - x}} = \lim_{x \rightarrow +\infty} \frac{x}{4x} = \frac{1}{4}$

d)  $\lim_{x \rightarrow 2} \frac{2 - \sqrt{x+2}}{-2x^2 + 4x} = \frac{0}{0} \Rightarrow \lim_{x \rightarrow 2} \frac{2 - \sqrt{x+2}}{-2x^2 + 4x} = \lim_{x \rightarrow 2} \frac{(2 - \sqrt{x+2})(2 + \sqrt{x+2})}{2x(-x+2)(2 + \sqrt{x+2})} = \lim_{x \rightarrow 2} \frac{4 - x - 2}{2x(-x+2)(2 + \sqrt{x+2})} =$   
 $= \lim_{x \rightarrow 2} \frac{-x+2}{2x(-x+2)(2 + \sqrt{x+2})} = \lim_{x \rightarrow 2} \frac{1}{2x(2 + \sqrt{x+2})} = \frac{1}{16}$

e)  $\lim_{x \rightarrow -3} \frac{4x^2}{(x+3)^2} = \frac{36}{0} \Rightarrow \lim_{x \rightarrow -3^-} \frac{4x^2}{(x+3)^2} = \frac{36}{0^+} = +\infty, \lim_{x \rightarrow -3^+} \frac{4x^2}{(x+3)^2} = \frac{36}{0^+} = +\infty \Rightarrow \lim_{x \rightarrow -3} \frac{4x^2}{(x+3)^2} = +\infty$

f)  $\lim_{x \rightarrow -2} \frac{1}{1 + \frac{1}{1+x}} = \frac{1}{0} \Rightarrow \lim_{x \rightarrow -2^-} \frac{1}{1 + \frac{1}{1+x}} = \frac{1}{0^+} = +\infty, \lim_{x \rightarrow -2^+} \frac{1}{1 + \frac{1}{1+x}} = \frac{1}{0^-} = -\infty \Rightarrow$  No existe límite.

g)  $\lim_{x \rightarrow \frac{3}{2}} \frac{4x^3 + 16x^2 + 21x + 9}{4x^3 + 20x^2 + 33x + 18} = \frac{0}{0} \Rightarrow \lim_{x \rightarrow \frac{3}{2}} \frac{4x^3 + 16x^2 + 21x + 9}{4x^3 + 20x^2 + 33x + 18} = \lim_{x \rightarrow \frac{3}{2}} \frac{\left(x + \frac{3}{2}\right)^2 (4x+4)}{\left(x + \frac{3}{2}\right)^2 (4x+8)} = \frac{-6+4}{-6+8} = -1$

h)  $\lim_{x \rightarrow 3} \left[ \frac{1}{x-3} - \frac{3}{x^2-9} \right] = \infty - \infty \Rightarrow \lim_{x \rightarrow 3} \left[ \frac{1}{x-3} - \frac{3}{x^2-9} \right] = \lim_{x \rightarrow 3} \left[ \frac{x+3-3}{x^2-9} \right] = \lim_{x \rightarrow 3} \left[ \frac{x}{x^2-9} \right] = \frac{3}{0} = -\infty$

i)  $\lim_{x \rightarrow -4} \left( \frac{2x-3}{-11} \right)^{\frac{x+4}{3}} = 1^0 = 1$

j)  $\lim_{x \rightarrow +\infty} \left( \frac{2x^2-3}{2x^2+3} \right)^{\frac{-x^3}{x^3+1}} = 1^{-1} = 1$

3. a) Demuestra que la sucesión  $a_n = \frac{2n-3}{n+5}$  es monótona creciente y acotada superiormente.  
 b) Calcula su límite.

a) Monótona creciente. Se debe demostrar que  $a_{n+1} - a_n \geq 0$ :

$$a_{n+1} - a_n = \frac{2(n+1)-3}{n+1+5} - \frac{2n-3}{n+5} = \frac{2n^2 + 10n - n - 5 + 2n^2 - 12n + 3n + 18}{(n+6)(n+5)} = \frac{13}{(n+6)(n+5)} > 0$$

Acotada superiormente por 2. Se debe demostrar que  $a_n - 2 \leq 0$ .

$$a_n - 2 = \frac{2n-3}{n+5} - 2 = \frac{2n-3-2n-10}{n+5} = -\frac{13}{n+5} < 0$$

b)  $\lim_{x \rightarrow +\infty} \frac{2n-3}{n+5} = \lim_{x \rightarrow +\infty} \frac{2n}{n} = 2$

4. Calcula el valor de  $a$  para que el siguiente límite valga  $e^2$ .

$$\lim_{x \rightarrow +\infty} \left( \frac{3x^2 + 2x + 1}{3x^2 - 1} \right)^{ax+1}$$

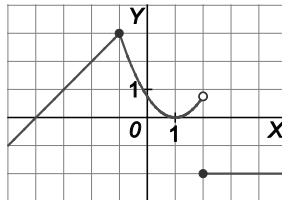
$$\begin{aligned} \lim_{x \rightarrow +\infty} \left( \frac{3x^2 + 2x + 1}{3x^2 - 1} \right)^{ax+1} &= 1^\infty \Rightarrow \lim_{x \rightarrow +\infty} \left( \frac{3x^2 + 2x + 1}{3x^2 - 1} \right)^{ax+1} = e^{\lim_{x \rightarrow +\infty} (ax+1) \left( \frac{3x^2 + 2x + 1}{3x^2 - 1} - 1 \right)} = e^{\lim_{x \rightarrow +\infty} (ax+1) \left( \frac{2x+2}{3x^2-1} \right)} = \\ &= e^{\lim_{x \rightarrow +\infty} \frac{2ax^2}{3x^2}} = e^{\frac{2a}{3}} = 2 \Rightarrow \frac{2a}{3} = 2 \Rightarrow a = 3 \end{aligned}$$

5. Dada la función  $f(x) = \begin{cases} x+4 & \text{si } x < -1 \\ a(x-1)^2 & \text{si } -1 \leq x < 2 \\ -2 & \text{si } x \geq 2 \end{cases}$ :

- a) Calcula el valor de  $a$  para que sea continua en el punto  $x = -1$ .  
 b) Para este valor de  $a$  hallado, dibuja la función e indica el tipo de discontinuidad que presenta en  $x = 2$ .

a)  $\lim_{x \rightarrow -1^-} f(x) = \lim_{x \rightarrow -1^-} (x+4) = 3$ ,  $\lim_{x \rightarrow -1^+} f(x) = \lim_{x \rightarrow -1^+} (a(x-1)^2) = 4a = f(-1)$ . Luego  $4a = 3 \Rightarrow a = \frac{3}{4}$

b)



Como  $\lim_{x \rightarrow 2^-} f(x) = \lim_{x \rightarrow 2^-} \left( \frac{3}{4}(x-1)^2 \right) = \frac{3}{4}$  y  $\lim_{x \rightarrow 2^+} f(x) = \lim_{x \rightarrow 2^+} (-2) = -2$ , la función presenta una discontinuidad de salto finito en  $x = 2$ .

6. \*Con la ayuda del teorema de Bolzano y de forma razonada, indica tres intervalos, sin puntos comunes entre ellos, en los que la ecuación  $-2x^3 + 3x^2 + x - 1 = 0$  tenga una solución.

$f(x) = -2x^3 + 3x^2 + x - 1$  Es continua en todo  $\mathbb{R}$  y, por tanto, en cualquier intervalo cerrado.

$$\begin{cases} f(-1) = 2 + 3 - 1 - 1 = 3 > 0 \\ f(0) = -1 < 0 \end{cases} \Rightarrow \exists c_1 \in (-1, 0) \text{ tal que } f(c_1) = 0$$

$$\begin{cases} f(0) = -1 < 0 \\ f(1) = -2 + 3 + 1 - 1 = 1 > 0 \end{cases} \Rightarrow \exists c_2 \in (0, 1) \text{ tal que } f(c_2) = 0$$

$$\begin{cases} f(1) = 1 > 0 \\ f(2) = -16 + 12 + 2 - 1 = -3 < 0 \end{cases} \Rightarrow \exists c_3 \in (1, 2) \text{ tal que } f(c_3) = 0$$

7. Estudia si la función  $f(x) = \frac{1}{x^2}$  es acotada e indica, si existe, su supremo, ínfimo, máximo y mínimo en:

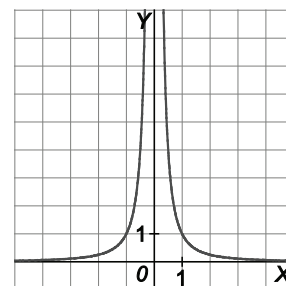
- a) Toda la recta real  $\mathbb{R}$ .  
b) El intervalo  $[-2, -1]$ .

- a) En  $\mathbb{R}$ , la función es acotada inferiormente, pero no superiormente.

El ínfimo es  $m = 0$ , pero no tiene mínimo. No tiene ni máximo ni supremo.

- b) En el intervalo cerrado  $[-2, -1]$  la función es acotada superiormente e inferiormente.

El máximo absoluto (y supremo) lo alcanza en  $x = -1$  y vale 1 y el mínimo absoluto (e ínfimo) lo alcanza en  $x = -2$  y vale 0,25.



Relaciona y contesta

Elige la única respuesta correcta en cada caso

1. El valor de  $\lim_{x \rightarrow -\infty} \log_2 \left( \frac{2 - 2^x}{2} \right)$  vale:

- A.  $+\infty$                       B.  $-\infty$                       C. 1                      D. 0

La solución es D. Calculando el límite:  $\lim_{x \rightarrow -\infty} \log_2 \left( \frac{2 - 2^x}{2} \right) = \log_2 \left( \frac{2 - 0}{2} \right) = \log_2 1 = 0$

2. Calcula a y b para que  $\lim_{x \rightarrow 2} \frac{x^3 - x^2 + ax + b}{x^3 - 7x^2 + 16x - 12} = -5$

- A.  $a = 8, b = -12$                       B.  $a = -8, b = 12$                       C.  $a = 8, b = 12$                       D.  $a = -8, b = -12$

La solución es B.  $\lim_{x \rightarrow 2} \frac{x^3 - x^2 + ax + b}{x^3 - 7x^2 + 16x - 12} = \frac{8 - 4 + 2a + b}{0}$ . Para que este límite sea finito, es necesario que  $4 + 2a + b = 0$ .

En este caso,  $\lim_{x \rightarrow 2} \frac{x^3 - x^2 + ax + b}{x^3 - 7x^2 + 16x - 12} = \lim_{x \rightarrow 2} \frac{(x-2)(x^2 + x + a + 2)}{(x-2)(x^2 - 5x + 6)} = \lim_{x \rightarrow 2} \frac{x^2 + x + a + 2}{x^2 - 5x + 6} = \frac{8 + a}{0} \Rightarrow a = -8, b = 12$

Se comprueba que para estos valores el límite vale:  $\lim_{x \rightarrow 2} \frac{x^3 - x^2 - 8x + 12}{x^3 - 7x^2 + 16x - 12} = \lim_{x \rightarrow 2} \frac{6x - 2}{6x - 14} = \frac{10}{-2} = -5$

3. La función  $f(x) = \frac{x^2 - x - 6}{x - 3}$ :

- A. Es continua en  $x = 3$
- B. Presenta una discontinuidad evitable en  $x = 3$ .
- C. Presenta una discontinuidad de salto finito en  $x = 3$ .
- D. Presenta una discontinuidad de salto infinito en  $x = 3$ .

La solución es B. En  $x = 3$ , la función no está definida pero tomando límites se tiene:

$$\lim_{x \rightarrow 3^-} \frac{x^2 - x - 6}{x - 3} = \frac{0}{0} \Rightarrow \lim_{x \rightarrow 3^-} \frac{x^2 - x - 6}{x - 3} = \lim_{x \rightarrow 3^-} \frac{(x+2)(x-3)}{x-3} = \lim_{x \rightarrow 3^-} (x+2) = 5$$

$$\lim_{x \rightarrow 3^+} \frac{x^2 - x - 6}{x - 3} = \frac{0}{0} \Rightarrow \lim_{x \rightarrow 3^+} \frac{x^2 - x - 6}{x - 3} = \lim_{x \rightarrow 3^+} \frac{(x+2)(x-3)}{x-3} = \lim_{x \rightarrow 3^+} (x+2) = 5$$

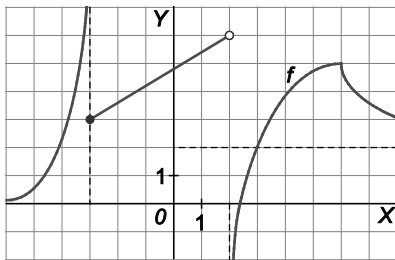
**Señala, en cada caso, las respuestas correctas**

4. La ecuación  $x^5 + ax^3 + b = 0$ :

- A. Tiene al menos una solución.
- B. Tiene al menos dos soluciones.
- C. Puede no tener solución.
- D. Puede tener más de una solución.

Las soluciones son A y D. Por tener grado impar sus límites en  $\pm\infty$  son  $\pm\infty$ , respectivamente, y por ser además continua, la función debe cortar al menos una vez al eje de abscisas, es decir, tener al menos una solución. Puede que solo corte una vez o puede que lo corte hasta 5 veces, dependerá de si las soluciones son reales o complejas.

5. Dada la gráfica de  $f(x)$ :



- A.  $\lim_{x \rightarrow +\infty} f(x) = 2$
- B.  $\lim_{x \rightarrow 3^-} f(x) = +\infty$
- C.  $\lim_{x \rightarrow -3^+} f(x) = 3$
- D.  $\lim_{x \rightarrow -\infty} f(x) = 0$

Las soluciones son A, C y D. Observando la gráfica, se aprecia que B no es cierta porque  $\lim_{x \rightarrow 3^-} f(x) = 2$ .

**Elige la relación correcta entre las dos afirmaciones dadas**

6. El dominio de la función  $f$  es el intervalo  $[3,7]$  y es continua en dicho dominio.

- 1.  $f(x) = 0$  tiene una raíz en  $(3,7)$ .
- 2.  $f(3)f(7) < 0$
- A.  $1 \Leftrightarrow 2$
- B.  $1 \Rightarrow 2$  pero  $2 \not\Rightarrow 1$
- C.  $2 \Rightarrow 1$  pero  $1 \not\Rightarrow 2$ .
- D. 1 y 2 no se pueden dar a la vez.

La solución es C. Esta relación es clara por el teorema de Bolzano, que asegura al menos una raíz si hay cambio de signo en los extremos. Las respuestas A y B no son correctas, porque por ejemplo la función constante cero verifica 1, pero no 2. Finalmente, la respuesta D sería un contraejemplo del teorema de Bolzano.

**Señala el dato innecesario para contestar**

7. Se desea estudiar si la ecuación  $f(x) = 6$  tiene o no solución en el intervalo  $[-3,3]$ . ¿Qué dato es innecesario?

- A.  $D(f) = \mathbb{R}$
- B.  $f(x)$  es continua en  $[-3,3]$
- C.  $2 < f(-3) < 4$
- D.  $8 < f(3) < 10$

No es necesario conocer que el dominio de la función sea  $\mathbb{R}$ , porque es suficiente conocer el comportamiento de la función definida por esa ecuación  $h(x) = f(x) - 6$  en el intervalo  $[-3,3]$ . Por tanto, el dato innecesario es A.