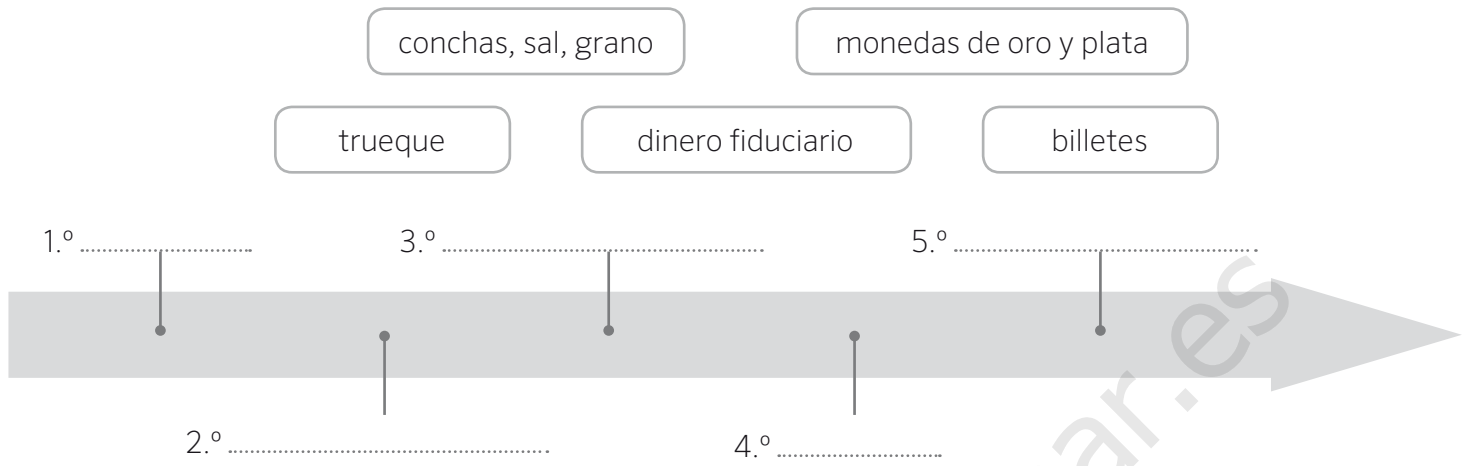


1 Completa esta línea de tiempo con la evolución del dinero.



2 Resuelve el crucigrama.

- a) Personas que compran acciones de una empresa.
- b) Medio de intercambio aceptado por las sociedades para comprar bienes y pagar servicios.
- c) Intercambio de bienes entre las personas para cubrir sus necesidades.
- d) Función del dinero en la que se cambia dinero por un producto.
- e) Es una de las funciones del dinero y empieza con la letra a.
- f) Espacio donde las empresas se ponen a la venta para recaudar dinero para ampliar su negocio.

X	Q	R	T	R	D	I	N	E	R	O	L	A	V
A	B	A	P	E	Q	N	M	E	C	O	L	X	O
O	C	I	O	G	R	V	A	V	E	K	A	I	E
S	A	V	T	R	U	E	Q	U	E	S	O	C	R
T	U	C	O	M	P	R	A	V	E	R	O	Ñ	O
N	O	S	I	S	M	S	N	I	Q	U	E	C	T
C	A	P	Z	A	H	O	R	R	O	C	E	E	T
L	O	R	I	S	M	R	N	O	L	Q	S	M	W
B	O	L	S	A	D	E	V	A	L	O	R	E	S
S	O	K	U	S	U	S	I	N	E	R	T	A	M

3 Une con flechas.

- | | |
|-------------------|----------------------|
| Alquiler • | |
| Ropa • | |
| Luz • | • Gastos fijos |
| Reparaciones • | |
| Cine • | |
| Agua • | • Gastos variables |
| Hospitalización • | |
| Teatro • | |
| Transporte • | |
| Vacaciones • | • Gastos inesperados |
| Gasolina • | |
| Supermercado • | |

4 Lee estas definiciones y di a qué tipo de empresa se refieren.

- Somos una empresa familiar. Fabricamos alpargatas que vendemos por toda España. Tenemos 100 trabajadores.
- Trabajo para una empresa española que vende ropa y que tiene sedes en más de 60 países del mundo. Somos alrededor de 7000 empleados.
- Somos una cooperativa de productores de leche que nos juntamos para abrir una fábrica de yogures y quesos.
- Somos una empresa de servicios de publicidad y marketing. Tenemos sedes en Londres, Madrid, París y Roma. Tenemos aproximadamente 300 empleados.

5 Observa la imagen e indica quién representa la oferta y la demanda.



.....

.....

1 Relaciona cada una de las funciones del dinero con los siguientes usos:

VALOR DE CAMBIO

Calculo cuánto vale una bicicleta antigua.

MÉTODO DE AHORRO

Pago un refresco en el bar.

INDICADOR DE VALOR

Guardo mi dinero en una hucha para comprar algo más adelante.

2 Señala si las siguientes afirmaciones son verdaderas (V) o falsas (F). Corrige las falsas para que tengan sentido.

- a) El dinero es el medio de intercambio de bienes y servicios.
- b) El interés es la cantidad que tenemos que pagar al banco por tener el dinero guardado allí.
- c) El consumo excesivo provoca el agotamiento de muchos recursos.
- d) Las PYMEs son empresas con más de 250 trabajadores.

.....

.....

.....

3 Imagina un mundo en el que no hubiera dinero.

¿Cómo se producirían los intercambios?

.....

.....

.....

¿Qué problemas podrían surgir?

.....

.....

.....

1 Sitúa junto a cada fotografía los siguientes departamentos que forman parte de una empresa:

I+D

Fabricación

Marketing

Financiación



.....



.....



.....



.....

2 Contesta a las siguientes preguntas:

¿Por qué es tan importante el departamento de I+D en una empresa?

.....

¿Qué objetivo principal tiene el departamento de *marketing* de una empresa?

.....

1 Explica, con tus propias palabras, qué es la oferta y la demanda y cómo afecta al precio de las cosas.

.....





.....

.....

.....

.....

2 Observa la siguiente tabla, que muestra cómo ha subido el precio de algunos productos desde el año 2000 hasta ahora.

SUBIDA DE PRECIOS		
2000	Producto	2015
0,5 euros		0,75 euros
1 euro		1,5 euros
120 euros		150 euros
1200 euros		800 euros

¿Cómo se llama el proceso por el que los precios suben?

¿Qué productos de la tabla han subido más su precio durante este período? ¿En qué porcentaje?

Explica por qué ha podido bajar el precio de los ordenadores.

Si los salarios se han mantenido estables durante este período. ¿Cómo afecta la subida de precios al ahorro de las personas?

.....

.....

.....

.....

1 Imagina que eres dueño de un restaurante. Los clientes te proporcionan unos ingresos mensuales de 12.000 euros. El local no es tuyo y tienes que pagar un alquiler de 1.500 euros. Además, tienes empleados a dos cocineros y a un camarero, y has de pagar su sueldo de 1.200 euros todos los meses. Has decidido elaborar un presupuesto para gestionar mejor tu negocio.

a) ¿Qué gastos fijos tiene el restaurante?

.....

.....

.....

.....

.....

.....



b) ¿Cuáles son los gastos variables?

.....

.....

.....

.....

.....

c) ¿Qué otro tipo de gastos pueden surgir? ¿Cómo podrías afrontarlos?

.....

.....

.....

d) ¿Qué beneficio quedaría para ti una vez descontados los gastos?

.....

.....

.....

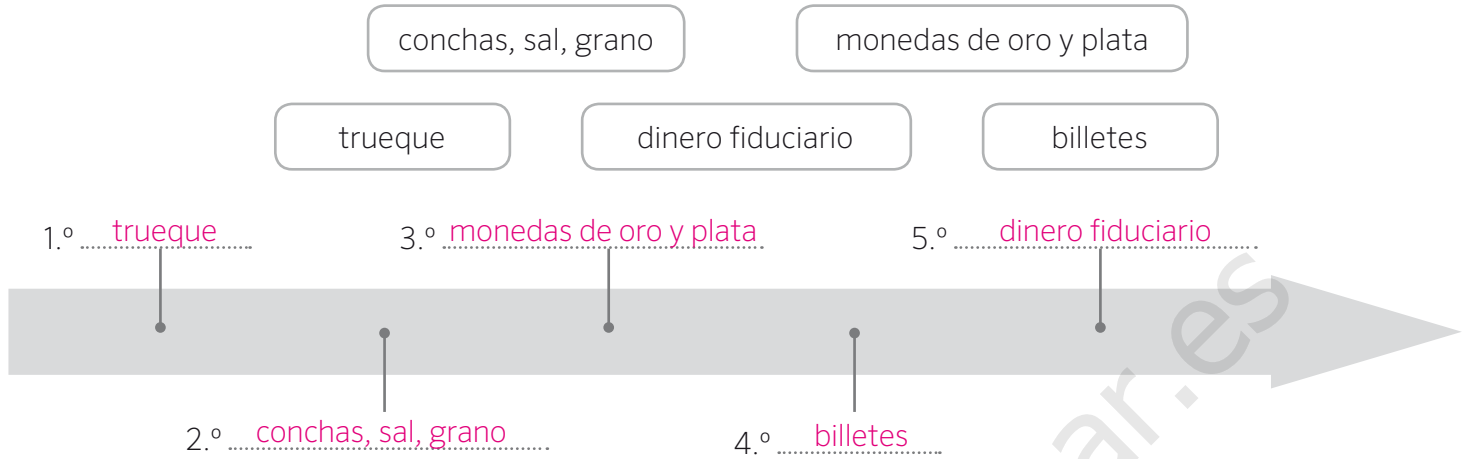
e) Quieres que el dinero ahorrado te genere unos intereses. ¿Qué podrías hacer para que fuera así?

.....

.....

.....

1 Completa esta línea de tiempo con la evolución del dinero.

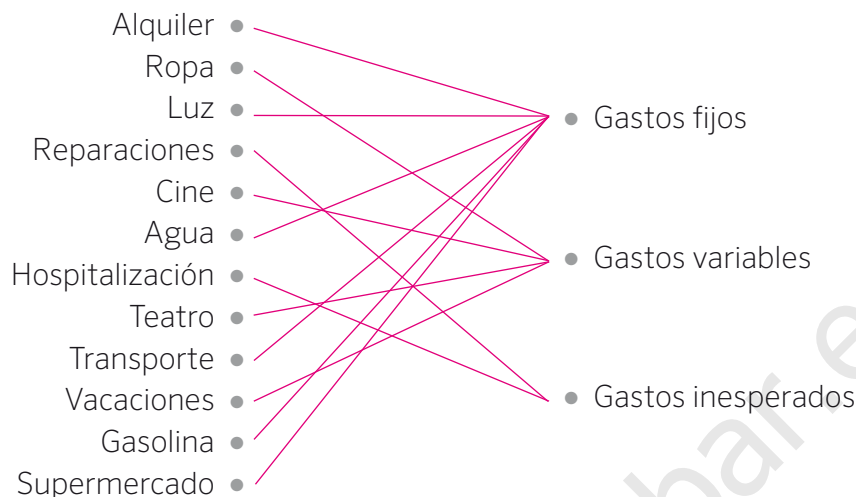


2 Resuelve el crucigrama.

- a) Personas que compran acciones de una empresa. Inversores
- b) Medio de intercambio aceptado por las sociedades para comprar bienes y pagar servicios. Dinero
- c) Intercambio de bienes entre las personas para cubrir sus necesidades. Trueque
- d) Función del dinero en la que se cambia dinero por un producto. Compra
- e) Es una de las funciones del dinero y empieza con la letra a. Ahorro
- f) Espacio donde las empresas se ponen a la venta para recaudar dinero para ampliar su negocio. Bolsa de valores

X	Q	R	T	R	D	I	N	E	R	O	L	A	V
A	B	A	P	E	Q	N	M	E	C	O	L	X	O
O	C	I	O	G	R	V	A	V	E	K	A	I	E
S	A	V	T	R	U	E	Q	U	E	S	O	C	R
T	U	C	O	M	P	R	A	V	E	R	O	Ñ	O
N	O	S	I	S	M	S	N	I	Q	U	E	C	T
C	A	P	Z	A	H	O	R	R	O	C	E	E	T
L	O	R	I	S	M	R	N	O	L	Q	S	M	W
B	O	L	S	A	D	E	V	A	L	O	R	E	S
S	O	K	U	S	U	S	I	N	E	R	T	A	M

3 Une con flechas.



4 Lee estas definiciones y di a qué tipo de empresa se refieren.

- Somos una empresa familiar. Fabricamos alpargatas que vendemos por toda España. Tenemos 100 trabajadores. **PYME.**
- Trabajo para una empresa española que vende ropa y que tiene sedes en más de 60 países del mundo. Somos alrededor de 7000 empleados. **Multinacional.**
- Somos una cooperativa de productores de leche que nos juntamos para abrir una fábrica de yogures y quesos. **PYME.**
- Somos una empresa de servicios de publicidad y marketing. Tenemos sedes en Londres, Madrid, París y Roma. Tenemos aproximadamente 300 empleados. **Gran empresa.**

5 Observa la imagen e indica quién representa la oferta y la demanda.



La mujer representa la oferta porque es la vendedora, mientras que el hombre representa la demanda, porque es el comprador.

1 Relaciona cada una de las funciones del dinero con los siguientes usos:

VALOR DE CAMBIO

Calculo cuánto vale una bicicleta antigua.

MÉTODO DE AHORRO

Pago un refresco en el bar.

INDICADOR DE VALOR

Guardo mi dinero en una hucha para comprar algo más adelante.

2 Señala si las siguientes afirmaciones son verdaderas (V) o falsas (F). Corrige las falsas para que tengan sentido.

- a) El dinero es el medio de intercambio de bienes y servicios.
- b) El interés es la cantidad que tenemos que pagar al banco por tener el dinero guardado allí.
- c) El consumo excesivo provoca el agotamiento de muchos recursos.
- d) Las PYMEs son empresas con más de 250 trabajadores.

B...El interés es la cantidad que recibimos por tener depositado nuestro dinero en el banco.....

D...Las PYMEs son empresas con menos de 250 trabajadores.....

3 Imagina un mundo en el que no hubiera dinero.

¿Cómo se producirían los intercambios?

Los intercambios se harían mediante trueque de unos productos o servicios por otros, para así poder cubrir sus necesidades básicas.....

¿Qué problemas podrían surgir?

Sería complicado establecer un valor para los intercambios de bienes o servicios que son muy diferentes entre sí.....

1 Sitúa junto a cada fotografía los siguientes departamentos que forman parte de una empresa:

I+D

Fabricación

Marketing

Financiación



I + D



Financiación



Fabricación



Marketing

2 Contesta a las siguientes preguntas:

¿Por qué es tan importante el departamento de I+D en una empresa?

Porque es el departamento encargado de la innovación y crea nuevos productos que son atractivos para el mercado.

¿Qué objetivo principal tiene el departamento de *marketing* de una empresa?





El principal objetivo de un departamento de *marketing* es dar a conocer un producto y buscar en los posibles consumidores la necesidad de adquirirlo.

- 1 Explica, con tus propias palabras, qué es la oferta y la demanda y cómo afecta al precio de las cosas.

Respuesta modelo. La oferta es la cantidad de bienes que hay en el mercado, con un precio establecido y en un momento determinado. La demanda hace referencia al número de consumidores que quieren adquirir esos bienes.

Si la demanda es muy alta y la oferta es escasa, el precio de esos bienes sube. Por el contrario, si la demanda es muy baja y la oferta es elevada, el precio de esos bienes tenderá a bajar.

- 2 Observa la siguiente tabla, que muestra cómo ha subido el precio de algunos productos desde el año 2000 hasta ahora.

SUBIDA DE PRECIOS		
2000	Producto	2015
0,5 euros		0,75 euros
1 euro		1,5 euros
120 euros		150 euros
1200 euros		800 euros

¿Cómo se llama el proceso por el que los precios suben?

Inflación.

¿Qué productos de la tabla han subido más su precio durante este período? ¿En qué porcentaje?

La barra de pan y el paquete de azúcar.

El incremento ha sido del 50% en ambos

casos.

Explica por qué ha podido bajar el precio de los ordenadores.

Porque cada vez hay más oferta de

ordenadores en el mercado.

Si los salarios se han mantenido estables durante este período. ¿Cómo afecta la subida de precios al ahorro de las personas?

El ahorro baja, puesto que las personas

dedican más dinero a adquirir estos

bienes.

- 1 Imagina que eres dueño de un restaurante. Los clientes te proporcionan unos ingresos mensuales de 12.000 euros. El local no es tuyo y tienes que pagar un alquiler de 1.500 euros. Además, tienes empleados a dos cocineros y a un camarero, y has de pagar su sueldo de 1.200 euros todos los meses. Has decidido elaborar un presupuesto para gestionar mejor tu negocio.

a) ¿Qué gastos fijos tiene el restaurante?

El gasto del alquiler, 1.500 euros, y el sueldo de los tres
trabajadores, que suponen 3.600 euros. Eso hace un
total 5.100 euros.



b) ¿Cuáles son los gastos variables?

Los gastos variables son los derivados de la compra que se haga cada día, tanto de la comida como
de la bebida y también productos de limpieza, electricidad, gas, etc.

c) ¿Qué otro tipo de gastos pueden surgir? ¿Cómo podrías afrontarlos?

Podría romperse alguno de los electrodomésticos, por ejemplo. La forma de afrontar los gastos sería
mediante un ahorro previo. O mediante el pago a plazos del electrodoméstico estropeado.

d) ¿Qué beneficio quedaría para ti una vez descontados los gastos?

Depende de los gastos variables. El alumno debería calcular una cantidad para los gastos variables.
También es interesante comentar que los ingresos mensuales pueden sufrir variaciones, y que unos
meses se puede ingresar más dinero y otros meses menos.

e) Quieres que el dinero ahorrado te genere unos intereses. ¿Qué podrías hacer para que fuera así?

Podría ingresar los ahorros en el banco, de forma que generaran unos intereses.