

Nombre: Fecha: Curso:

1 Indica a qué hechos de la primera mitad del siglo xx se refieren estas imágenes.



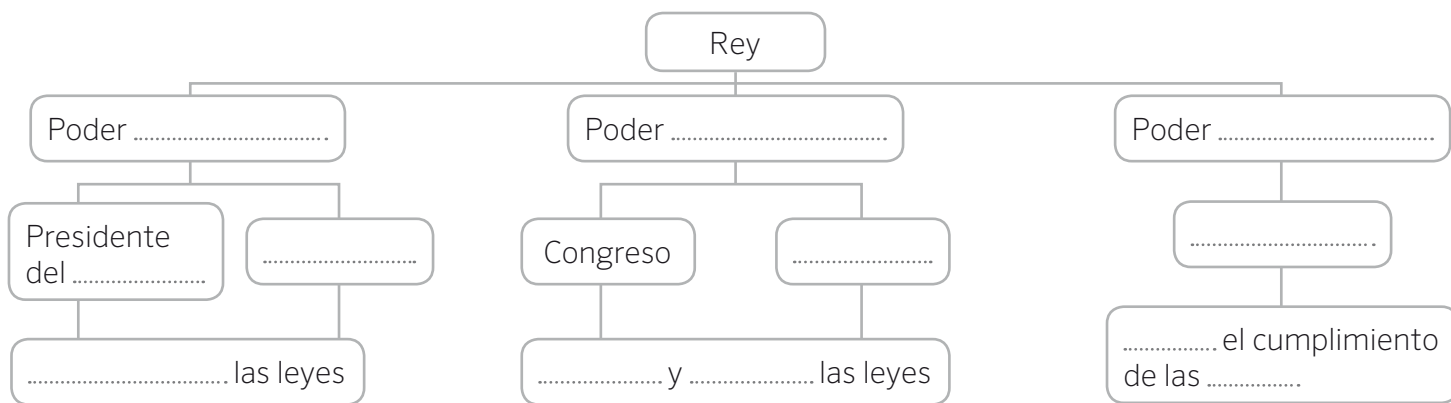
2 Completa estas frases relacionadas con los derechos humanos.

- a) En 1948 se firmó la
- b) La esclavitud atenta contra el derecho
- c) El sufragio universal fue un gran avance para el derecho
- d) Las guerras mundiales atentaron contra el derecho

3 Ordena estos hechos de forma cronológica. Escribe, al lado de cada hecho, las fechas que faltan.

- a) Se proclama la Segunda República
- b) Golpe de Estado de Primo de Rivera
- c) Crisis de 1917
- d) Se inicia el reinado de Alfonso XIII de Borbón
- e) Abdica Alfonso XIII
- f) Renuncia de Primo de Rivera

4 Completa las cartelas con las palabras adecuadas.



Nombre: Fecha: Curso:

- 5 Completa la tabla con los acontecimientos que se produjeron en estas fechas.

..... Juan Carlos I, rey.
..... Adolfo Suárez, presidente del Gobierno.
..... Primeras elecciones democráticas tras la muerte de Franco.
..... Aprobación de la Constitución actual.
..... Primer gobierno del PSOE.
..... España accede a la Comunidad Económica Europea (CEE).
..... Se inaugura la primera línea de AVE para la Exposición Universal de Sevilla. Barcelona acoge los Juegos Olímpicos.
..... Primer gobierno del PP.
..... Se pone en circulación el euro.
..... Segundo gobierno del PSOE, con José Luis Rodríguez Zapatero.
..... Inicio de la crisis económica.
..... Segundo gobierno del PP, con Mariano Rajoy.
..... Felipe VI, nuevo rey.

- 6 Define con tus palabras los siguientes términos.

Crecimiento natural:

.....

.....

.....

Saldo migratorio:

.....

.....

.....

Crecimiento real:

.....

.....

.....

Nombre: Fecha: Curso:

1 Rodea cuál de estos conceptos están relacionados con la Constitución de 1978.

Monarquía parlamentaria

Estado de las Autonomías

Estado centralista

Gobierno dictatorial

Separación de poderes

Sufragio universal

2 Colorea las comunidades y ciudades autónomas españolas y escribe el nombre de cada una.



- 1 13
- 2 14
- 3 15
- 4 16
- 5 17
- 6 18
- 7 19
- 8
- 9
- 10
- 11
- 12

3 Di qué provincias conforman las siguientes comunidades autónomas pluriprovinciales.

Galicia:

País Vasco:

Castilla y León:

Aragón:

Extremadura:

Castilla-La Mancha:

Comunidad Valenciana:

Cataluña:

Andalucía:

1 Rodea las características de la Constitución de 1978.

- | | |
|--------------------------------|----------------------------------|
| Juan Carlos I • | • Rey desde 2014. |
| Adolfo Suárez • | • Segundo gobierno del PSOE. |
| Felipe González • | • Primer presidente democrático. |
| José María Aznar • | • Segundo gobierno del PP. |
| José Luís Rodríguez Zapatero • | • Primer gobierno del PP. |
| Mariano Rajoy • | • Primer gobierno del PSOE. |
| Felipe VI • | • Rey desde 1975. |

2 Escribe V si la afirmación es verdadera y F si es falsa. Corrige las falsas.

a) Hoy en día, los jóvenes tienen más libertades y su educación es obligatoria hasta los 16 años.

.....

b) La población española es cada día más joven.

.....

c) Hasta la actualidad, se han alternado en el poder socialistas y populares.

.....

d) La sociedad es más abierta e intercultural gracias a la llegada de inmigrantes.

.....

e) El censo es el registro municipal de nacimientos y muertes que se hace cada año.

.....

f) La ciencia que analiza la población se llama censo.

.....

3 Lee y completa.

a) Si eres de Murcia y te vas a vivir a Madrid eres un

b) Cuando llegas a Madrid, te conviertes en un

c) Cuando hablas del número de personas que vive en un determinado lugar (en km²) te refieres a su

.....

1 Completa cada frase con los países correctos y pinta el mapa de acuerdo a estas indicaciones.

- a) De color azul, los países que formaron la CEE en 1957
-
- b) En rojo, los Estados que entraron en 1973
- c) En marrón, la ampliación en 1981
- d) En verde, los países que ingresaron en 1986
- e) En naranja, los que se incorporaron en 1995
- f) En rosa, los nuevos países en 2004
-
- g) En amarillo, las incorporaciones en 2007
- h) En morado, el país que sumó a la UE en 2013



2 Responde estas preguntas.

- a) ¿Qué moneda común tienen gran parte de los países de la UE?
- b) Con qué nombre se conoce la CEE a partir de 1992?
- c) ¿Cómo se llama el tratado con el que empezó la historia de la Unión Europea?
- d) ¿Cuántos países forman parte de la Unión Europea en la actualidad?

Nombre: Fecha: Curso:

- 1 Lee y realiza las actividades.

La otra amenaza de España: la reducción y el envejecimiento de la población

Si la progresión de la población se mantiene como hasta ahora, España perderá 1.022.852 habitantes en los próximos 15 años y más de 5,6 millones dentro de 50 años, según consta en la proyección de la población de España 2014-2064 elaborada por el Instituto Nacional de Estadística (INE). En concreto, la población en España se reduciría hasta los 45,8 millones en el año 2024 y los 40,9 millones en 2064.

La esperanza de vida al nacer alcanzaría los 84 años en los varones y los 88,7 en las mujeres en 2029. De mantenerse la tendencia actual, en 2064 la esperanza de vida de los hombres superaría los 91 años y la de las mujeres casi alcanzaría los 95.

La reducción de la población se debe, principalmente, al progresivo aumento de las defunciones y a la disminución de los nacimientos, fenómeno que será especialmente acusado a partir de 2040.

De mantenerse la situación demográfica de la actualidad, la pérdida de población se concentraría en el tramo de edad entre 30 y 49 años, que se reduciría en 1,1 millones de personas en los próximos 15 años y en 6,8 millones menos en los próximos 50 años.

Además, el descenso de la natalidad provocaría que en 2029 hubiera unos 1.576.000 niños menores de 10 años menos que en la actualidad (un 32,8%) y 2,3 millones menos en 50 años (un 48,9% inferior). Por el contrario, todos los grupos de edad a partir de los 70 años experimentarían un crecimiento.

El Economista, 28 de octubre de 2014

- a) Marca con una cruz cuál crees que es el tema de la noticia.

España envejece y pierde población

España será más joven en 2064

Habrá más jubilados en 2024

- b) Indica a qué fuente de información se refiere la noticia.

.....

- c) ¿Qué consecuencias puede tener que haya cada vez más ancianos y que cada vez sea menor el número de niños, jóvenes y adultos?

.....

Nombre: Fecha: Curso:

1 Indica a qué hechos de la primera mitad del siglo XX se refieren estas imágenes.



Imperialismo y esclavitud



Segunda Guerra Mundial



Sufragio universal

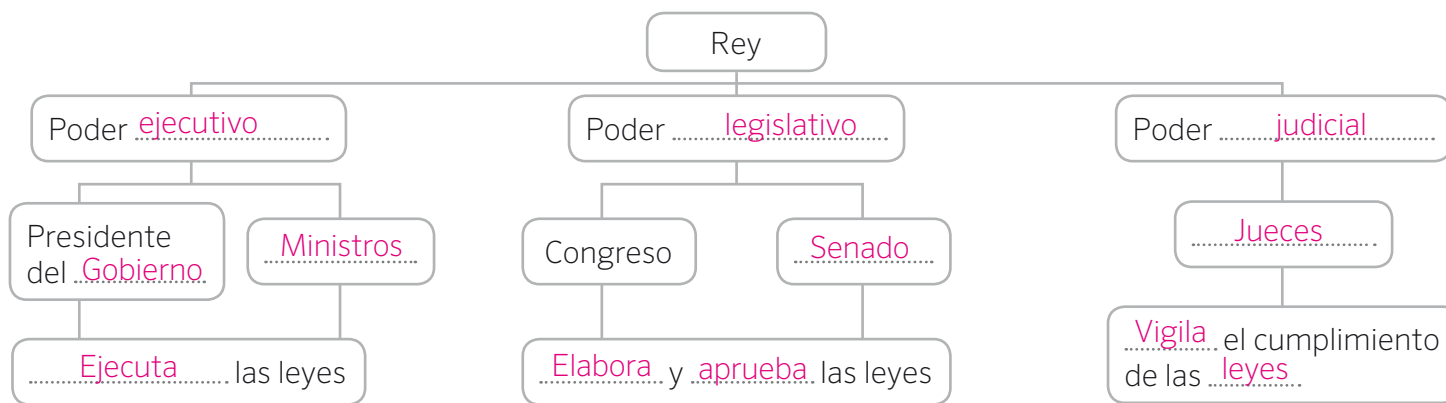
2 Completa estas frases relacionadas con los derechos humanos.

- a) En 1948 se firmó la Declaración Universal de los Derechos Humanos.
- b) La esclavitud atenta contra el derecho a la libertad.
- c) El sufragio universal fue un gran avance para el derecho a la igualdad.
- d) Las guerras mundiales atentaron contra el derecho a la vida.

3 Ordena estos hechos de forma cronológica. Escribe, al lado de cada hecho, las fechas que faltan.

- a) Se proclama la Segunda República 1931; número 6.
- b) Golpe de Estado de Primo de Rivera 1923; número 3.
- c) Crisis de 1917 1917; número 2.
- d) Se inicia el reinado de Alfonso XIII de Borbón 1902; número 1.
- e) Abdica Alfonso XIII 1931; número 5.
- f) Renuncia de Primo de Rivera 1930; número 4.

4 Completa las cartelas con las palabras adecuadas.



Nombre: Fecha: Curso:

5 Completa la tabla con los acontecimientos que se produjeron en estas fechas.

...1975...	Juan Carlos I, rey.
...1976...	Adolfo Suárez, presidente del Gobierno.
...1977...	Primeras elecciones democráticas tras la muerte de Franco.
...1978...	Aprobación de la Constitución actual.
...1982...	Primer gobierno del PSOE.
...1986...	España accede a la Comunidad Económica Europea (CEE).
...1992...	Se inaugura la primera línea de AVE para la Exposición Universal de Sevilla. Barcelona acoge los Juegos Olímpicos.
...1996...	Primer gobierno del PP.
...2002...	Se pone en circulación el euro.
...2004...	Segundo gobierno del PSOE, con José Luis Rodríguez Zapatero.
...2008...	Inicio de la crisis económica.
...2011...	Segundo gobierno del PP, con Mariano Rajoy.
...2014...	Felipe VI, nuevo rey.

6 Define con tus palabras los siguientes términos.

Crecimiento natural:

Se halla calculando la diferencia entre el número de fallecidos en un lugar a lo largo de un periodo de tiempo y los nacidos en ese mismo lugar en el mismo periodo.

Saldo migratorio:

Diferencia entre el número de personas que llegan a un lugar en un periodo de tiempo y el número de personas que emigran de ese mismo lugar en el mismo periodo.

Crecimiento real:

Se halla añadiendo al crecimiento natural de una población en un periodo de tiempo el saldo migratorio que resulte en ese mismo periodo.

Nombre: Fecha: Curso:

1 Rodea cuál de estos conceptos están relacionados con la Constitución de 1978.

Monarquía parlamentaria

Estado de las Autonomías

Estado centralista

Gobierno dictatorial

Separación de poderes

Sufragio universal

2 Colorea las comunidades y ciudades autónomas españolas y escribe el nombre de cada una.



- | | |
|--------------------------------|------------------------------|
| 1 Galicia | 13 Comunidad de Madrid |
| 2 Principado de Asturias | 14 Castilla y León |
| 3 Cantabria | 15 Extremadura |
| 4 País Vasco | 16 Andalucía |
| 5 Com. Foral de Navarra | 17 Canarias |
| 6 La Rioja | 18 Ceuta |
| 7 Aragón | 19 Melilla |
| 8 Cataluña | |
| 9 Illes Balears | |
| 10 Comunidad Valenciana | |
| 11 Región de Murcia | |
| 12 Castilla-La Mancha | |

3 Di qué provincias conforman las siguientes comunidades autónomas pluriprovinciales.

Galicia: A Coruña, Lugo, Ourense, Pontevedra

País Vasco: Bizkaia, Gipuzkoa, Araba/Álava

Castilla y León: León, Palencia, Burgos, Soria, Segovia, Ávila, Salamanca, Zamora, Valladolid

Aragón: Huesca, Zaragoza, Teruel

Extremadura: Cáceres, Badajoz

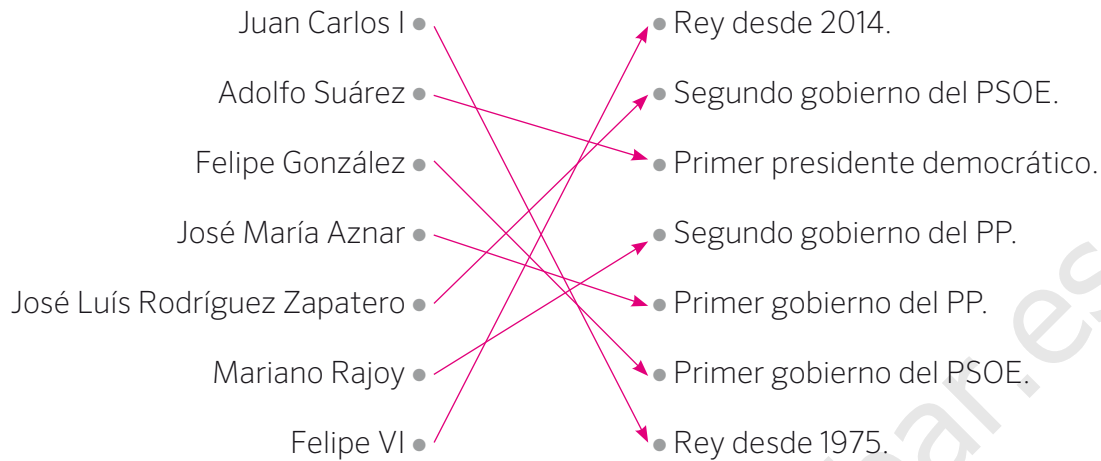
Castilla-La Mancha: Toledo, Ciudad Real, Cuenca, Albacete, Guadalajara

Comunidad Valenciana: Castellón, Valencia, Alicante

Cataluña: Girona, Barcelona, Lleida, Tarragona

Andalucía: Huelva, Sevilla, Córdoba, Málaga, Jaén, Granada, Almería, Cádiz

1 Rodea las características de la Constitución de 1978.



2 Escribe V si la afirmación es verdadera y F si es falsa. Corrige las falsas.

a) Hoy en día, los jóvenes tienen más libertades y su educación es obligatoria hasta los 16 años.

V.

b) La población española es cada día más joven.

F. La población española está envejeciendo desde hace varias décadas.

c) Hasta la actualidad, se han alternado en el poder socialistas y populares.

V.

d) La sociedad es más abierta e intercultural gracias a la llegada de inmigrantes.

V.

e) El censo es el registro municipal de nacimientos y muertes que se hace cada año.

F. Es el padrón municipal el que hace ese recuento anual. El censo lo hace el Estado cada diez años.

f) La ciencia que analiza la población se llama censo.

F. La ciencia que analiza la población se llama demografía.

3 Lee y completa.

a) Si eres de Murcia y te vas a vivir a Madrid eres un emigrante.

b) Cuando llegas a Madrid, te conviertes en un inmigrante.

c) Cuando hablas del número de personas que vive en un determinado lugar (en km²) te refieres a su

densidad de población.

1 Completa cada frase con los países correctos y pinta el mapa de acuerdo a estas indicaciones.

- a) De color azul, los países que formaron la CEE en 1957 Alemania, Francia, Bélgica, Países Bajos,
Luxemburgo e Italia.
- b) En rojo, los Estados que entraron en 1973 Irlanda, Reino Unido, Dinamarca.
- c) En marrón, la ampliación en 1981 Grecia.
- d) En verde, los países que ingresaron en 1986 España y Portugal.
- e) En naranja, los que se incorporaron en 1995 Suecia, Finlandia, Austria.
- f) En rosa, los nuevos países en 2004 Polonia, Hungría, República Checa, Eslovenia, Letonia,
Lituania, Estonia, Malta, Chipre, Eslovaquia.
- g) En amarillo, las incorporaciones en 2007 Rumanía y Bulgaria.
- h) En morado, el país que sumó a la UE en 2013 Croacia.



2 Responde estas preguntas.

- a) ¿Qué moneda común tienen gran parte de los países de la UE? El euro
- b) Con qué nombre se conoce la CEE a partir de 1992? Unión Europea (UE)
- c) ¿Cómo se llama el tratado con el que empezó la historia de la Unión Europea? Tratado de Roma
- d) ¿Cuántos países forman parte de la Unión Europea en la actualidad? 28

1 Lee y realiza las actividades.

La otra amenaza de España: la reducción y el envejecimiento de la población

Si la progresión de la población se mantiene como hasta ahora, España perderá 1.022.852 habitantes en los próximos 15 años y más de 5,6 millones dentro de 50 años, según consta en la proyección de la población de España 2014-2064 elaborada por el Instituto Nacional de Estadística (INE). En concreto, la población en España se reduciría hasta los 45,8 millones en el año 2024 y los 40,9 millones en 2064.

La esperanza de vida al nacer alcanzaría los 84 años en los varones y los 88,7 en las mujeres en 2029. De mantenerse la tendencia actual, en 2064 la esperanza de vida de los hombres superaría los 91 años y la de las mujeres casi alcanzaría los 95.

La reducción de la población se debe, principalmente, al progresivo aumento de las defunciones y a la disminución de los nacimientos, fenómeno que será especialmente acusado a partir de 2040.

De mantenerse la situación demográfica de la actualidad, la pérdida de población se concentraría en el tramo de edad entre 30 y 49 años, que se reduciría en 1,1 millones de personas en los próximos 15 años y en 6,8 millones menos en los próximos 50 años.

Además, el descenso de la natalidad provocaría que en 2029 hubiera unos 1.576.000 niños menores de 10 años menos que en la actualidad (un 32,8%) y 2,3 millones menos en 50 años (un 48,9% inferior). Por el contrario, todos los grupos de edad a partir de los 70 años experimentarían un crecimiento.

El Economista, 28 de octubre de 2014

a) Marca con una cruz cuál crees que es el tema de la noticia.

España envejece y pierde población

España será más joven en 2064

Habrá más jubilados en 2024

b) Indica a qué fuente de información se refiere la noticia.

Cita como fuente al estudio sobre la población de España para el periodo 2014-2064 elaborada por el Instituto Nacional de Estadística (INE).

c) ¿Qué consecuencias puede tener que haya cada vez más ancianos y que cada vez sea menor el número de niños, jóvenes y adultos?

Respuesta modelo. Que no hay recambio generacional y la población se hace cada vez más anciana, con lo que aumentan tanto los gastos en salud como la mortalidad. Además, si cada vez hay menos niños, se cerrarán escuelas en muchas zonas, y si hay menos adultos significa que existen menos trabajadores y, por tanto, menos dinero para pagar las jubilaciones de las personas mayores.