

Nombre: Fecha: Curso:

1 Sitúa en el mapa físico de Europa los números de los siguientes accidentes geográficos.



1. Alpes

2. Cárpatos

3. Urales

4. Cáucaso

5. Montes Escandinavos

6. Río Rin

7. Río Loira

8. Sicilia

9. Mar Báltico

10. Mar Negro

2 Completa las siguientes frases:

A. El Consejo de la UE tiene su sede en y lo forman los de los países de la Unión Europea.

B. La Comisión Europea tiene su sede en y está formada por elegidos por cada uno de los países miembros.

C. El Parlamento Europeo tiene su sede en y está formado por elegidos por los ciudadanos.

Nombre: Fecha: Curso:

3 Lee las siguientes frases y marca con un tic todas aquellas cosas que puedes hacer como ciudadano de la Unión Europea.

- Puedes viajar a cualquier país que forme parte de la Unión.
- Puedes utilizar el euro en cualquier país miembro.
- Puedes estudiar o trabajar en el país de la Unión Europea que prefieras.
- Eliges al presidente del Gobierno de cualquiera de los países integrantes.
- Puedes pedir protección a los tribunales europeos.

4 Completa la tabla indicando qué países forman parte de la Unión Europea y el año de su incorporación.

País	Miembro de la Unión Europea	Año de incorporación
Irlanda
Federación Rusa
Francia
España
Alemania
Polonia
Suíza

5 Observa la imagen y responde a las preguntas.



- a. ¿Cuál es el nombre de esta moneda?
- b. ¿En qué año entró en circulación?
- c. ¿Todos los países europeos la usan?
- d. ¿Todos los países de la Unión Europea la emplean?
- e. ¿Qué Estados miembros de la UE la utilizan?

.....

Nombre: Fecha: Curso:

1 Completa el siguiente mapa con los nombres de los países miembros de la Unión Europea.

LOS PAÍSES DE LA UNIÓN EUROPEA

Labels on the map:

- S.....
- R.....
- U.....
- F.....
- E.....
- L.....
- L.....
- A.....
- P.....
- F.....
- R.....
- B.....
- P.....
- E.....
- I.....
- G.....
- M.....
- CH.....

Numbered circles on the map: 1, 2, 3, 4, 5, 6, 7, 8, 9, 10

Legend:

- 1. B.....
- 2. P.....
- 3. D.....
- 4. L.....
- 5. R.....
- 6. A.....
- 7. E.....
- 8. C.....
- 9. H.....
- 10. E.....

2 Completa las fases de ampliación de la Unión Europea con la fecha en la que se produjo y los países que se unieron en cada una de ellas.

Países fundadores:

1.ª ampliación:

2.ª ampliación:

3.ª ampliación:

4.ª ampliación:

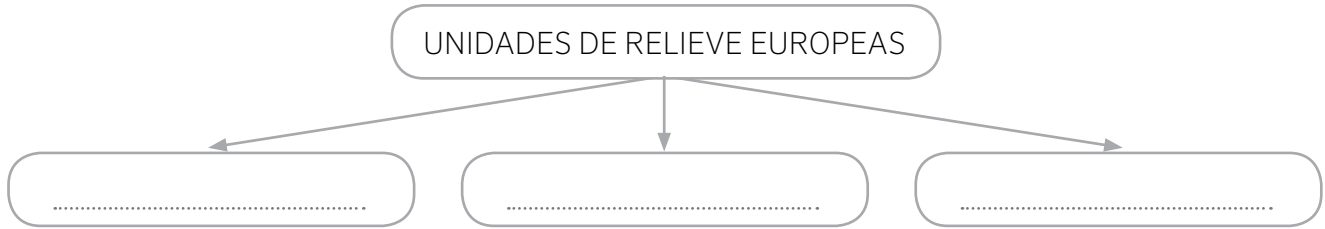
5.ª ampliación:

6.ª ampliación:

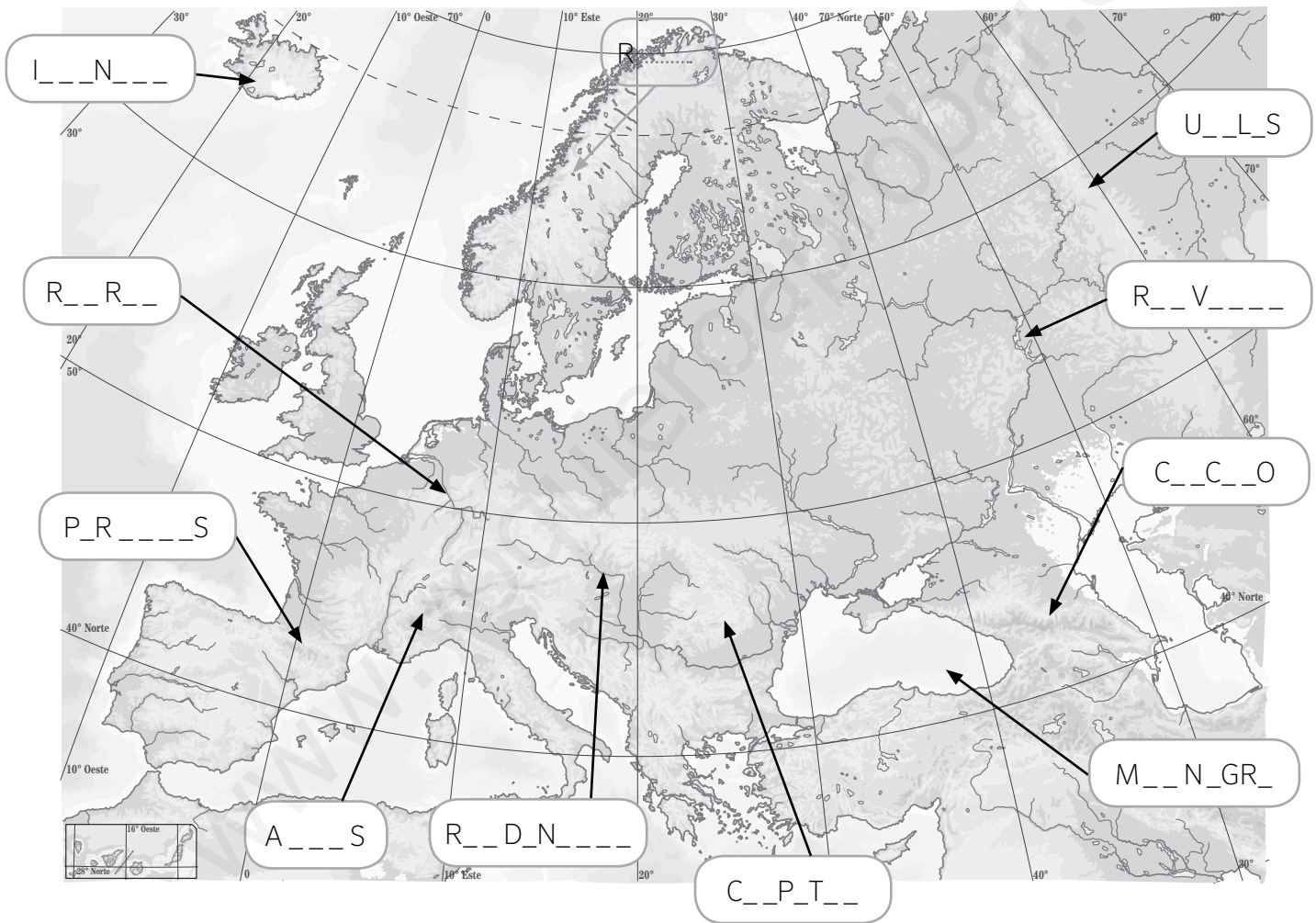
7.ª ampliación:

Nombre: Fecha: Curso:

1 Completa el siguiente esquema.



2 Localiza y completa el nombre de los accidentes geográficos dentro del mapa.



- 1. Alpes
- 2. Urales
- 3. Pirineos
- 4. Cárpatos
- 5. Cáucaso

- 6. Islandia
- 7. Río Rin
- 8. Río Danubio
- 9. Río Volga
- 10. Mar Negro

Nombre: Fecha: Curso:

Europa es un continente pequeño, pero con una gran diversidad climática y paisajística, ya que existen desde climas y paisajes subtropicales hasta regiones con climas y paisajes polares.

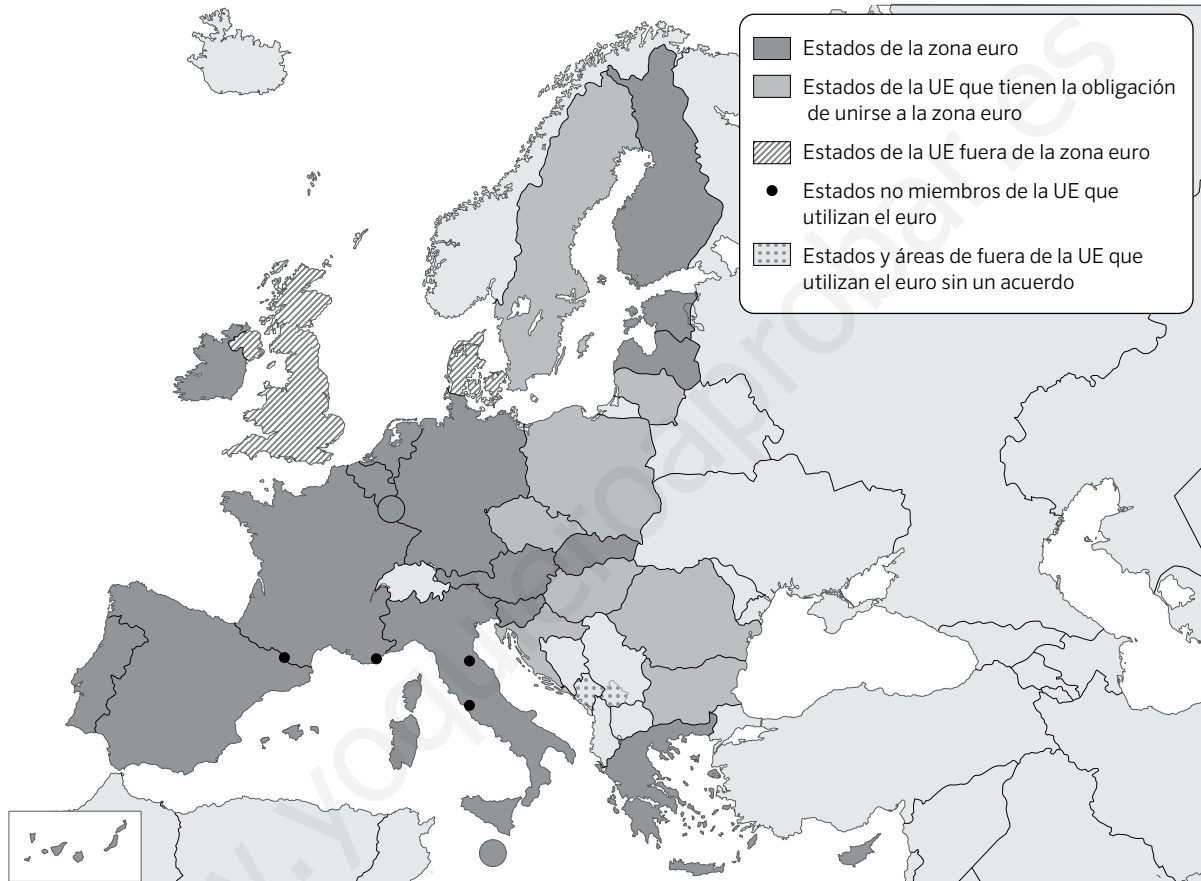


1 Compara el mapa de climas y paisajes con un mapa político de Europa y completa la siguiente tabla:

País	Paisajes y climas predominantes
Federación Rusa
Grecia
Islandia
Reino Unido
Suiza
Francia
Polonia

En el año 1992 se firmó el Tratado de Maastricht, por el que se creó la Unión Europea. Este tratado, además, dio lugar a la aparición de la Unión Monetaria Europea, que significó la puesta en marcha de una moneda única, el euro. Pero no todos los países de la UE utilizan el euro como moneda.

- 1 Observa el mapa y responde a las preguntas que se hacen a continuación sobre la Unión Europea.



- a. ¿Qué miembros de la UE desde 1973 no utilizan el euro como moneda propia, no están en la zona?

.....

- b. ¿En qué año se incorporó a la UE la mayoría de países que aún no usan el euro? ¿Hay algunos países incorporados ese año a la UE que sí tienen el euro como moneda? ¿Cuáles?

.....

- c. ¿Qué países no pertenecientes a la Unión Europea utilizan el euro?

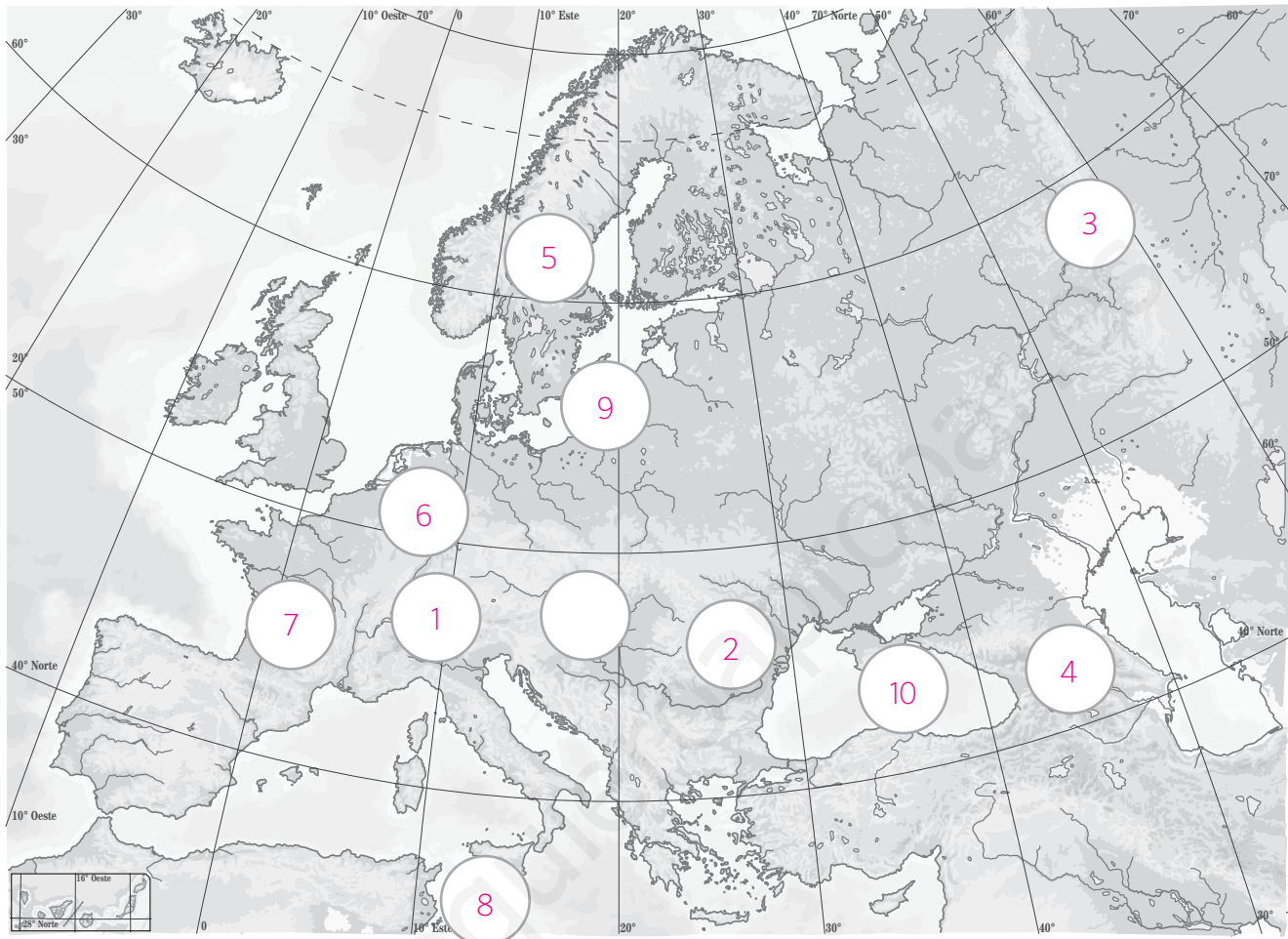
.....

- d. Vas a viajar en coche desde España hasta Grecia. ¿Por qué países pasarás que no emplean el euro?

.....

Nombre: Fecha: Curso:

1 Sitúa en el mapa físico de Europa los números de los siguientes accidentes geográficos.



1. Alpes

2. Cárpatos

3. Urales

4. Cáucaso

5. Montes Escandinavos

6. Río Rin

7. Río Loira

8. Sicilia

9. Mar Báltico

10. Mar Negro

2 Completa las siguientes frases:

- A. El Consejo de la UE tiene su sede en Bruselas, Bélgica y lo forman los ministros de los países de la Unión Europea.
- B. La Comisión Europea tiene su sede en Bruselas, Bélgica y está formada por comisarios elegidos por cada uno de los países miembros.
- C. El Parlamento Europeo tiene su sede en Estrasburgo, Francia y está formado por diputados elegidos por los ciudadanos.

Nombre: Fecha: Curso:

3 Lee las siguientes frases y marca con un tic todas aquellas cosas que puedes hacer como ciudadano de la Unión Europea.

- Puedes viajar a cualquier país que forme parte de la Unión.
- Puedes utilizar el euro en cualquier país miembro.
- Puedes estudiar o trabajar en el país de la Unión Europea que prefieras.
- Eliges al presidente del Gobierno de cualquiera de los países integrantes.
- Puedes pedir protección a los tribunales europeos.

4 Completa la tabla indicando qué países forman parte de la Unión Europea y el año de su incorporación.

País	Miembro de la Unión Europea	Año de incorporación
Irlanda	Si	1973
Federación Rusa	No	
Francia	Si	1957
España	Si	1986
Alemania	Si	1957
Polonia	Si	2004
Suiza	No	

5 Observa la imagen y responde a las preguntas.

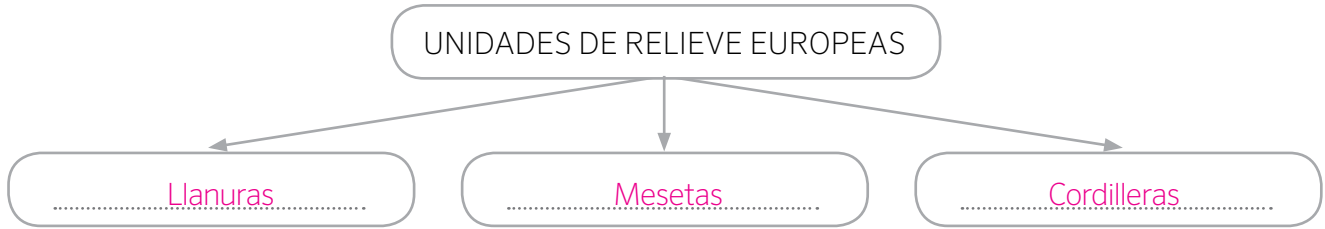


- a. ¿Cuál es el nombre de esta moneda? Euro
- b. ¿En qué año entró en circulación? 2002
- c. ¿Todos los países europeos la usan? No
- d. ¿Todos los países de la Unión Europea la emplean? No
- e. ¿Qué Estados miembros de la UE la utilizan?

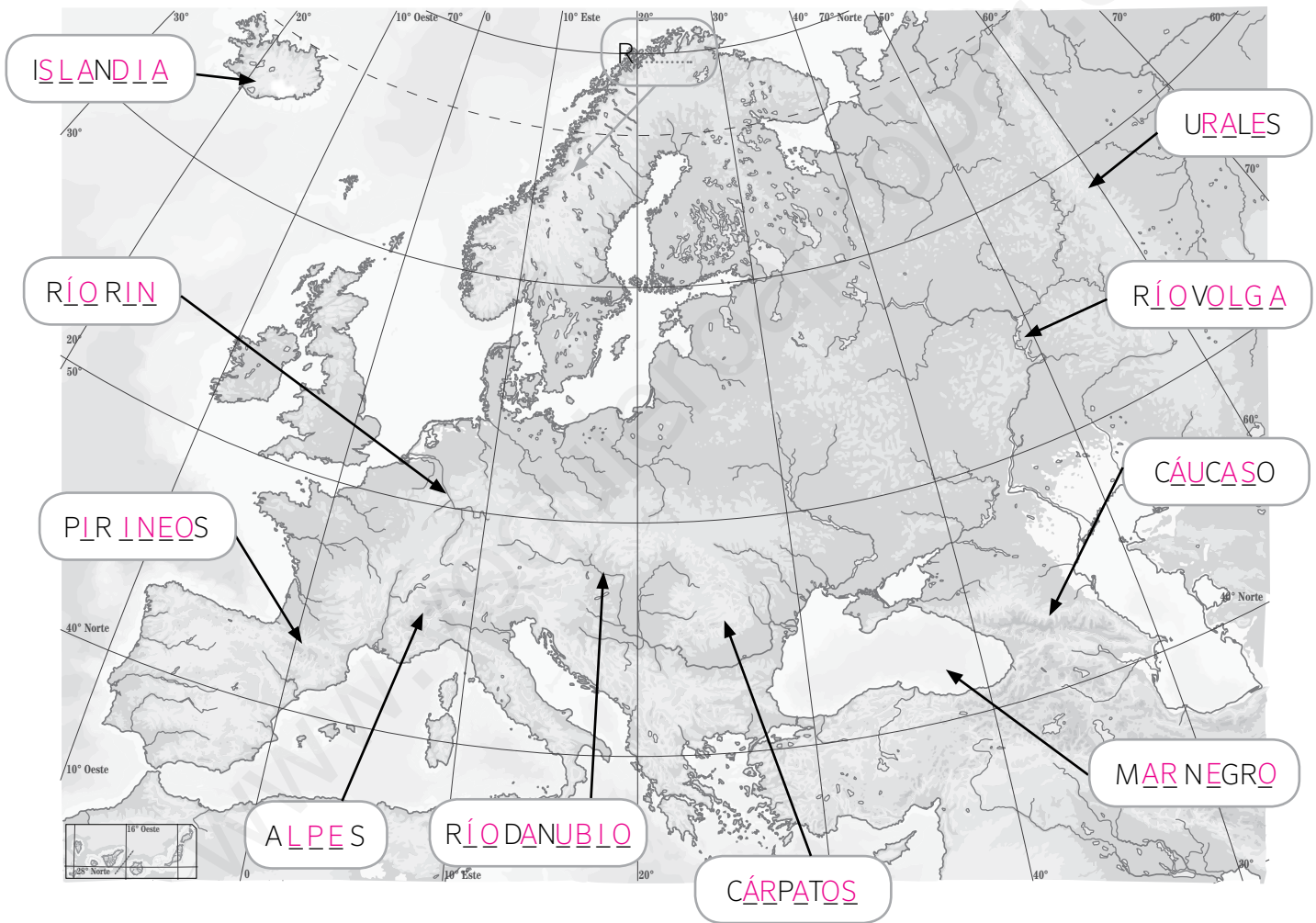
Alemania, Austria, Bélgica, Chipre, Eslovaquia, Eslovenia, España, Estonia, Finlandia, Francia, Grecia, Irlanda, Italia, Luxemburgo, Malta, Países Bajos y Portugal.

Nombre: Fecha: Curso:

1 Completa el siguiente esquema.



2 Localiza y completa el nombre de los accidentes geográficos dentro del mapa.



- 1. Alpes
- 2. Urales
- 3. Pirineos
- 4. Cárpatos
- 5. Cáucaso

- 6. Islandia
- 7. Río Rin
- 8. Río Danubio
- 9. Río Volga
- 10. Mar Negro

1 Completa el siguiente mapa con los nombres de los países miembros de la Unión Europea.

LOS PAÍSES DE LA UNIÓN EUROPEA

1. Bélgica.....
 2. Países Bajos.....
 3. Dinamarca.....
 4. Liechtenstein.....
 5. República checa.....
 6. Austria.....
 7. Eslovenia.....
 8. Croacia.....
 9. Hungría.....
 10. Eslovaquia.....

Reino Unido.....
 Suecia.....
 Finlandia.....
 Estonia.....
 Letonia.....
 Lituania.....
 Polonia.....
 Alemania.....
 Rumanía.....
 Bulgaria.....
 Grecia.....
 Irlanda.....
 Portugal.....
 España.....
 Italia.....
 Malta.....
 Chipre.....

2 Completa las fases de ampliación de la Unión Europea con la fecha en la que se produjo y los países que se unieron en cada una de ellas.

Países fundadores: 1957, Alemania, Bélgica, Francia, Italia, Luxemburgo y Países Bajos.....

1.ª ampliación: 1973, Reino Unido, Dinamarca e Irlanda.....

2.ª ampliación: 1981, Grecia.....

3.ª ampliación: 1986, España y Portugal.....

4.ª ampliación: 1995, Austria, Finlandia y Suecia.....

5.ª ampliación: 2004, Estonia, Letonia, Lituania, Polonia, República Checa, Eslovaquia, Hungría, Eslovenia, Malta y Chipre.....

6.ª ampliación: 2007, Bulgaria y Rumanía.....

7.ª ampliación: 2013, Croacia.....

Nombre: Fecha: Curso:

Europa es un continente pequeño, pero con una gran diversidad climática y paisajística, ya que existen desde climas y paisajes subtropicales hasta regiones con climas y paisajes polares.



1 Compara el mapa de climas y paisajes con un mapa político de Europa y completa la siguiente tabla:

País	Paisajes y climas predominantes
Federación Rusa	Polar, continental y estepario
Grecia	Mediterráneo
Islandia	Polar y oceánico
Reino Unido	Oceánico
Suiza	Continental y de alta montaña
Francia	Oceánico
Polonia	Continental

En el año 1992 se firmó el Tratado de Maastricht, por el que se creó la Unión Europea. Este tratado, además, dio lugar a la aparición de la Unión Monetaria Europea, que significó la puesta en marcha de una moneda única, el euro. Pero no todos los países de la UE utilizan el euro como moneda.

- 1 Observa el mapa y responde a las preguntas que se hacen a continuación sobre la Unión Europea.



- a. ¿Qué miembros de la UE desde 1973 no utilizan el euro como moneda propia, no están en la zona?

Dinamarca, Gran Bretaña e Irlanda.

- b. ¿En qué año se incorporó a la UE la mayoría de países que aún no usan el euro? ¿Hay algunos países incorporados ese año a la UE que sí tienen el euro como moneda? ¿Cuáles?

En 2004. Estonia, Letonia, Eslovaquia, Eslovenia, Malta y Chipre sí tienen el euro como moneda.

- c. ¿Qué países no pertenecientes a la Unión Europea utilizan el euro?

Andorra, Mónaco, San Marino y Ciudad del Vaticano.

- d. Vas a viajar en coche desde España hasta Grecia. ¿Por qué países pasarás que no emplean el euro?

Por Croacia, Montenegro, Bosnia y Albania.