

Nombre:.....**Curso:**.....

1.- ¿Qué es la Tecnología?

2.- ¿Qué es Acotar?

3.- El Proceso Tecnológico consta de las siguientes fases:

1.- Identificar el problema

2.-

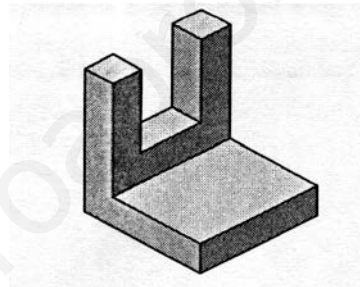
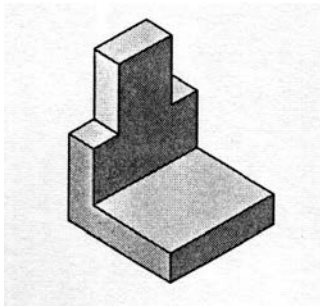
3.-

4.-



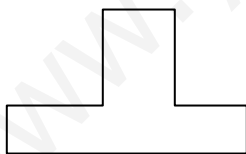
Completa los tres que faltan

4.- Traza un ángulo de 75° y otro de 105° , utilizando únicamente la escuadra y el cartabón. Explica qué ángulos de la escuadra y el cartabón has utilizado

5.- Dibuja el alzado, perfil y planta de las siguientes figuras: (2 puntos)



6.- Realiza la acotación de las siguientes vistas (toma como medidas las del dibujo) (2 puntos)



7.- Sobre el rectángulo siguiente, traza líneas paralelas separadas 5 mm. utilizando la escuadra y el cartabón (los dos a la vez)



8.-¿Qué es un Boceto? ¿Qué es un Croquis?