

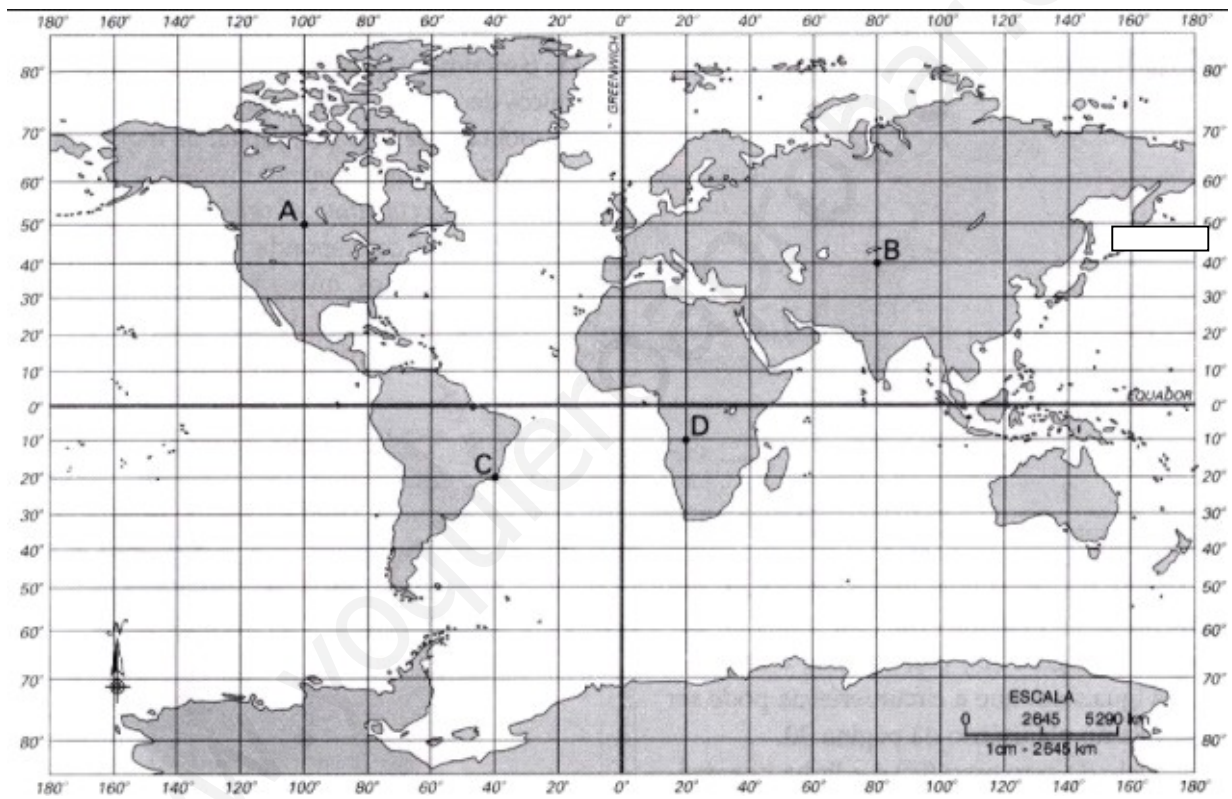
# EJERCICIOS DE REPASO 1º DE ESO

## GEOGRAFÍA

1.- Define los siguientes términos (extensión máxima 2 líneas por término).

- Planeta
- Acuífero
- Presión Atmosférica
- Meseta

2- Anota las coordenadas geográficas que corresponden a los puntos A, B, C y D señalados en el mapa.



Punto A

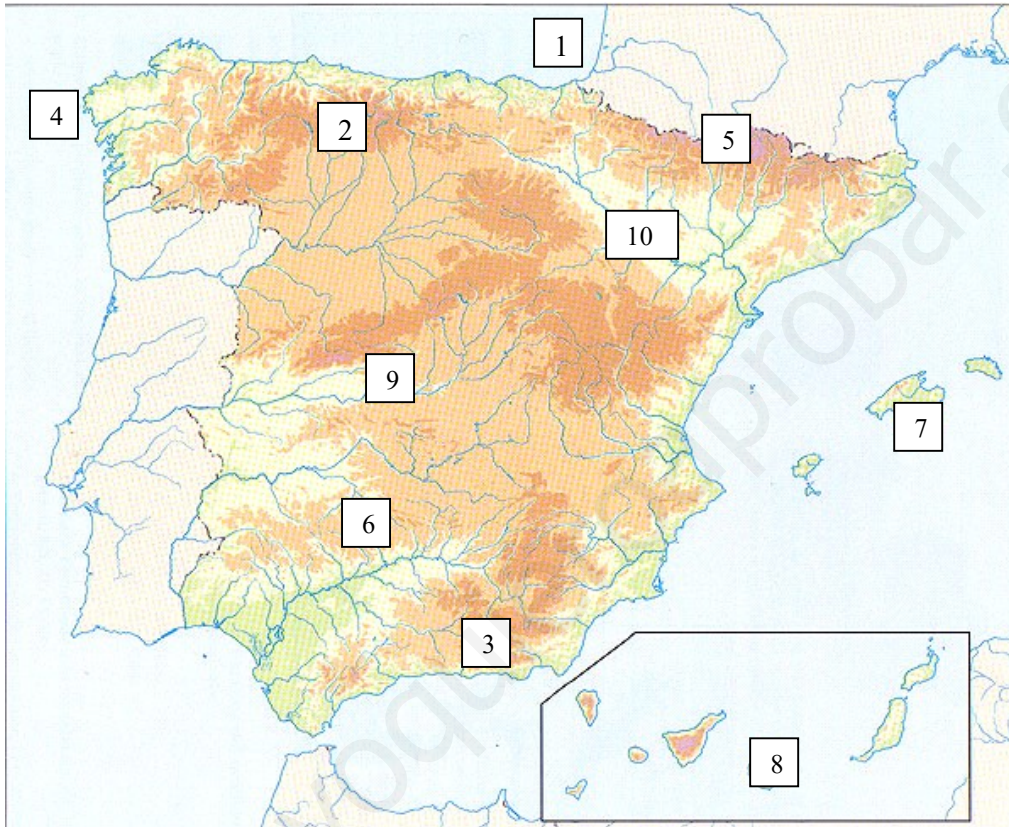
Punto B

Punto C

Punto D

3.- Escribe el número que corresponde junto con el nombre de los siguientes lugares

Río Tago	Río Ebro	Sierra Morena	Golfo de Vizcaya	Gran Canarias
Pirineos	Cabo de Finisterre	Cordillera Cantábrica	Mulhacén	Mallorca



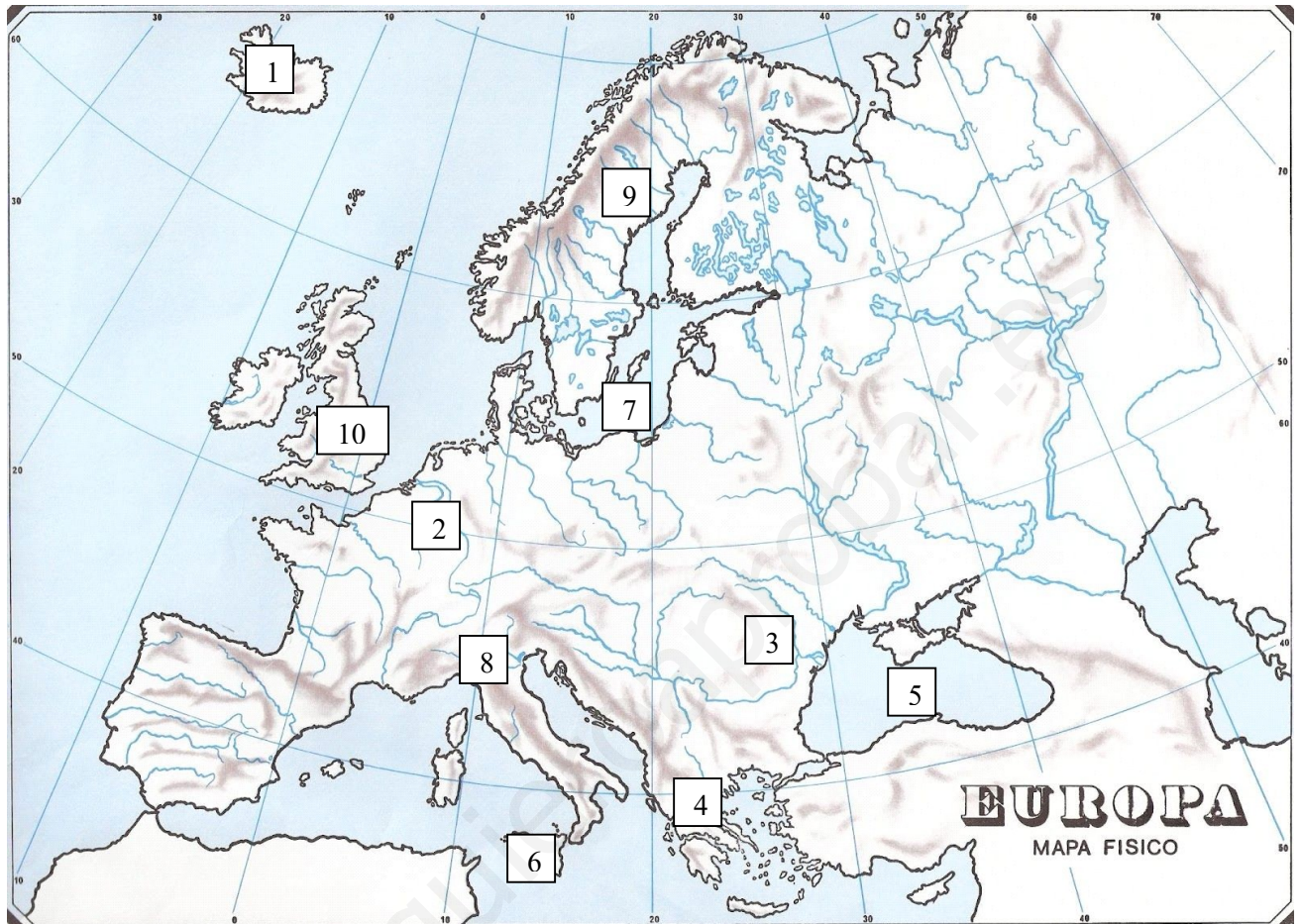
4.- Responde las siguientes cuestiones.

- Explica *la teoría de la deriva de los continentes*
- ¿En cuántas capas se puede dividir la Atmósfera Terrestre?

5.- Completa el siguiente cuadro referente a los climas. Indica cuáles de estos climas se encuentran en España

<b>Clima</b>	<b>Temperaturas</b>	<b>Precipitaciones</b>	<b>Vegetación característica</b>
<b>Ecuatorial</b>	<b>CÁLIDAS</b>		
<b>Desértico cálido</b>		<b>ESCASAS</b>	
<b>Oceánico</b>			<b>BOSQUE CADUCIFOLIO (haya, roble,..)</b>
<b>Mediterráneo</b>			

6.- Fíjate en el mapa. Escribe el número que corresponde junto con el nombre de los siguientes lugares.



Alpes	Península Balcánica	Península Escandinava	Sicilia	Río Rin
Gran Bretaña	Cárpatos	Islandia	Mar Báltico	Mar Negro

## HISTORIA

1.- Define los siguientes términos (extensión máxima 2 líneas por término):

- Escritura Cuneiforme
- Arte rupestre
- Polis
- Tartessos

2.- Escribe todo lo que sepas sobre los siguientes personajes (extensión máxima 3 líneas por personaje)

- Octavio Augusto
- Hammurabi
- Pericles
- Nefertiti

3.- Fíjate en la siguiente imagen y describe las acciones que realizan los humanos. ¿A qué etapa de la Prehistoria corresponde?



www.yoq

5. Responde a las siguientes preguntas:

a) ¿Qué es el proceso de hominización?

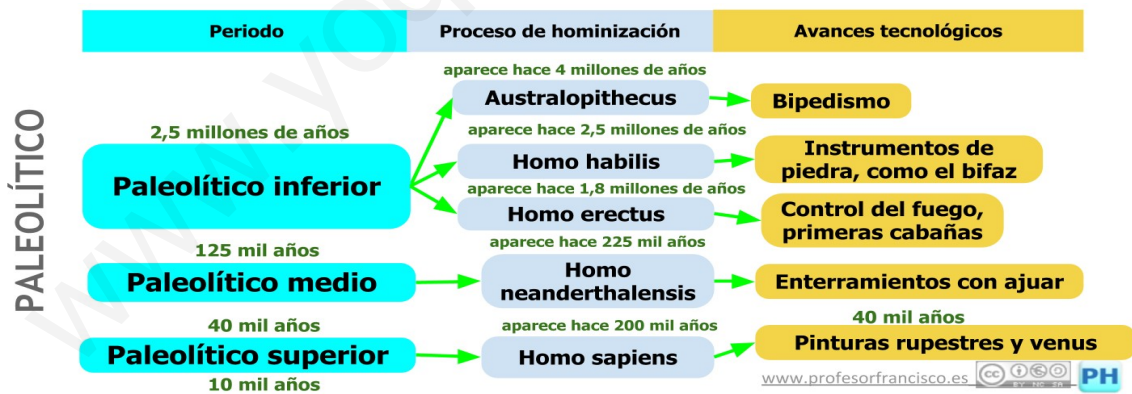
b) Resume brevemente los cambios que se produjeron en ese proceso

**6. Completa el siguiente cuadro a partir de las imágenes y el texto, p. 157 que se encuentra al lado. Colocar el primero el Australopithecus afarensis:**

HOMÍNIDOS	ANTIGÜEDAD	ALTURA	CAPACIDAD PARA FABRICAR UTENSILIOS	OTROS RASGOS

## 7. COMPLETA EL CUADRO

	PALEOLÍTICO	NEOLÍTICO
¿Nómadas o sedentarios?		
¿Dónde habitaban?		
¿Cómo es su organización social en hordas, tribus, aldeas?		
Materiales de las herramientas		
¿Cómo obtenían los alimentos?		
Actividades que realizaban		
Objetos y técnicas que inventan		
¿De qué materiales están hechos sus vestidos?		



**8.- Fíjate en la siguiente imagen y responde a las cuestiones:**

¿Cuál es el nombre de esta escultura? ¿Por qué se llama así?

¿A qué cultura pertenece? ¿En qué zonas de la Península Ibérica se extendió?



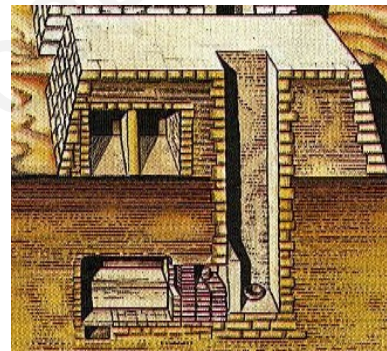
**9.- Identifica los siguientes manifestaciones artísticas**



-Nombre del monumento:

-Función:

-Etapa histórica



-Nombre del monumento:

-Función:

-Etapa histórica

**10.- Responde las siguientes cuestiones:**

a) ¿Cuáles son los principales cambios y descubrimientos que se produjeron durante el Neolítico?

b) Explica la organización política durante la República en la Antigua Roma. Explica sus características.

d) ¿Qué territorios comprendía el imperio que conquistó Alejandro Magno? ¿Qué fueron los reinos helenísticos?