

QUÍMICA

El examen consta de 8 preguntas de 2 puntos, de las que podrá responder un **MÁXIMO DE 5**, combinadas como quiera. Cada pregunta **vale 2 puntos (1 punto por apartado)**. Se responde más preguntas de las permitidas, **solo se corregirán las 5 primeras respondidas**.

PREGUNTA 1.

1.1. Razonando la respuesta, ordene los elementos C, F y Li según los valores crecientes de su afinidad electrónica.

1.2. Justifique si la siguiente afirmación es verdadera o falsa: En el equilibrio: $\text{HSO}_4^-(\text{ac}) + \text{H}_2\text{O}(\text{l}) \rightleftharpoons \text{HSO}_4^{2-}(\text{ac}) + \text{H}_3\text{O}^+(\text{ac})$ la especie HSO_4^- actúa como una base y la molécula de agua como un ácido de Brönsted-Lowry.

PREGUNTA 2.

2.1. Razone la geometría que presentan las moléculas de H_2O y CO_2 según la teoría de repulsión de pares electrónicos de la capa de valencia (TRPECV) e indique el valor previsible del ángulo de enlace.

2.2. ¿Por qué la molécula de agua tiene el punto de ebullición más alto y es la más polar de las dos?

PREGUNTA 3.

3.1. La reacción: $2 \text{CO}(\text{g}) + \text{O}_2(\text{g}) \rightarrow 2 \text{CO}_2(\text{g})$ es de primer orden respecto al oxígeno y de segundo orden respecto al monóxido de carbono. Escriba la expresión de la ecuación de velocidad de la reacción y las unidades de la constante de velocidad.

3.2. Nombre los siguientes compuestos, razone cuales presentan algún tipo de isomería y nómbrala:
 $\text{CH}_2=\text{CH}-\text{CH}_3$ $\text{CH}_3-\text{CH}_2-\text{CHOH}-\text{CH}_3$ $\text{CH}_3-\text{CH}=\text{CH}-\text{COOH}$ $\text{CH}_3-\text{CHCl}-\text{CH}_3$

PREGUNTA 4.

Se introduce fosgeno (COCl_2) en un recipiente vacío de 2 L de volumen a una presión de 0,82 atm y una temperatura de 227 °C, produciéndose su descomposición según el equilibrio: $\text{COCl}_2(\text{g}) \rightleftharpoons \text{CO}(\text{g}) + \text{Cl}_2(\text{g})$. Sabiendo que en estas condiciones el valor de K_p es 0,189; calcule:

4.1. La concentración de todas las especies presentes en el equilibrio.

4.2. La presión parcial de cada una de las especies presentes en el equilibrio.

PREGUNTA 5.

Dada la reacción redox: $\text{SO}_2(\text{g}) + \text{KMnO}_4(\text{ac}) + \text{H}_2\text{O}(\text{l}) \rightarrow \text{K}_2\text{SO}_4(\text{ac}) + \text{MnSO}_4(\text{ac}) + \text{H}_2\text{SO}_4(\text{ac})$

5.1. Ajuste las ecuaciones iónica y molecular por el método del ión-electrón.

5.2. Calcule el volumen de SO_2 , medido a 1,2 atm y 27 °C que reacciona completamente con 500 mL de una disolución 2,8 M de KMnO_4 .

PREGUNTA 6.

A 25 °C a solubilidad en agua del bromuro de calcio es $2,0 \cdot 10^{-4}$ M.

6.1. Calcule K_{ps} para la sal a la dicha temperatura.

6.2. Calcule la solubilidad del CaBr_2 en una disolución acuosa 0,10 M de NaBr considerando que esta sal está totalmente disociada.

PREGUNTA 7.

2,0 mL de un ácido nítrico del 58 % de riqueza en masa y densidad $1,36 \text{ g} \cdot \text{mL}^{-1}$ se diluyen en agua hasta completar 250 mL de disolución.

7.1. Calcule el volumen de disolución de hidróxido de sodio 0,10 M necesario para neutralizar 10 mL de la disolución preparada de ácido nítrico, escribiendo la reacción que tiene lugar.

7.2. Describa el procedimiento experimental y nombre el material necesario para realizar la valoración

PREGUNTA 8.

8.1. Explique como construiría en el laboratorio una pila empleando un electrodo de zinc y un electrodo de níquel, indicando el material y los reactivos necesarios.

8.2. Indique las semirreacciones que tienen lugar en cada electrodo, la reacción iónica global y calcule la fuerza electromotriz de la pila.

Datos: $R = 8,31 \text{ J} \cdot \text{K}^{-1} \cdot \text{mol}^{-1} = 0,082 \text{ atm} \cdot \text{L} \cdot \text{K}^{-1} \cdot \text{mol}^{-1}$; $1 \text{ atm} = 101,3 \text{ kPa}$; $E^\circ(\text{Ni}^{2+}/\text{Ni}) = -0,25 \text{ V}$; $E^\circ(\text{Zn}^{2+}/\text{Zn}) = -0,76 \text{ V}$.

Soluciones

1.1. Razonando la respuesta, ordena los elementos C, F y Li según los valores crecientes de su afinidad electrónica.

(A.B.A.U. Sep. 20)

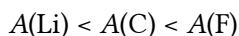
Solución:

La afinidad electrónica es la energía que se desprende cuando un mol de átomos en fase gaseosa y en estado fundamental captan un mol de electrones para dar iones mononegativos gaseosos. Es tanto mayor cuanto más próxima a la estructura electrónica de gas noble sea la estructura electrónica del átomo. Los tres átomos están en el mismo período.

El flúor tiene la mayor tendencia a coger un electrón para conseguir la estructura de gas noble. Es el que tiene la mayor afinidad electrónica.

El litio está tan lejos de los gases nobles que no tiene sentido pensar que pueda captar los electrones necesarios para alcanzar la estructura de un gas noble.

El carbono se encuentra una situación intermedia, por lo que el orden será:



1.2. Justifica si la siguiente afirmación es verdadera o falsa:

En el equilibrio: $\text{HSO}_4^-(\text{aq}) + \text{H}_2\text{O}(\text{l}) \rightleftharpoons \text{HSO}_4^{2-}(\text{aq}) + \text{H}_3\text{O}^+(\text{aq})$ la especie HSO_4^- actúa como una base y la molécula de agua como un ácido de Brönsted-Lowry.

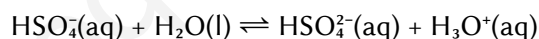
(A.B.A.U. Sep. 20)

Solución:

Falsa.

En la definición ácido-base de Brönsted-Lowry, un ácido es la sustancia que cede un ion hidrógeno a una base siendo los productos de la reacción sus especies conjugadas. Un proceso ácido-base es solo un intercambio de iones hidrógeno.

En el equilibrio:



El ion HSO_4^- cede un ion hidrógeno a la molécula de agua. Actúa como ácido.

La molécula de agua acepta el ion hidrógeno actuando como base.

P2. a) Razona la geometría que presentan las moléculas de H_2O y CO_2 según la teoría de repulsión de pares electrónicos de la capa de valencia (TRPECV) e indica el valor previsible del ángulo de enlace.

b) ¿Por qué la molécula de agua tiene el punto de ebullición más alto y es la más polar de las dos?

(A.B.A.U. Sep. 20)

Solución:

a) La teoría de repulsión de pares de electrones de la capa de valencia es la que da una justificación más sencilla de los ángulos de enlace. Supone que los electrones de valencia, junto con los de los átomos que forman enlace con él, rodean a un átomo formando parejas, en las que la repulsión entre los electrones de cada pareja es pequeña, debido a que tienen spin contrario, y solo hay que tener en cuenta a repulsión electrostática clásica entre los pares enlazantes (excepto los π) y entre los pares enlazantes y los pares no enlazantes, de forma que se dispongan lo más lejos posible. Una repulsión de dos pares da una disposición lineal con ángulos de 180° , tres pares dan una distribución triangular con ángulos de 120° y cuatro pares se dirigen hacia los vértices de un tetraedro con ángulos de $109,5^\circ$.

Molécula

CO_2

H_2O

Átomo central	C	O
Configuración electrónica fundamental	$2s^2 2p_x^1 2p_y^1$	$2s^2 2p_x^2 2p_y^1 2p_z^1$
Configuración electrónica excitada	$2s^1 2p_x^1 2p_y^1 2p_z^1$	
Diagrama de Lewis	$:\ddot{O}::C::\ddot{O}:$	$H:\ddot{O}::H$
Pares σ	2	2
Pares π	2	0
Pares no enlazantes	0	2
Pares que se repelen	2	4
Disposición de los pares	lineal	tetraédrica
Ángulo de enlace	180°	105°
Forma de la molécula	lineal $O=C=O$	angular plana $\begin{array}{c} H \\ \\ O-H \end{array}$

La molécula de CO_2 es lineal. La T.R.P.E.C.V. lo explica porque el átomo central de carbono solo está unido a dos átomos de oxígeno y no tiene pares electrónicos no enlazantes, como se ve en el diagrama electrón-punto de Lewis: $:\ddot{O}::C::\ddot{O}:$

La repulsión entre los electrones de los enlaces explica una disposición lineal con ángulo de 180° .

La molécula de H_2O es angular. La T.R.P.E.C.V. lo explica porque el átomo central de oxígeno está unido a dos átomos de hidrógeno y tiene dos pares electrónicos no enlazantes, como se ve en el diagrama electrón-punto de Lewis: $H:\ddot{O}::H$

La repulsión entre los electrones de los enlaces y los de los pares no enlazantes explica una disposición casi tetraédrica entre los pares de electrones con un ángulo H-O-H algo menor de $109,5^\circ$. La molécula de H_2O es angular con un ángulo de 105° .

b) La electronegatividad mide la tendencia que tiene un átomo a atraer hacia sí el par de electrones del enlace y la resistencia a dejarlos marchar. El elemento más electronegativo es el flúor y después el oxígeno. Como el oxígeno es mucho más electronegativo que el carbono y que el hidrógeno, tanto el enlace $O^{\delta-} \rightarrow C^{\delta+}$ como el $O^{\delta-} \rightarrow H^{\delta+}$ serán polares. La diferencia está en la forma de las moléculas.

El momento dipolar se puede representar por un vector. Como la molécula de CO_2 es lineal, la resultante de los vectores dipolares $O^{\delta-} \rightarrow C^{\delta+} \leftarrow O^{\delta-}$ de igual valor y sentidos opuestos es nula. La molécula de CO_2 es apolar.

En el agua, al tener una molécula angular, la resultante de los vectores dipolares $H^{\delta+}-O^{\delta-}$ no es nula. La molécula de H_2O es polar.

El agua tiene un punto de ebullición más alto porque sus moléculas están unidas por puentes de hidrógeno que son fuerzas de mayor intensidad que las de Van der Waals, ya que el agua contiene átomos de hidrógenos unidos a un elemento electronegativo del segundo período (el oxígeno) y la molécula de agua es polar.

3.1. La reacción: $2 CO(g) + O_2(g) \rightarrow 2 CO_2(g)$ es de primer orden respecto al oxígeno y de segundo orden respecto al monóxido de carbono. Escribe la expresión de la ecuación de velocidad de la reacción y las unidades de la constante de velocidad.

(A.B.A.U. Sep. 20)

Solución:

La ecuación de velocidad es:

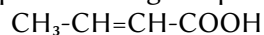
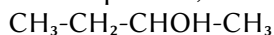
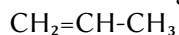
$$v = k \cdot [CO]^2 \cdot [O_2]$$

Como las unidades de la velocidad de reacción son $[v]$ mol/dm³/s, las unidades de la constante de velocidad son

$$k = \frac{v}{[\text{CO}]^2 \cdot [\text{O}_2]} \frac{\text{mol} \cdot \text{dm}^{-3} \cdot \text{s}^{-1}}{(\text{mol} \cdot \text{dm}^{-3})^2 \cdot (\text{mol} \cdot \text{dm}^{-3})}$$

$$[k] = \text{dm}^6 \cdot \text{mol}^{-2} \cdot \text{s}^{-1}$$

3.2. Nombra los siguientes compuestos, razona cuáles presentan algún tipo de isomería y nómbrala:

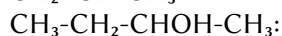


(A.B.A.U. Sep. 20)

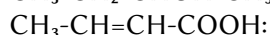
Solución:



prop-1-eno



butan-2-ol



ácido but-2-enoico



2-cloropropano

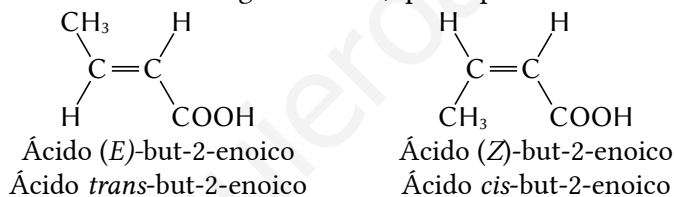
El butan-2-ol, $\text{CH}_3-\overset{\text{OH}}{\underset{\text{H}}{\text{C}}}-\text{CH}_2-\text{CH}_3$, tiene isomería óptica porque el carbono 2 es asimétrico. Está unido a

cuatro grupos distintos: hidrógeno (-H), etilo (-CH₂-CH₃), hidroxilo (-OH) y metilo (-CH₃).

Tiene dos isómeros ópticos que son imágenes especulares, llamados enantiómeros.



Del ácido but-2-enoico existen dos isómeros geométricos, que se pueden llamar *cis* y *trans* o *Z* y *E*.



P.4. Se introduce fosgeno (COCl₂) en un recipiente vacío de 2 dm³ de volumen a una presión de 0,82 atm y una temperatura de 227 °C, produciéndose su descomposición segundo el equilibrio:

COCl₂(g) ⇌ CO(g) + Cl₂(g). Sabiendo que en estas condiciones el valor de *K_p* es 0,189; calcula:

a) La concentración de todas las especies presentes en el equilibrio.

b) La presión parcial de cada una de las especies presentes en el equilibrio.

(A.B.A.U. Sep. 20)

Rta.: a) [COCl₂]_e = 0,0124 mol/dm³; [CO]_e = [Cl₂]_e = 0,00756 mol/dm³;

b) *p_e*(COCl₂) = 0,510 atm; *p_e*(CO) = *p_e*(Cl₂) = 0,310 atm.

Datos

Gas: Volumen

Temperatura

Presión inicial de fosgeno

Constante de equilibrio (en función de las presiones en atm)

Constante de los gases ideales

Incógnitas

Concentración de cada una de las especies en el equilibrio

Presión parcial de cada una de las especies en el equilibrio

Cifras significativas: 3

V = 2,00 dm³

T = 227 °C = 500 K

p₀(COCl₂) = 0,820 atm COCl₂

K_p = 0,189

R = 0,082 atm·dm³·K⁻¹·mol⁻¹

[COCl₂]_e, [CO]_e, [Cl₂]_e

p_e(COCl₂), *p_e*(CO), *p_e*(Cl₂)

Ecuaciones

Ley de Dalton de las presiones parciales

Concentración de la sustancia X

Ecuación de estado de los gases ideales

Constante de presiones del equilibrio: $a A + b B \rightleftharpoons c C + d D$

$$p_t = \sum p_i$$

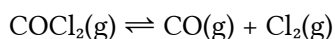
$$[X] = n(X) / V$$

$$p \cdot V = n \cdot R \cdot T$$

$$K_p = \frac{p_e^c(C) \cdot p_e^d(D)}{p_e^a(A) \cdot p_e^b(B)}$$

Solución:

a) La ecuación química es:



Si se llama x a la presión parcial del fosgeno que se disocia

		COCl ₂	⇌	CO	Cl ₂	
Presión inicial	p_0	0,820		0	0	atm
Presión que reacciona o se forma	p_r	x	→	x	x	atm
Presión en el equilibrio	p_e	$0,820 - x$		x	x	atm

La ecuación de la constante de equilibrio en función de las presiones es:

$$K_p = \frac{p_e(\text{CO}) \cdot p_e(\text{Cl}_2)}{p_e(\text{COCl}_2)}$$

$$0,189 = \frac{x \cdot x}{0,820 - x}$$

$$x^2 + 0,189x - 0,155 = 0$$

$$x = 0,310 \text{ atm}$$

Se calculan primero las presiones parciales en el equilibrio:

$$p_e(\text{CO}) = p_e(\text{Cl}_2) = x = 0,310 \text{ atm}$$

$$p_e(\text{COCl}_2) = 0,820 - x = 0,510 \text{ atm}$$

b) Suponiendo comportamiento ideal para los gases, la presión parcial de cada uno de ellos viene dada por:

$$p_i = \frac{n_i \cdot R \cdot T}{V}$$

Las concentraciones serán:

$$[\text{CO}]_e = [\text{Cl}_2]_e = \frac{p(\text{Cl}_2)}{R \cdot T} = \frac{0,310 \text{ atm}}{0,082 \text{ atm} \cdot \text{dm}^3 \cdot \text{mol}^{-1} \cdot \text{K}^{-1} \cdot 500 \text{ K}} = 0,00756 \text{ mol/dm}^3$$

$$[\text{COCl}_2]_e = \frac{p(\text{COCl}_2)}{R \cdot T} = \frac{0,510 \text{ atm}}{0,082 \text{ atm} \cdot \text{dm}^3 \cdot \text{mol}^{-1} \cdot \text{K}^{-1} \cdot 500 \text{ K}} = 0,0124 \text{ mol/dm}^3$$

P.5. Dada la reacción redox: $\text{SO}_2(\text{g}) + \text{KMnO}_4(\text{aq}) + \text{H}_2\text{O}(\text{l}) \rightarrow \text{K}_2\text{SO}_4(\text{aq}) + \text{MnSO}_4(\text{aq}) + \text{H}_2\text{SO}_4(\text{aq})$

a) Ajusta las ecuaciones iónica y molecular por el método del ion-electrón.

b) Calcula el volumen de SO_2 , medido a 1,2 atm y 27 °C que reacciona completamente con 500 cm³ de una disolución de concentración 2,8 mol/dm³ de KMnO_4 .

Datos: $R = 8,31 \text{ J} \cdot \text{K}^{-1} \cdot \text{mol}^{-1} = 0,082 \text{ atm} \cdot \text{L} \cdot \text{K}^{-1} \cdot \text{mol}^{-1}$; 1 atm = 101,3 kPa.

(A.B.A.U. Sep. 20)

Rta.: a) $2 \text{MnO}_4^- + 5 \text{SO}_2 + 2 \text{H}_2\text{O} \rightarrow 2 \text{Mn}^{2+} + 5 \text{SO}_4^{2-} + 4 \text{H}^+$;

$2 \text{KMnO}_4(\text{aq}) + 5 \text{SO}_2(\text{g}) + 2 \text{H}_2\text{O}(\text{l}) \rightarrow 2 \text{MnSO}_4(\text{aq}) + \text{K}_2\text{SO}_4(\text{aq}) + 2 \text{H}_2\text{SO}_4(\text{aq})$; b) $V = 71,8 \text{ dm}^3$.

Datos

Disolución de KMnO_4 : Volumen
 Concentración
 Gas dióxido de azufre: Temperatura
 Presión

Constante de los gases ideales

Incógnitas

Volumen de dióxido de azufre a 27°C y $1,2\text{ atm}$

Ecuaciones

De estado de los gases ideales

Cifras significativas: 3

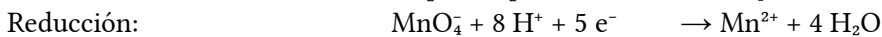
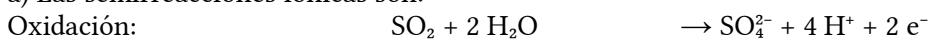
$V_d(\text{KMnO}_4) = 500\text{ cm}^3$
 $[\text{KMnO}_4] = 2,80\text{ mol/dm}^3$
 $T = 27^\circ\text{C} = 300\text{ K}$
 $p = 1,20\text{ atm}$
 $R = 0,0820\text{ atm}\cdot\text{dm}^3\cdot\text{mol}^{-1}\cdot\text{K}^{-1}$

$V(\text{SO}_2)$

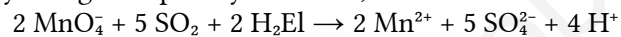
$$p \cdot V = n \cdot R \cdot T$$

Solución:

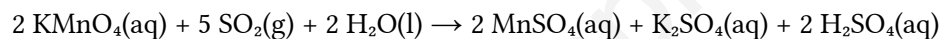
a) Las semirreacciones iónicas son:



Multiplicando la primera por 5 y la segunda por 2 y sumando, se obtiene la reacción iónica ajustada.



Sumando 2K^+ a cada lado de la ecuación y juntando los iones de signos contrarios se obtiene la reacción global:



b) La cantidad de permanganato de potasio que hay en 500 cm^3 de disolución es:

$$n(\text{KMnO}_4) = 500\text{ cm}^3 \cdot \frac{2,80\text{ mol KMnO}_4}{1,00\text{ dm}^3} = 1,40\text{ mol KMnO}_4$$

La cantidad de gas dióxido de azufre que reacciona completamente con él es

$$n(\text{SO}_2) = 1,40\text{ mol KMnO}_4 \cdot \frac{5\text{ mol SO}_2}{2\text{ mol KMnO}_4} = 3,50\text{ mol SO}_2$$

Suponiendo comportamiento ideal, ocuparán un volumen de:

$$V = \frac{n \cdot R \cdot T}{p} = \frac{3,50\text{ mol SO}_2 \cdot 0,0820\text{ atm}\cdot\text{dm}^3\cdot\text{mol}^{-1}\cdot\text{K}^{-1} \cdot 300\text{ K}}{1,2\text{ atm}} = 71,8\text{ dm}^3\text{ SO}_2$$

P.6. A 25°C a solubilidad en agua del bromuro de calcio es $2,0 \cdot 10^{-4}\text{ mol/dm}^3$.

a) Calcula K_{ps} para la sal a la dicha temperatura.

b) Calcula la solubilidad del CaBr_2 en una disolución acuosa de concentración $0,10\text{ mol/dm}^3$ de NaBr considerando que esta sal está totalmente disociada.

(A.B.A.U. Sep. 20)

Rta.: a) $K_s = 3,2 \cdot 10^{-11}$; b) $s_2 = 3,2 \cdot 10^{-9}\text{ mol/dm}^3$.

Datos

Solubilidad del CaBr_2
 Concentración de la disolución de NaBr

Incógnitas

Producto de solubilidad y del CaBr_2
 Solubilidad del CaBr_2 en NaBr $0,1\text{ mol/dm}^3$

Cifras significativas: 3

$s = 2,00 \cdot 10^{-4}\text{ mol/dm}^3$
 $[\text{Na Br}] = 0,100\text{ mol/dm}^3$

K_s

s_2

Ecuaciones

Cantidad (número de moles)

$$n = m / M$$

Concentración molar (mol/dm³)

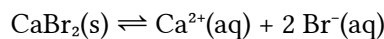
$$s = n / V = s' / M$$

Producto de solubilidad del equilibrio: $B_b A_a(s) \rightleftharpoons b B^{\beta+}(aq) + a A^{\alpha-}(aq)$

$$K_s = [A^{\alpha-}]^a \cdot [B^{\beta+}]^b$$

Solución:

a) El equilibrio de solubilidad es

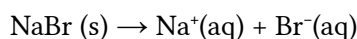


		Ca Br ₂	⇌	Ca ²⁺	2 Br ⁻	
Concentración en el equilibrio	[X] _e			s	2 s	mol/dm ³

La constante de equilibrio K_s es:

$$K_s = [Ca^{2+}]_e \cdot [Br^-]_e^2 = s (2s)^2 = 4s^3 = 4 \cdot (2,00 \cdot 10^{-4})^3 = 3,20 \cdot 10^{-11}$$

b) El bromuro de sodio estará totalmente disociado.



$$[Br^-] = [NaBr] = 0,100 \text{ mol Br}^-/\text{dm}^3 \text{ D}$$

		Ca Br ₂	⇌	Ca ²⁺	2 Br ⁻	
Concentración inicial	[X] ₀			0	0,100	mol/dm ³
Concentración que reacciona o se forma	[X] _r	s ₂	→	s ₂	2 s ₂	mol/dm ³
Concentración en el equilibrio	[X] _e			s ₂	0,100 + 2 s ₂	mol/dm ³

La constante de equilibrio K_s es:

$$K_s = [Ca^{2+}]_e \cdot [Br^-]_e^2 = s_2 \cdot (0,100 + 2s_2)^2 = 3,20 \cdot 10^{-11}$$

En primera aproximación, podemos considerar despreciable s_2 frente a 0,100, ($s_2 \ll 0,100$). Entonces:

$$s_2 \cdot (0,100)^2 \approx 3,20 \cdot 10^{-11}$$

$$s_2 = \frac{3,20 \cdot 10^{-11}}{(0,100)^2} = 3,20 \cdot 10^{-9} \text{ mol/dm}^3$$

que es despreciable.

Análisis: Se ve que la solubilidad en NaBr, $s_2 = 3,20 \cdot 10^{-9}$ mol/dm³ es menor que la solubilidad en agua, $s = 2,00 \cdot 10^{-4}$ mol/dm³, debido al efecto del ion común Br⁻.

P.7. 2,0 cm³ de un ácido nítrico del 58 % de riqueza en masa y densidad 1,36 g/cm³ se diluyen en agua hasta completar 250 cm³ de disolución.

- Calcula el volumen de disolución de hidróxido de sodio de concentración 0,10 mol/dm³ necesario para neutralizar 10 cm³ de la disolución preparada de ácido nítrico, escribiendo la reacción que tiene lugar.
- Describe el procedimiento experimental y nombre el material necesario para realizar la valoración

(A.B.A.U. Sep. 20)

Rta.: $V = 10 \text{ cm}^3 \text{ D NaOH}$.

Solución:

a) Se calcula primero la concentración de la disolución diluida de ácido nítrico.

La masa de los 2,0 cm³ de la disolución de ácido nítrico del 58 % de riqueza en masa y densidad 1,36 g/cm³ es:

$$m = 2,0 \text{ cm}^3 \cdot 1,36 \text{ g/cm}^3 = 2,7 \text{ g D}$$

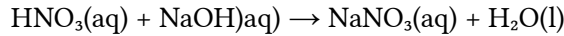
La masa de ácido nítrico contenido en ella es:

$$m' = 58 \% \cdot 2,7 \text{ g} = 1,6 \text{ g HNO}_3$$

La concentración de los 250 cm³ de la disolución diluida es:

$$[\text{HNO}_3] = \frac{1,6 \text{ g HNO}_3}{250 \text{ cm}^3 \text{ D}} \cdot \frac{1 \text{ mol HNO}_3}{63 \text{ g HNO}_3} \cdot \frac{1 \text{ cm}^3 \text{ D}}{10^{-3} \text{ dm}^3} = 0,10 \frac{\text{mol HNO}_3}{\text{dm}^3 \text{ D}}$$

La reacción de neutralización es:



El volumen de disolución de hidróxido de sodio de concentración 0,10 mol/dm³ necesario para neutralizar 10 cm³ de la disolución preparada de ácido nítrico es:

$$V = 10,0 \text{ cm}^3 \text{ D HNO}_3 \cdot \frac{0,10 \text{ mol HNO}_3}{1000 \text{ cm}^3 \text{ D HNO}_3} \cdot \frac{1 \text{ mol NaOH}}{1 \text{ mol HNO}_3} \cdot \frac{1000 \text{ cm}^3 \text{ D NaOH}}{0,10 \text{ mol NaOH}} = 10 \text{ cm}^3 \text{ D NaOH}$$

b) **Procedimiento de valoración:** Con una pipeta se miden 10 cm³ de disolución de HNO₃ y se vierten en un matraz erlenmeyer de 100 cm³. Se añaden dos gotas de fenolftaleína y la disolución permanecerá incolora. Se llena una bureta de 25 cm³ con disolución de NaOH 0,10 mol/dm³ por encima del cero. Se abre la llave hasta que el pico de la bureta esté lleno y el nivel en cero. Se dejan caer 9 cm³ sobre el erlenmeyer y se agita. Se abre la llave de la bureta para dejar caer la disolución de NaOH en pequeños chorros mientras se imprime un movimiento circular al erlenmeyer hasta que el contenido del erlenmeyer adquiera un color rosado. Se anota el volumen de NaOH gastado (p. ej. 10,2 cm³) y se tira el contenido del erlenmeyer y se lava el matraz. Se vuelve a llenar la bureta con NaOH hasta el cero. Se miden otros 10 cm³ de HNO₃ con la pipeta, se vierten en el erlenmeyer (lavado, pero no necesariamente seco) y se añaden dos gotas de fenolftaleína. Se coloca el erlenmeyer bajo la bureta y se abre la llave hasta dejar caer casi todo el volumen medido antes (p. ej. 9,7 cm³). Ahora se deja caer el HNO₃ gota a gota mientras se hace rotar el erlenmeyer, hasta que la fenolftaleína cambie de color. Se anota este valor. Se repite otras dos veces y se toma como volumen correcto el valor medio de las medidas que más se aproximan.

Material: Bureta (1) de 25 cm³ (escalonada en 0,1 cm³), pipeta (1) de 10 cm³ con aspirador, matraz erlenmeyer (1) de 100 cm³, disolución de fenolftaleína.

P.8. a) Explica como construirías en el laboratorio una pila empleando un electrodo de cinc y un electrodo de níquel, indicando el material y los reactivos necesarios.

b) Indica las semirreacciones que tienen lugar en cada electrodo, la reacción iónica global y calcula la fuerza electromotriz de la pila.

Datos: $E^\circ(\text{Ni}^{2+}/\text{Ni}) = -0,25 \text{ V}$; $E^\circ(\text{Zn}^{2+}/\text{Zn}) = -0,76 \text{ V}$.

(A.B.A.U. Sep. 20)

Rta.: $E^\circ = 0,51 \text{ V}$.

Solución:

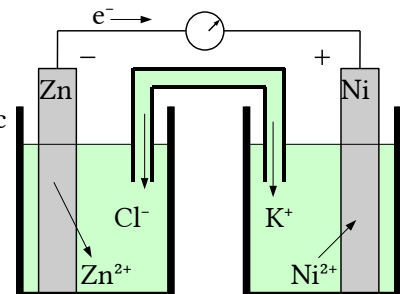
Material: Vasos de precipitados de 100 cm³ (2), tubo en U, cables con pinzas, voltímetro.

Reactivos: láminas de níquel y zinc pulidas, disoluciones de sulfato de zinc de concentración 1 mol/dm³ y sulfato de níquel (II) de concentración 1 mol/dm³. Disolución de cloruro de potasio para el puente salino.

(Cátodo +) reducción: $\text{Ni}^{2+} + 2 \text{ e}^- \rightarrow \text{Ni} \quad E^\circ = -0,25 \text{ V}$

(Ánodo -) oxidación: $\text{Zn} \rightarrow \text{Zn}^{2+} + 2 \text{ e}^- \quad E^\circ = 0,76 \text{ V}$

Reacción global: $\text{Zn} + \text{Ni}^{2+} \rightarrow \text{Zn}^{2+} + \text{Ni} \quad E^\circ = 0,51 \text{ V}$



Cuestiones y problemas de las [Pruebas de evaluación de Bachillerato para el acceso a la Universidad](#) (A.B.A.U. y P.A.U.) en Galicia.

[Respuestas](#) y composición de [Alfonso J. Barbadillo Marán](#).

Algunos cálculos se hicieron con una [hoja de cálculo](#) de [LibreOffice](#) u [OpenOffice](#) del mismo autor.

Algunas ecuaciones y las fórmulas orgánicas se construyeron con la extensión [CLC09](#) de Charles Lalanne-Cassou. La traducción al/desde el gallego se realizó con la ayuda de [traducindote](#), de Óscar Hermida López. Se procuró seguir las [recomendaciones](#) del Centro Español de Metrología (CEM)

Actualizado: 20/03/22

www.yoquieroaprobar.es