

NOMBRE:

FECHA:

Continúa las series.

$325 \rightarrow \square \rightarrow \square \rightarrow 328$

$668 \rightarrow \square \rightarrow \square \rightarrow \square$

$497 \rightarrow \square \rightarrow \square \rightarrow \square$

$889 \rightarrow \square \rightarrow \square \rightarrow \square$

$708 \rightarrow \square \rightarrow \square \rightarrow \square$

$599 \rightarrow \square \rightarrow \square \rightarrow 602$

Descubre la regla que sigue cada serie y completa.

$500 \rightarrow 550 \rightarrow 600 \rightarrow \square \rightarrow \square \rightarrow \square \rightarrow \square \rightarrow \square \rightarrow \square$

$899 \rightarrow 897 \rightarrow 895 \rightarrow \square \rightarrow \square \rightarrow \square \rightarrow \square \rightarrow \square \rightarrow \square$

Calcula y completa.

$388 \xrightarrow{+3} 391 \xrightarrow{-1} \square \xrightarrow{+10} \square \xrightarrow{-2} \square \xrightarrow{+5} \square$

$525 \xrightarrow{+5} \square \xrightarrow{-1} \square \xrightarrow{+3} \square \xrightarrow{-10} \square \xrightarrow{+4} \square$

$799 \xrightarrow{+2} \square \xrightarrow{+9} \square \xrightarrow{-3} \square \xrightarrow{-7} \square \xrightarrow{-5} \square$

Escribe los números anterior y posterior.

$\square \leftarrow 889 \rightarrow \square$

$\square \leftarrow 200 \rightarrow \square$

$\square \leftarrow 760 \rightarrow \square$

$\square \leftarrow 400 \rightarrow \square$

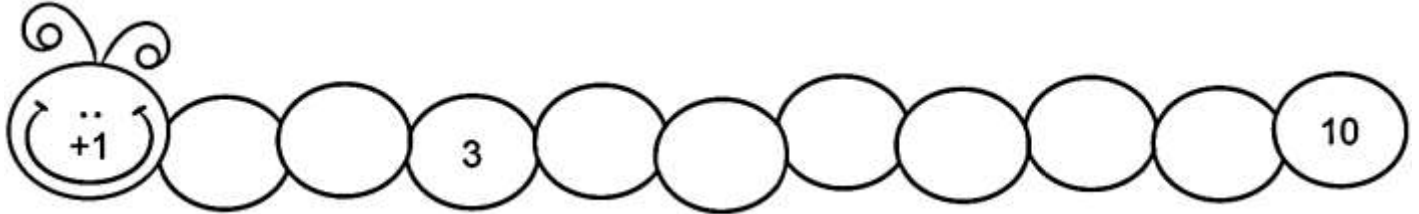
$\square \leftarrow 599 \rightarrow \square$

$\square \leftarrow 900 \rightarrow \square$


NOMBRE:

FECHA:


Completa la serie.



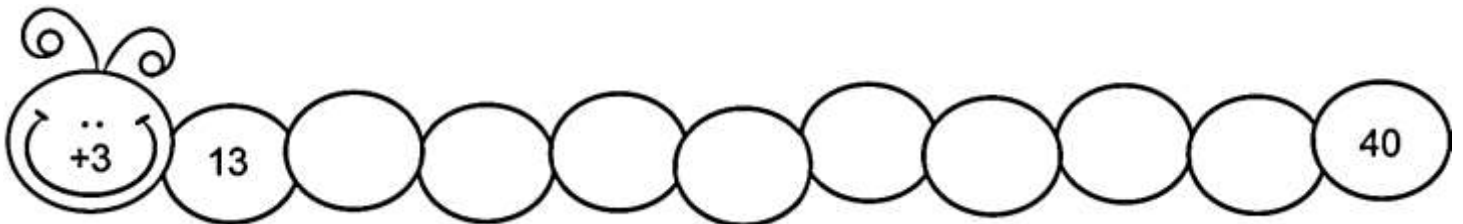
Escribe de 2 en 2 hasta el 20.



Escribe de 3 en 3 hasta el 30.



Escribe de 3 en 3 hasta el 40.



Escribe de 4 en 4 hasta el 50.

