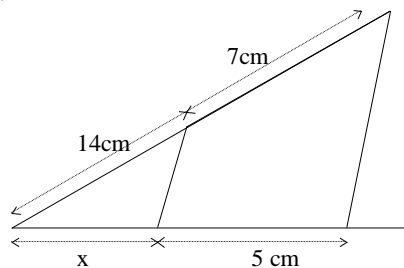


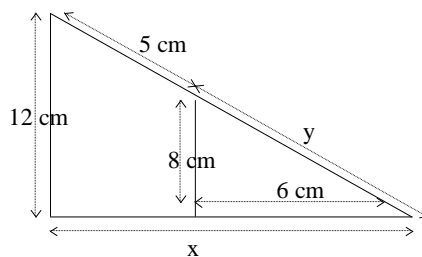
TEOREMA DE THALES

1. Calcular en cada caso los segmentos indicados con las letras x, y, z, con los datos que aparecen en las figuras, sabiendo que los triángulos están en la posición de Tales:

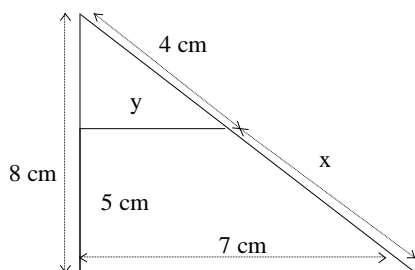
a)



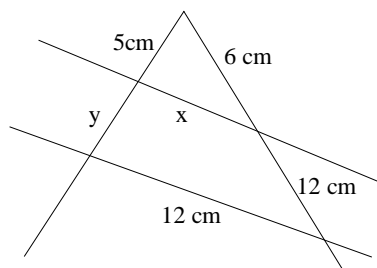
d)



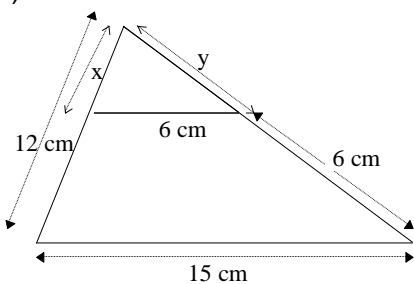
b)



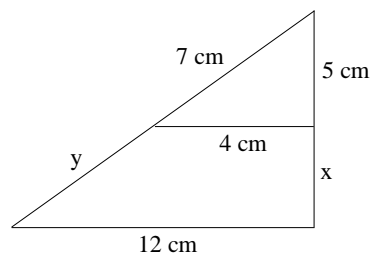
e)



c)



f)



2. Calcular en cada caso los segmentos indicados con las letras x, y, z, con los datos que aparecen en las figuras, sabiendo que los triángulos están en la posición de Tales:

