

Nombre: .....

Fecha: ..... Curso: .....

## Sumas

Utiliza la tabla para resolver las siguientes sumas:

+	0	1	2	3	4	5	6
1	1	2	3	4	5	6	7
2	2	3	4	5	6	7	8
3	3	4	5	6	7	8	9
4	4	5	6	7	8	9	10
5	5	6	7	8	9	10	11
6	6	7	8	9	10	11	12

fichasdematematicas.com

$4 + 5 = \bigcirc$

$6 + 2 = \bigcirc$

$5 + 5 = \bigcirc$

$6 + 1 = \bigcirc$

$3 + 1 = \bigcirc$

$6 + 5 = \bigcirc$

$3 + 2 = \bigcirc$

$4 + 4 = \bigcirc$

$4 + 1 = \bigcirc$

$5 + 3 = \bigcirc$

$6 + 1 = \bigcirc$

$6 + 6 = \bigcirc$

$2 + 2 = \bigcirc$

$5 + 2 = \bigcirc$

$3 + 6 = \bigcirc$

$4 + 6 = \bigcirc$

$2 + 4 = \bigcirc$

$3 + 3 = \bigcirc$

Nombre: .....

Fecha: ..... Curso: .....

## Sumas

Utiliza la tabla para resolver las siguientes sumas:

+	7	8	9	10	11	12	13
7	14	15	16	17	18	19	20
8	15	16	17	18	19	20	21
9	16	17	18	19	20	21	22
10	17	18	19	20	21	22	23
11	18	19	20	21	22	23	24
12	19	20	21	22	23	24	25

fichasdematematicas.com

$8 + 7 = \bigcirc$

$10 + 12 = \bigcirc$

$12 + 8 = \bigcirc$

$13 + 11 = \bigcirc$

$10 + 9 = \bigcirc$

$12 + 11 = \bigcirc$

$12 + 7 = \bigcirc$

$10 + 12 = \bigcirc$

$9 + 8 = \bigcirc$

$9 + 13 = \bigcirc$

$11 + 9 = \bigcirc$

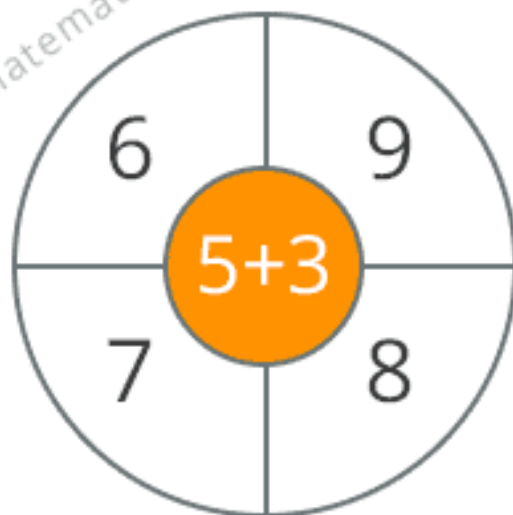
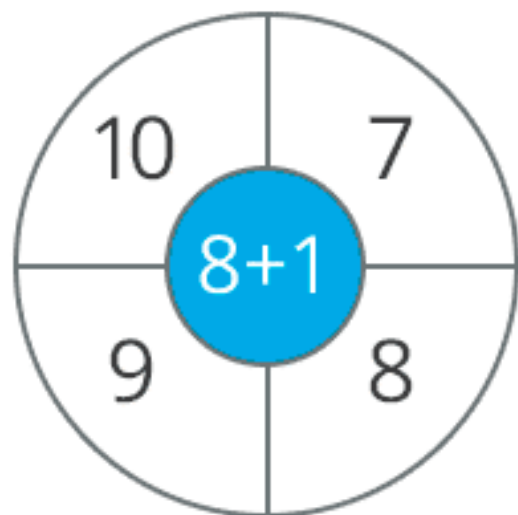
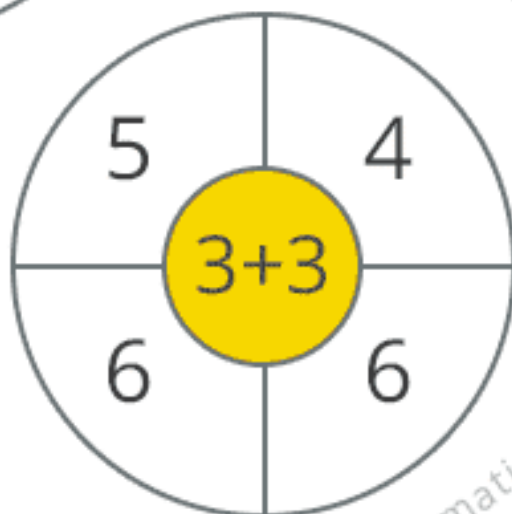
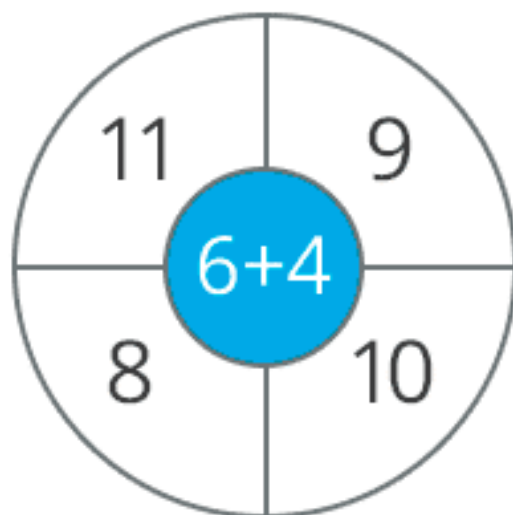
$11 + 10 = \bigcirc$

Nombre: .....

Fecha: ..... Curso: .....

## Sumas

Colorea el resultado correcto de las siguientes sumas:



fichasdematematicas.com

Nombre: .....

Fecha: ..... Curso: .....

## Sumas

Resuelve las siguientes sumas:

$$\begin{array}{r} 10 \\ + 6 \\ \hline \end{array}$$

$$\begin{array}{r} 12 \\ + 7 \\ \hline \end{array}$$

$$\begin{array}{r} 10 \\ + 4 \\ \hline \end{array}$$

$$\begin{array}{r} 14 \\ + 5 \\ \hline \end{array}$$

$$\begin{array}{r} 20 \\ + 4 \\ \hline \end{array}$$

$$\begin{array}{r} 19 \\ + 3 \\ \hline \end{array}$$

$$\begin{array}{r} 14 \\ + 7 \\ \hline \end{array}$$

$$\begin{array}{r} 17 \\ + 6 \\ \hline \end{array}$$

fichasdematematicas.com

$$\begin{array}{r} 15 \\ + 8 \\ \hline \end{array}$$

$$\begin{array}{r} 13 \\ + 9 \\ \hline \end{array}$$

$$\begin{array}{r} 17 \\ + 4 \\ \hline \end{array}$$

$$\begin{array}{r} 10 \\ + 12 \\ \hline \end{array}$$

$$\begin{array}{r} 13 \\ + 12 \\ \hline \end{array}$$

$$\begin{array}{r} 10 \\ + 9 \\ \hline \end{array}$$

$$\begin{array}{r} 15 \\ + 6 \\ \hline \end{array}$$

$$\begin{array}{r} 13 \\ + 8 \\ \hline \end{array}$$

Nombre: .....

Fecha: ..... Curso: .....

## Sumas

Resuelve las siguientes sumas con figuras:

$6 + 10 + 5 = \dots$

fichasdematematicas.com

$12 + 1 + 8 = \dots$

$3 + 4 + 3 = \dots$

Nombre: .....

Fecha: ..... Curso: .....

## Sumas

Relaciona con flechas cada suma con su resultado:

$4+5$

$3+2$

$2+9$

$4+4$

$6+1$

$2+4$

6

8

7

9

11

5

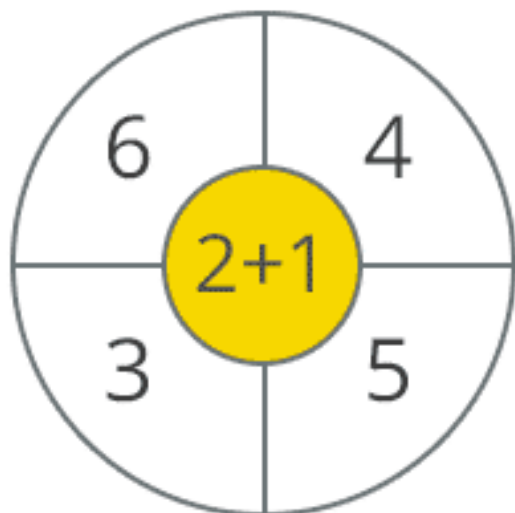
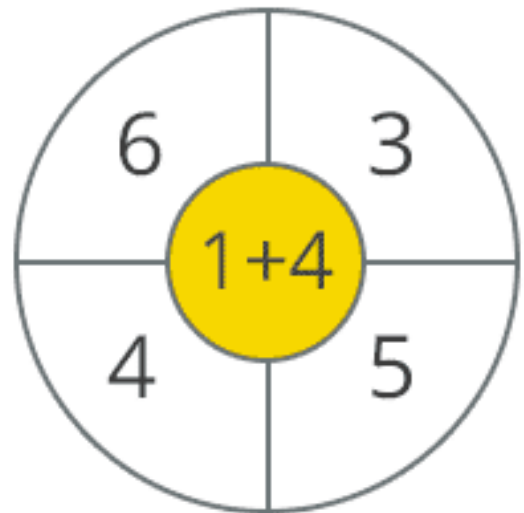
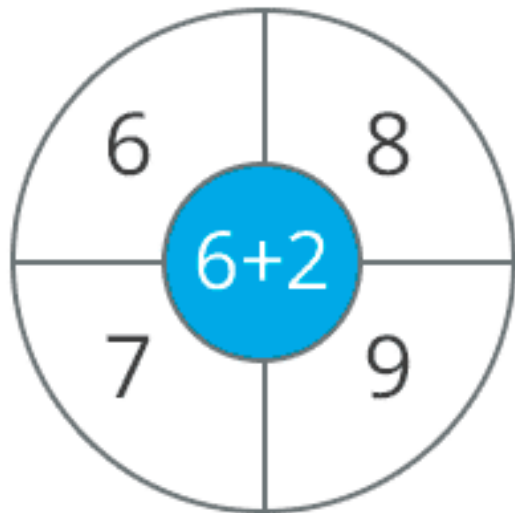
fichasdematematicas.com

Nombre: .....

Fecha: ..... Curso: .....

## Sumas

Colorea el resultado correcto de las siguientes sumas:



fichasdematematicas.com

Nombre: .....

Fecha: ..... Curso: .....

## Sumas

Relaciona con flechas cada suma con su resultado:

$2+3$

$6+4$

$3+3$

$7+1$

$1+2$

$8+3$

11

10

3

5

6

8

fichasdematematicas.com



Nombre: .....

Fecha: ..... Curso: .....

## Sumas

Relaciona con una flecha el resultado correcto:

5	6	7	9	12	7
<b>5+4</b>			<b>10+6</b>		
4	3	9	16	9	18

fichasdematematicas.com


13	14	9	20	22	24
<b>12+3</b>			<b>6+14</b>		
17	15	12	21	18	23

Nombre: .....

Fecha: ..... Curso: .....

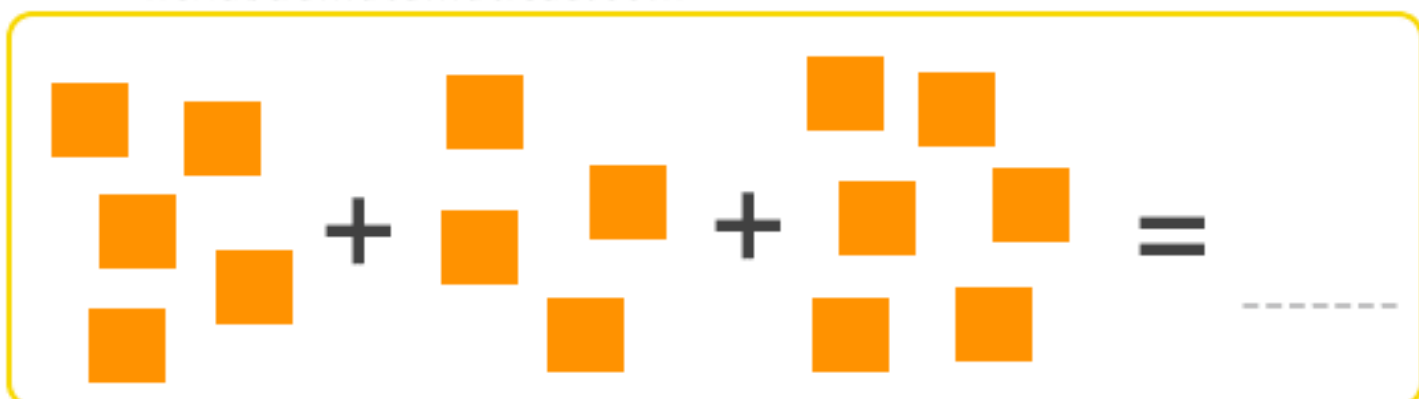
## Sumas

Resuelve las siguientes sumas con figuras:

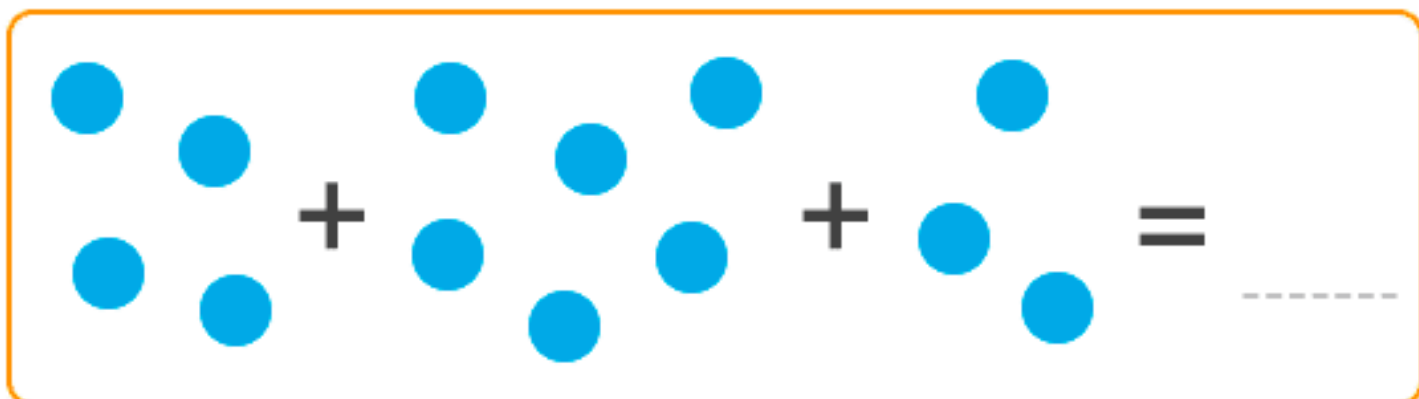


10 yellow triangles + 8 yellow triangles = .....

fichasdematematicas.com



5 orange squares + 4 orange squares + 4 orange squares = .....



4 blue circles + 5 blue circles + 3 blue circles = .....

Nombre: .....

Fecha: ..... Curso: .....

## Sumas

Relaciona con flechas cada suma con su resultado:

$12+6$

21

$10+9$

17

$9+15$

19

$13+4$

24

$3+17$

18

$14+7$

20

fichasdematematicas.com

Nombre: .....

Fecha: ..... Curso: .....

## Sumas

Resuelve las siguientes sumas:

$$\begin{array}{r} 8 \\ + 4 \\ \hline \end{array}$$

$$\begin{array}{r} 1 \\ + 3 \\ \hline \end{array}$$

$$\begin{array}{r} 6 \\ + 1 \\ \hline \end{array}$$

$$\begin{array}{r} 3 \\ + 2 \\ \hline \end{array}$$

$$\begin{array}{r} 7 \\ + 2 \\ \hline \end{array}$$

$$\begin{array}{r} 2 \\ + 5 \\ \hline \end{array}$$

$$\begin{array}{r} 4 \\ + 4 \\ \hline \end{array}$$

$$\begin{array}{r} 1 \\ + 9 \\ \hline \end{array}$$

fichasdematematicas.com

$$\begin{array}{r} 2 \\ + 2 \\ \hline \end{array}$$

$$\begin{array}{r} 7 \\ + 5 \\ \hline \end{array}$$

$$\begin{array}{r} 6 \\ + 6 \\ \hline \end{array}$$

$$\begin{array}{r} 3 \\ + 9 \\ \hline \end{array}$$

$$\begin{array}{r} 5 \\ + 1 \\ \hline \end{array}$$

$$\begin{array}{r} 1 \\ + 3 \\ \hline \end{array}$$

$$\begin{array}{r} 7 \\ + 4 \\ \hline \end{array}$$


$$\begin{array}{r} 3 \\ + 8 \\ \hline \end{array}$$

Nombre: .....

Fecha: ..... Curso: .....


## Sumas

Resuelve las siguientes sumas con figuras:



$7 + 5 + 2 = \text{-----}$

fichasdematematicas.com



$8 + 3 = \text{-----}$



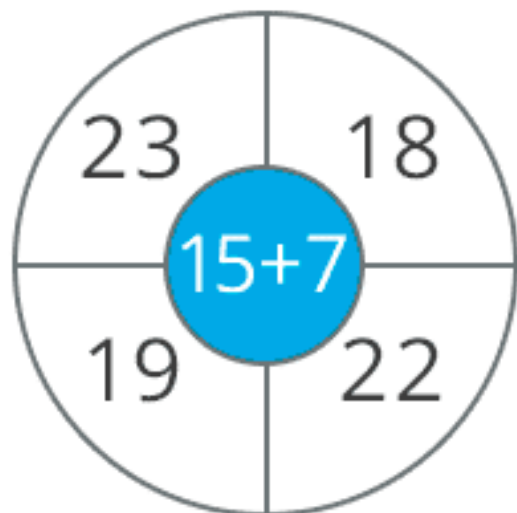
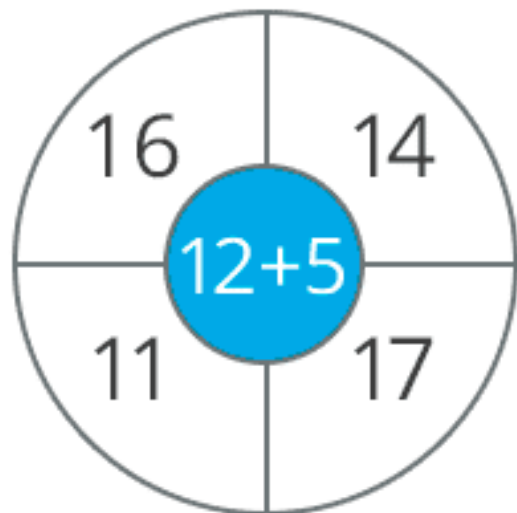
$5 + 5 + 4 = \text{-----}$

Nombre: .....

Fecha: ..... Curso: .....

## Sumas

Colorea el resultado correcto de las siguientes sumas:



fichasdematematicas.com

Nombre: .....

Fecha: ..... Curso: .....

## Sumas

Resuelve las siguientes sumas:

$$\begin{array}{r} 5 \\ + 6 \\ \hline \end{array}$$

$$\begin{array}{r} 3 \\ + 7 \\ \hline \end{array}$$

$$\begin{array}{r} 2 \\ + 4 \\ \hline \end{array}$$

$$\begin{array}{r} 9 \\ + 3 \\ \hline \end{array}$$

$$\begin{array}{r} 3 \\ + 4 \\ \hline \end{array}$$

$$\begin{array}{r} 9 \\ + 7 \\ \hline \end{array}$$

$$\begin{array}{r} 8 \\ + 2 \\ \hline \end{array}$$

$$\begin{array}{r} 6 \\ + 6 \\ \hline \end{array}$$

fichasdematematicas.com

$$\begin{array}{r} 8 \\ + 7 \\ \hline \end{array}$$

$$\begin{array}{r} 9 \\ + 6 \\ \hline \end{array}$$

$$\begin{array}{r} 3 \\ + 3 \\ \hline \end{array}$$

$$\begin{array}{r} 8 \\ + 4 \\ \hline \end{array}$$

$$\begin{array}{r} 7 \\ + 2 \\ \hline \end{array}$$

$$\begin{array}{r} 3 \\ + 9 \\ \hline \end{array}$$

$$\begin{array}{r} 5 \\ + 8 \\ \hline \end{array}$$

$$\begin{array}{r} 7 \\ + 7 \\ \hline \end{array}$$

Nombre: .....

Fecha: ..... Curso: .....

## Sumas

Relaciona con una flecha el resultado correcto:

9      12      11

**7+4**

14      3      9

15      12      14

**12+4**

16      9      18

fichasdematematicas.com

12      14      9

**9+5**

17      15      13

20      19      15

**17+2**

21      18      23



Nombre: .....

Fecha: ..... Curso: .....

## Sumas

Relaciona con flechas cada suma con su resultado:

$7+1$

$7+5$

$3+4$

$2+8$

$4+7$

$8+1$

10

7

9

8

12

11

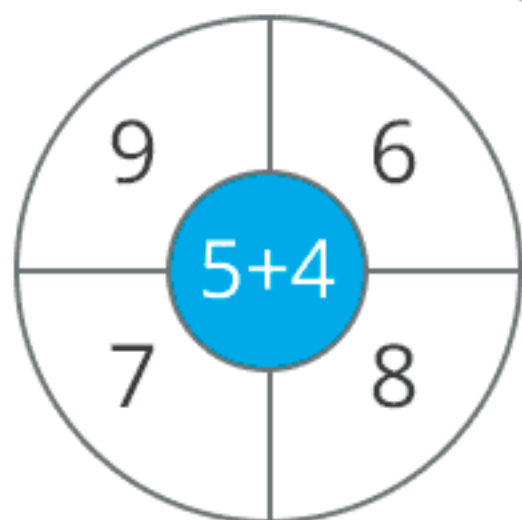
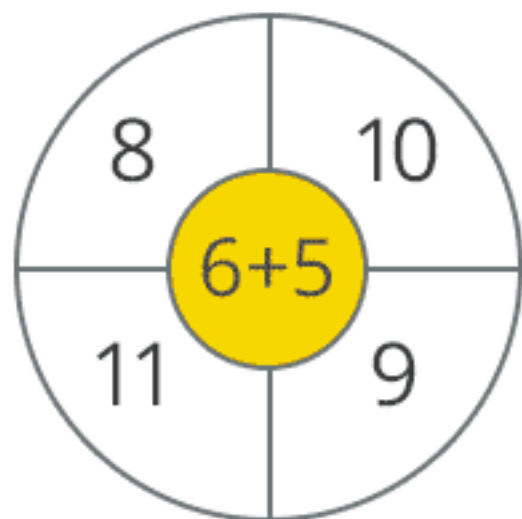
fichasdematematicas.com

Nombre: .....

Fecha: ..... Curso: .....

## Sumas

Colorea el resultado correcto de las siguientes sumas:



fichasdematematicas.com

Nombre: .....

Fecha: ..... Curso: .....

## Sumas

Relaciona con una flecha el resultado correcto:

16      12      11

**11 + 8**

14      19      18

19      24      22

**12 + 9**

21      25      18

fichasdematematicas.com

18      14      19

**6 + 13**

17      15      13

21      19      20

**11 + 12**

23      18      23