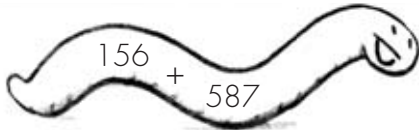


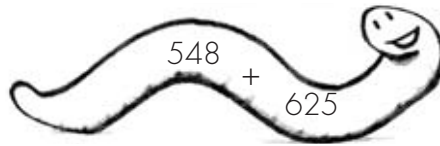
La suma

Nombre: _____

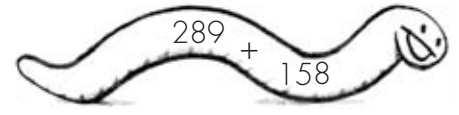
1. Coloca los sumandos en vertical y realiza las sumas.



$$\begin{array}{r} \dots\dots\dots \\ + \dots\dots\dots \\ \hline \dots\dots\dots \end{array}$$



$$\begin{array}{r} \dots\dots\dots \\ + \dots\dots\dots \\ \hline \dots\dots\dots \end{array}$$



$$\begin{array}{r} \dots\dots\dots \\ + \dots\dots\dots \\ \hline \dots\dots\dots \end{array}$$

2. Escribe todos los números de cinco cifras comprendidos entre 58.997 y 59.003.

3. Andrés tiene 20 canicas, Luisa tiene 15 coches y Marisol 14 muñecas. ¿Cuántos juguetes tienen entre los tres?

4. Completa esta tabla.

número	se encuentra entre...	la centena más próxima es...
112	100 y 200	
259		
242		
699		

5. En la clase de Petra han reciclado 24 hojas para hacer dibujos, en la clase de Manolo 23 y en la de Laura 25. ¿Cuántas hojas han reciclado las tres clases juntas?