

Nombre.

Fecha.

1. Nombra las tres características generales de la reproducción humana.

2. Escribe las partes del aparato reproductor masculino señaladas en dibujo inferior A.

1	
2	
3	
4	
5	
6	
7	

3. Escribe las partes del aparato reproductor femenino señaladas en dibujo inferior B.

A	
B	
B	
D	
E	
F	

4. ¿Qué funciones realizan estos órganos del aparato reproductor masculino?

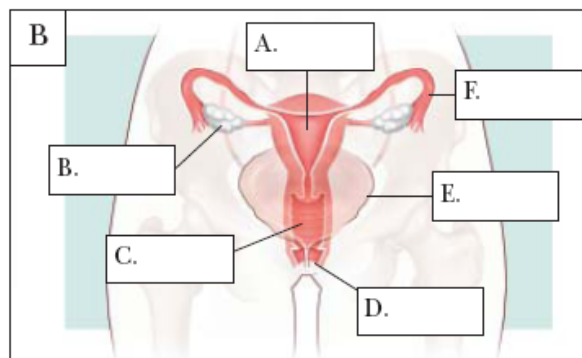
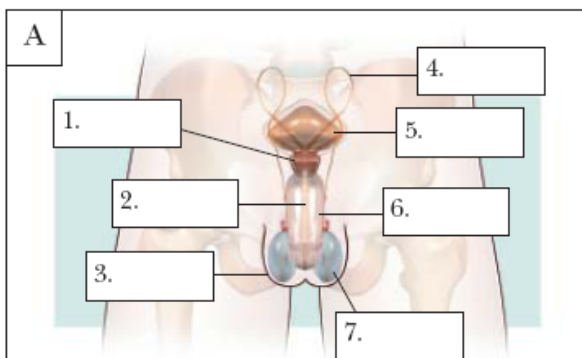
Los testículos: _____

Los conductos deferentes: _____

5. ¿Qué funciones realizan estos órganos del aparato reproductor femenino?

Las trompas de Falopio: _____

El útero: _____



Nombre.

Fecha.

6. Infórmate. Lee en el libro y...

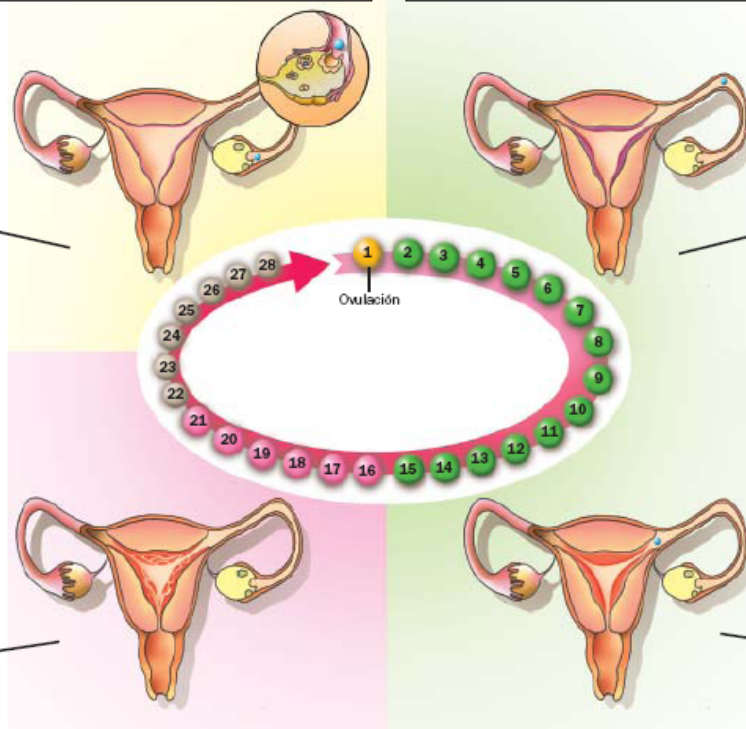
Completa la información que acompaña al dibujo.

1.

El ovario produce un
que avanza hacia el útero por la
de

2. PREPARACIÓN DEL ÚTERO (I)

A partir de la ovulación y durante unos
días, la pared interna del útero se
y se recubre de



3.

Si no hay, el óvulo se expulsa,
junto con
y algo de sangre. Dura unos días.

2. PREPARACIÓN DEL ÚTERO (II)

Si el óvulo es en la trompa
de Falopio, el embrión se en
la pared engrosada del útero ya preparado.

7. Define: Los caracteres sexuales secundarios: _____

La ovulación: _____

8. Completa las frases siguientes: La fecundación es la unión de un _____ y un
_____ maduro, para formar un cigoto. El _____ es el período durante el
que el cigoto y el _____ se desarrollan en el interior del _____ de la
madre. El _____ es la salida del _____ del cuerpo de la madre.

Nombre.

Fecha.

9. Relaciona con flechas las dos columnas:

- | | |
|------------------|--------------------------------|
| a. Doce semanas. | 1. Puede moverse. |
| b. Cuatro meses. | 2. Órganos ya formados. |
| c. Siete meses. | 3. Listo para nacer. |
| d. Nueve meses. | 4. Mide unos doce centímetros. |

10. Describe las funciones que realizan la placenta y el cordón umbilical.

11. Ordena cronológicamente estas fases del parto:

A. El bebé sale al exterior. B. Contracciones del útero. C. Rotura del saco amniótico.

12. Completa estas frases para que sean correctas.

- a) La uretra es un conducto común a los aparatos
- b) En los se producen y maduran los espermatozoides.
- c) El semen se compone de y de los líquidos que producen las y la
- d) Los producen los óvulos.
- e) El es un órgano musculoso y hueco, con la forma y el tamaño de una pera. Su función es

13. Corrige estas frases para que sean correctas.

- a) La fecundación se produce en el interior de la vagina.
.....
- b) La menstruación o regla ocurre después de la fecundación.
.....
- c) El ciclo menstrual dura 14 días.
.....
- d) El embarazo tiene lugar en el interior de la trompa de Falopio.
.....
- e) El útero une la placenta y el feto, y le suministra nutrientes y oxígeno.
.....