

Nombre \_\_\_\_\_ Fecha \_\_\_\_\_

El suelo de la terraza de la casa de Óscar mide 400 cm de largo y 500 cm de ancho. ¿Cuántos azulejos de 1.600 cm<sup>2</sup> se necesitan para cubrir ese suelo?

**1 Comprende.**

Pregunta: \_\_\_\_\_

\_\_\_\_\_


Datos: \_\_\_\_\_

\_\_\_\_\_

**2 Piensa qué hay que hacer.**

- una suma.
- una resta.
- una multiplicación y una división.


**3 Calcula.**



Respuesta: \_\_\_\_\_

\_\_\_\_\_

¿Cuál es el área del huerto del abuelo de Elvira, si cada cuadrado tiene una superficie de 1 m<sup>2</sup>?



**1 Comprende.**

Pregunta: \_\_\_\_\_

\_\_\_\_\_


Datos: \_\_\_\_\_

\_\_\_\_\_

**2 Piensa qué hay que hacer.**

- una suma.
- una multiplicación.
- una resta.

**3 Calcula.**



Respuesta: \_\_\_\_\_

\_\_\_\_\_