

Nombre: .....

Curso: .....

**1. Completa la siguiente tabla:**

cuerpo geométrico	forma de las caras			número de vértices	número de aristas	número de caras
						
						
						
						
						
						

**2. Describe qué son los poliedros regulares, indica cuáles son y dibuja uno:**

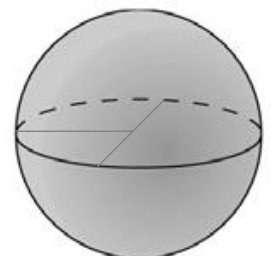
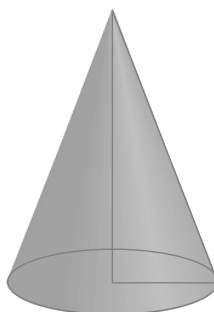
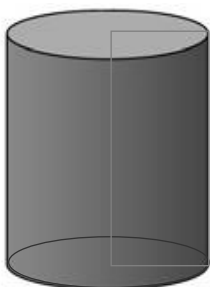
Los poliedros regulares son .....

Hay ..... poliedros regulares: .....

.....

Dibujo:

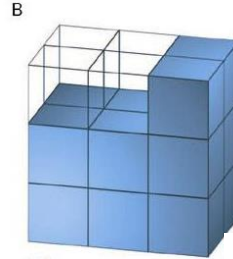
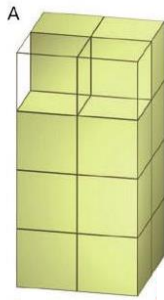
**3. Indica, para cada figura, los elementos que las caracterizan:**



Nombre: .....

Curso: .....

**1. Observa las siguientes figuras y responde:**



a) ¿Cuántos cubos hay en cada figura?

Respuesta: .....

b) ¿Cuántos cubos faltan en cada figura para completarlas?

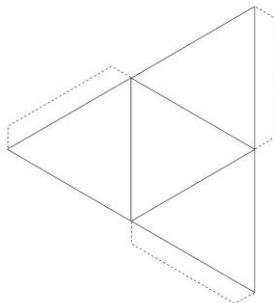
Respuesta: .....

c) La figura A pesa 308 g. Si todos los cubos son iguales, ¿cuánto pesaría la figura B completada con los cubos que le faltan?

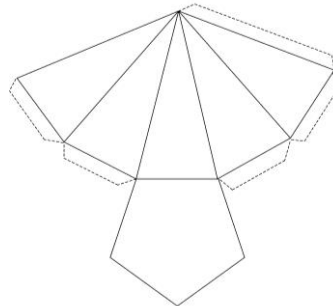
Respuesta: .....

**2. Pablo y Marta quieren construir una pirámide pentagonal y, para ello, primero dibujan el recortable. Cada uno ha dibujado los siguientes esquemas:**

Pablo:



Marta:



¿Quién ha dibujado el recortable correcto? Justifica tu respuesta:

Respuesta: .....

.....

.....