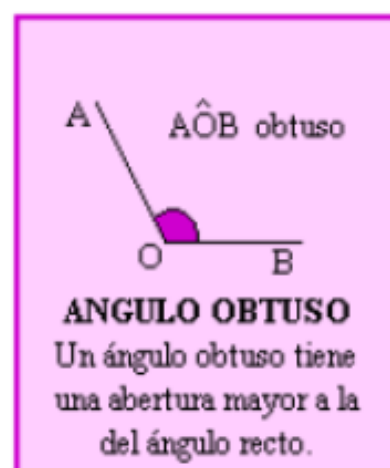


LOS ÁNGULOS:

TIPOS DE ÁNGULOS



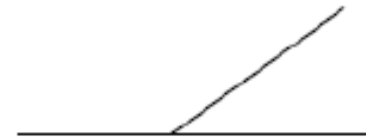

(Rectas perpendiculares son las que se cortan formando cuatro ángulos iguales).

El ángulo recto tiene 90° porque es la mitad de un ángulo llano. Cuatro ángulos rectos forman un ángulo completo.

El ángulo llano tiene 180° porque es la mitad de un ángulo completo.

El ángulo completo tiene 360° .

Escribe el nombre de estos ángulos.



Relaciona estas dos columnas:

Amplitud

Tipo de ángulo

15°

Llano

90°

Obtuso

150°

Agudo

180°

Recto

Fíjate en estos relojes y di el tipo de ángulo que se forma en cada uno de ellos:



Traza en tu cuaderno ángulos con las siguientes medidas y anota los su nombre.

1. 130°

4. 180°

2. 40°

5. 60°

3. 75°

Mide estos ángulos:



Ayuda a este señor que está buscando en su taller 15 objetos con ángulos rectos, agudos y obtusos (5 de cada). Rodea de rojo los rectos, de azul los agudos y de verde los obtusos. Ten cuenta que los lados deben ser rectos para formar ángulos.

