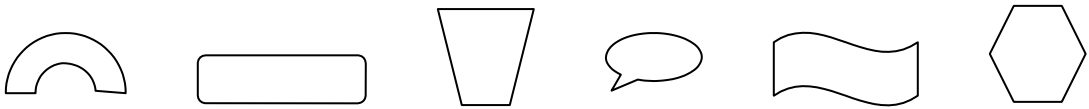
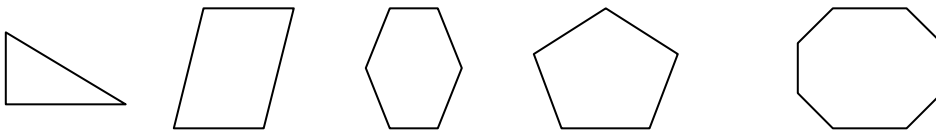


UNIDAD - 14 FIGURAS PLANAS

1- Colorea las figuras que sean polígonos:



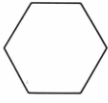


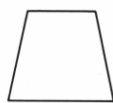
2- Dibuja las diagonales de estos polígonos:



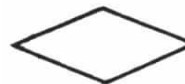
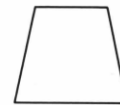
3- Completa la tabla:

| | Nº de lados | Nº de ángulos | Nº de vértices | Nº de diagonales |
|---------------------|-------------|---------------|----------------|------------------|
| Pentágono | | | | |
| Heptágono | | | | |
| Triángulo | | | | |
| Octógono | | | | |
| Cuadrilátero | | | | |

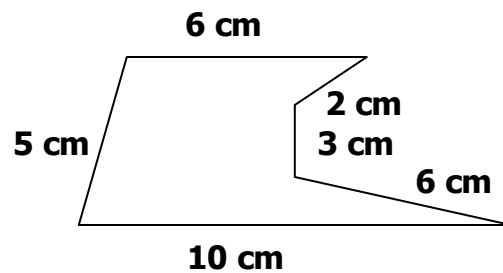
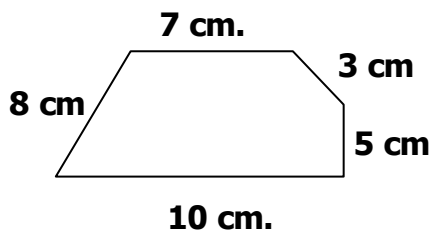
4- Completa el cuadro:

| | | | | |
|----------------------------|-----------------------------------------------------------------------------------|-----------------------------------------------------------------------------------|------------------------------------------------------------------------------------|-------------------------------------------------------------------------------------|
| Dibujo del polígono |  |  |  |  |
| Nombre | | | | |
| Nº de vértices | | | | |
| Nº de lados | | | | |
| Nº de diagonales | | | | |





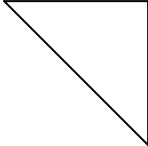
5- Colorea los polígonos regulares y escribe su nombre



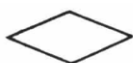

6- Calcula el perímetro de estos polígonos:



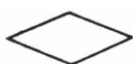

7- Escribe el nombre de estos triángulos según sus lados y sus ángulos.

| | | | | |
|-----------------------------------------------------------------------------------|-----------------------------------------------------------------------------------|-----------------------------------------------------------------------------------|-------------------------------------------------------------------------------------|-------------------------------------------------------------------------------------|
|  |  |  |  |  |
| | | | | |
| | | | | |

8- Colorea los lados que sean paralelos



9- Señala en estos cuadriláteros los ángulos rectos y las diagonales:



10- Traza con el compás una circunferencia de 3 cm. de radio y señala sus elementos.

11- Nombra cinco objetos que sean círculos.