

## EJERCICIOS RESUELTOS (TEOREMAS SENO Y COSENO)

1.- Resuelve el triángulo ABC, del que se conocen los siguientes datos (2 ángulos y el lado común):

$$\hat{A} = 60^\circ ; \hat{B} = 40^\circ ; c = 5 \text{ cm}$$

Solución:

(Existe un único triángulo con estos datos)

Como se conocen dos ángulos:  $\hat{A}$  y  $\hat{B}$ , se halla  $\hat{C}$ :

$$\hat{A} + \hat{B} + \hat{C} = 180^\circ \Rightarrow \hat{C} = 180^\circ - \hat{A} - \hat{B} = 180^\circ - 60^\circ - 40^\circ = 80^\circ$$

Y, aplicando el teorema del seno, se hallan los lados a y b:

$$\frac{a}{\text{sen } 60^\circ} = \frac{5}{\text{sen } 80^\circ} \Rightarrow a = \frac{5 \cdot \text{sen } 60^\circ}{\text{sen } 80^\circ} \approx 4,397 \text{ cm}$$

$$\frac{b}{\text{sen } 40^\circ} = \frac{5}{\text{sen } 80^\circ} \Rightarrow b = \frac{5 \cdot \text{sen } 40^\circ}{\text{sen } 80^\circ} \approx 3,264 \text{ cm}$$

2.- Resuelve el triángulo ABC, del que se conocen los siguientes datos (2 lados y el ángulo comprendido):

$$\hat{A} = 40^\circ ; b = 7 \text{ cm} ; c = 10 \text{ cm}$$

Solución:

(Existe un único triángulo con estos datos)

Aplicando el teorema del coseno, se determina el lado a:

$$a^2 = b^2 + c^2 - 2 \cdot b \cdot c \cdot \cos \hat{A}$$

$$a^2 = 7^2 + 10^2 - 2 \cdot 7 \cdot 10 \cdot \cos 40^\circ \Rightarrow a = \sqrt{7^2 + 10^2 - 2 \cdot 7 \cdot 10 \cdot \cos 40^\circ} = 6,46 \text{ cm}$$

El ángulo  $\hat{B}$  se determina aplicando el teorema del seno:

$$\frac{6,46}{\text{sen } 40^\circ} = \frac{7}{\text{sen } \hat{B}} \Rightarrow \text{sen } \hat{B} = \frac{7 \cdot \text{sen } 40^\circ}{6,46} \approx 0,6965 \Rightarrow \hat{B} = \text{arc sen } 0,6965 = 44^\circ 08' 54''$$

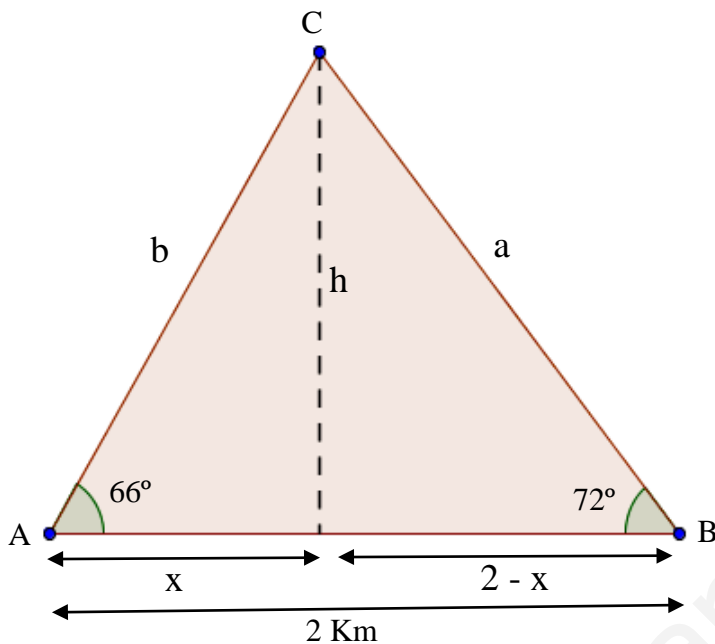
o bien, aplicando el teorema del coseno:

$$b^2 = a^2 + c^2 - 2 \cdot a \cdot c \cdot \cos \hat{B} \Rightarrow \cos \hat{B} = \frac{a^2 + c^2 - b^2}{2 \cdot a \cdot c} \Rightarrow \hat{B} = 44^\circ 08' 54''$$

Ya solamente nos resta hallar el ángulo  $\hat{C}$ :

$$\hat{A} + \hat{B} + \hat{C} = 180^\circ \Rightarrow \hat{C} = 180^\circ - \hat{A} - \hat{B} = 180^\circ - 40^\circ - 44^\circ 08' 54'' = 95^\circ 51' 06''$$

3. Dos individuos A y B observan un globo que se eleva verticalmente. La distancia entre los individuos es de 2 km. En cierto momento, los ángulos de elevación del globo desde los observadores son  $66^\circ$  y  $72^\circ$ , respectivamente. Determina a qué altura se encuentra el globo, en ese momento, y la distancia a cada observador.



Resolveremos el problema utilizando el método de la doble observación (o de las tangentes):

$$\left. \begin{aligned} \operatorname{tg} 66^\circ &= \frac{h}{x} && \Rightarrow h = x \cdot \operatorname{tg} 66^\circ \\ \operatorname{tg} 72^\circ &= \frac{h}{2-x} && \Rightarrow h = (2-x) \cdot \operatorname{tg} 72^\circ \end{aligned} \right\} \Rightarrow \text{igualando ambas expresiones:}$$

$$x \cdot \operatorname{tg} 66^\circ = (2-x) \cdot \operatorname{tg} 72^\circ$$

$$x \cdot \operatorname{tg} 66^\circ = 2 \cdot \operatorname{tg} 72^\circ - x \cdot \operatorname{tg} 72^\circ$$

$$x \cdot \operatorname{tg} 66^\circ + x \cdot \operatorname{tg} 72^\circ = 2 \cdot \operatorname{tg} 72^\circ$$

$$x \cdot (\operatorname{tg} 66^\circ + \operatorname{tg} 72^\circ) = 2 \cdot \operatorname{tg} 72^\circ$$

$$x = \frac{2 \cdot \operatorname{tg} 72^\circ}{\operatorname{tg} 66^\circ + \operatorname{tg} 72^\circ} = 1,156 \text{ Km}$$

$$h = x \cdot \operatorname{tg} 66^\circ = 1,156 \cdot \operatorname{tg} 66^\circ = 2,6 \text{ Km}$$

$$a = \sqrt{h^2 + (2-x)^2} = 2,7 \text{ Km}$$

$$b = \sqrt{h^2 + x^2} = 2,8 \text{ Km}$$

Como este año ya sabemos resolver cualquier triángulo podemos utilizar otro procedimiento para resolver este problema:

$$\hat{A} + \hat{B} + \hat{C} = 180^\circ \Rightarrow \hat{C} = 180^\circ - \hat{A} - \hat{B} = 180^\circ - 66^\circ - 72^\circ = 42^\circ$$

Calculamos a y b aplicando el teorema del seno:

$$\frac{c}{\operatorname{sen} \hat{C}} = \frac{a}{\operatorname{sen} \hat{A}} \Rightarrow a = \frac{c \cdot \operatorname{sen} \hat{A}}{\operatorname{sen} \hat{C}} = \frac{2 \cdot \operatorname{sen} 66^\circ}{\operatorname{sen} 42^\circ} = 2,73 \text{ Km}$$

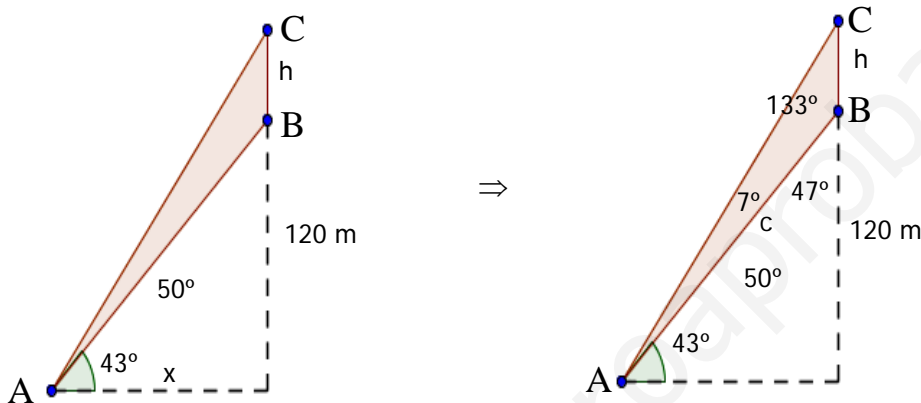
$$\frac{c}{\operatorname{sen} \hat{C}} = \frac{b}{\operatorname{sen} \hat{B}} \Rightarrow b = \frac{c \cdot \operatorname{sen} \hat{B}}{\operatorname{sen} \hat{C}} = \frac{2 \cdot \operatorname{sen} 72^\circ}{\operatorname{sen} 42^\circ} = 2,84 \text{ Km}$$

Finalmente se calcula h: ( $h = b \cdot \operatorname{sen} 66^\circ$  ó  $h = a \cdot \operatorname{sen} 72^\circ$ )

$$h = b \cdot \operatorname{sen} 66^\circ = 2,6 \text{ km}$$

Como vemos, este 2º método, es mucho más fácil.

4.- Una antena de televisión se encuentra situada sobre una colina. Desde un punto A (en el terreno llano) el extremo superior de la antena se ve bajo un ángulo de  $50^\circ$  y el extremo inferior bajo un ángulo de  $43^\circ$ . Si la colina tiene una altura de 120 metros, calcula la altura de la antena.



Se calcula el lado c:

$$\operatorname{sen} 43^\circ = \frac{120}{c} \Rightarrow c = \frac{120}{\operatorname{sen} 43^\circ} = 175,95 \text{ m}$$

Ahora se procede igual que antes:

$$\text{Se calcula el ángulo } \hat{C} = 180^\circ - \hat{A} - \hat{B} = 180^\circ - 7^\circ - 133^\circ = 40^\circ$$

Finalmente, se calcula h, aplicando el teorema del seno:

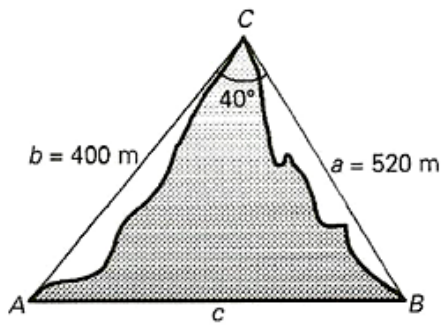
$$\frac{c}{\operatorname{sen} \hat{C}} = \frac{h}{\operatorname{sen} \hat{A}} \Rightarrow h = \frac{c \cdot \operatorname{sen} \hat{A}}{\operatorname{sen} \hat{C}} = \frac{175,95 \cdot \operatorname{sen} 7^\circ}{\operatorname{sen} 40^\circ} = 33,36 \text{ m}$$

También se puede hacer aplicando el método de la doble observación:

$$\operatorname{tg} 43^\circ = \frac{120}{x} \Rightarrow x = \frac{120}{\operatorname{tg} 43^\circ}$$

$$\operatorname{tg} 50^\circ = \frac{120 + h}{x} \Rightarrow h = x \cdot \operatorname{tg} 50^\circ - 120 = \frac{120}{\operatorname{tg} 43^\circ} \cdot \operatorname{tg} 50^\circ - 120 = 33,36 \text{ m}$$

5.- Hallar la distancia  $c = AB$

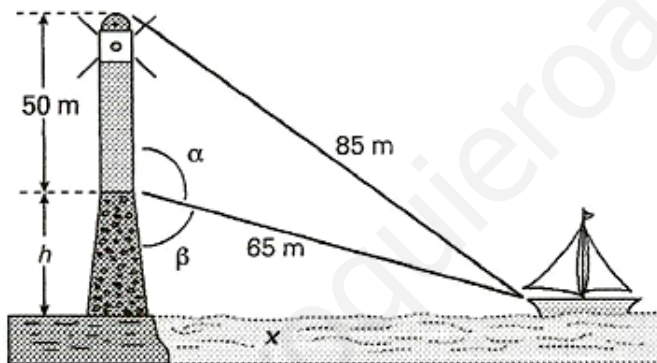


Aplicando el teorema del coseno

$$c^2 = a^2 + b^2 - 2 \cdot a \cdot b \cdot \cos \hat{C}$$

$$c = \sqrt{a^2 + b^2 - 2 \cdot a \cdot b \cdot \cos \hat{C}} = \sqrt{520^2 + 400^2 - 2 \cdot 520 \cdot 400 \cdot \cos 40^\circ} = 334,28 \text{ m}$$

6.- Hallar la altura  $h$  del promontorio.



Se calcula  $\alpha$  (aplicando el teorema del coseno)

$$c^2 = a^2 + b^2 - 2 \cdot a \cdot b \cdot \cos \hat{C} \Rightarrow \cos \hat{C} = \frac{a^2 + b^2 - c^2}{2 \cdot a \cdot b}$$

$$\cos \alpha = \frac{a^2 + b^2 - c^2}{2 \cdot a \cdot b} = \frac{50^2 + 65^2 - 85^2}{2 \cdot 50 \cdot 65} = -0,076923 \Rightarrow \alpha = 94^\circ 24' 42''$$

Se calcula  $\beta = 180^\circ - \alpha$

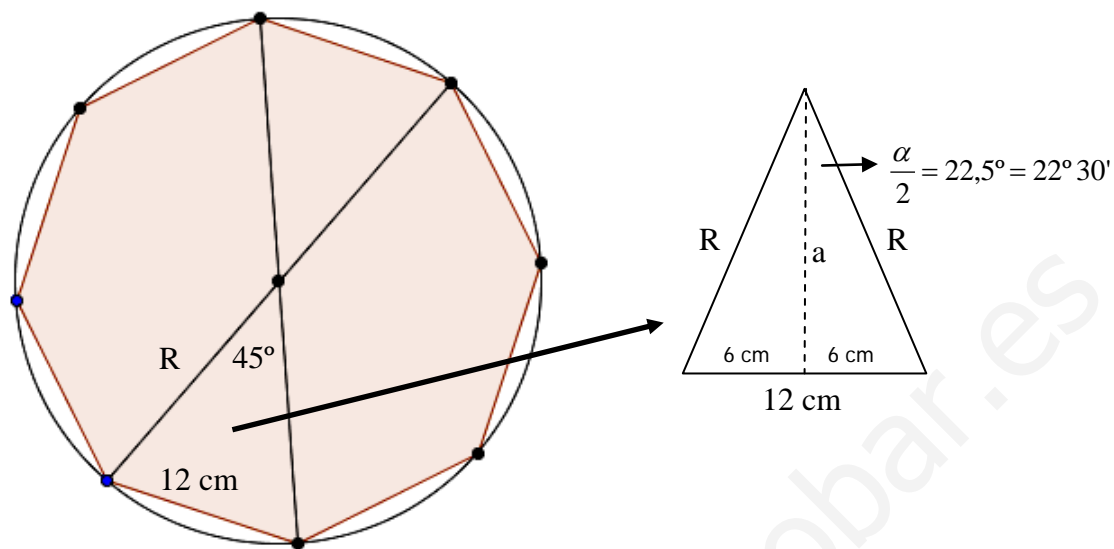
$$\beta = 180^\circ - 94^\circ 24' 42'' = 85^\circ 35' 18''$$

Se calcula  $h = 65 \cdot \cos \beta$

$$h = 65 \cdot \cos 85^\circ 35' 18'' \approx 5 \text{ m}$$

7.- Sabiendo que la longitud del lado de un octógono regular es 12 cm. Determina:

- El radio de la circunferencia circunscrita.
- El área del octógono.



Se halla el ángulo central:  $\alpha = \frac{360^\circ}{n}$

$$\alpha = \frac{360^\circ}{8} = 45^\circ \Rightarrow \frac{\alpha}{2} = 22,5^\circ = 22^\circ 30'$$

Calculamos R:

$$\text{sen} \frac{\alpha}{2} = \frac{6}{R} \Rightarrow R = \frac{6}{\text{sen} 22^\circ 30'} = 15,68 \text{ cm}$$

Para hallar el área necesitamos calcular previamente la apotema:

$$\text{tg} 22^\circ 30' = \frac{6}{a} \Rightarrow a = \frac{6}{\text{tg} 22^\circ 30'} = 14,49 \text{ cm}$$

$$A = \frac{P \cdot a}{2} = \frac{8 \cdot 12 \cdot 14,49}{2} = 695,52 \text{ cm}^2$$

Nota: Se puede hacer de varias formas (explicar en clase)

¿Cómo se halla el ángulo interno en un polígono regular de n lados?

$$\beta = \frac{180^\circ \cdot (n - 2)}{n}$$