

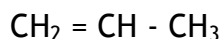
TEMA 3. FORMULACIÓN ORGÁNICA - EJERCICIOS

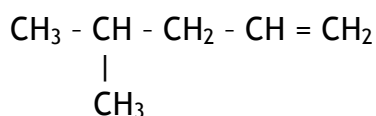
2. Hidrocarburos

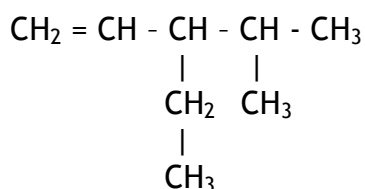
2.2. Hidrocarburos no saturados

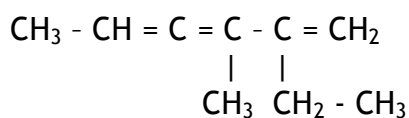
2.2.1. Alquenos

1. Nombra los siguientes compuestos









2. Formula los siguientes compuestos

3-hepteno

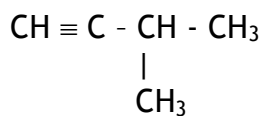
2,4-dimetil 3-hexeno

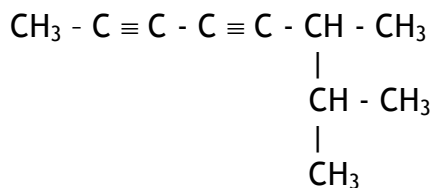
2-isopropil, 4,4-dimetil, 2, 5-heptadieno

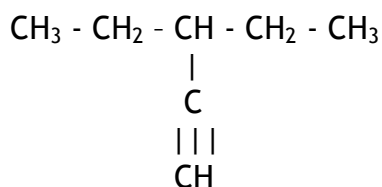
2,3-dimetil 2-buteno

2.2.2. Alquinos

3. Nombra los siguientes compuestos







4. Formula los siguientes compuestos

2,5-heptadiino

4-metil, 5-propil, 2,6-octadiino

4-(1-propinil), 5-ino, 2-hepteno

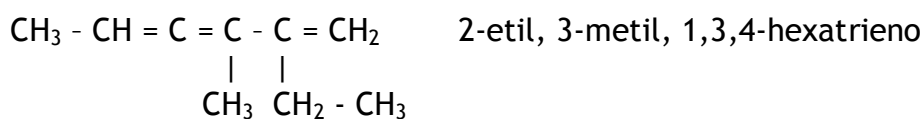
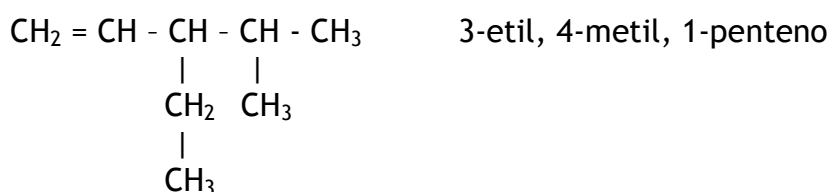
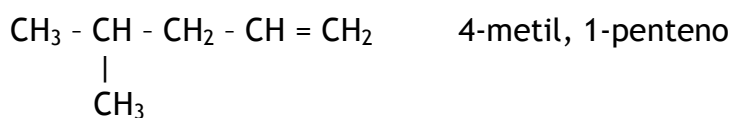
TEMA 3. FORMULACIÓN ORGÁNICA - EJERCICIOS

2. Hidrocarburos

2.2. Hidrocarburos no saturados

2.2.1. Alquenos

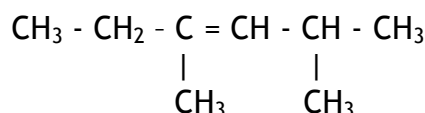
1. Nombra los siguientes compuestos



2. Formula los siguientes compuestos

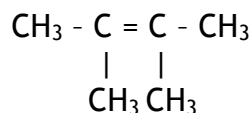
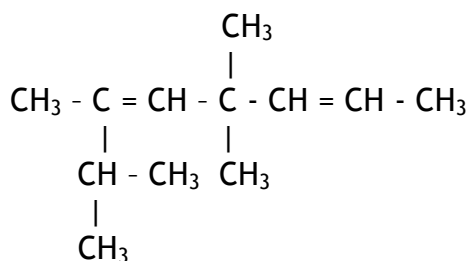
3-hepteno

2,4-dimetil 3-hexeno



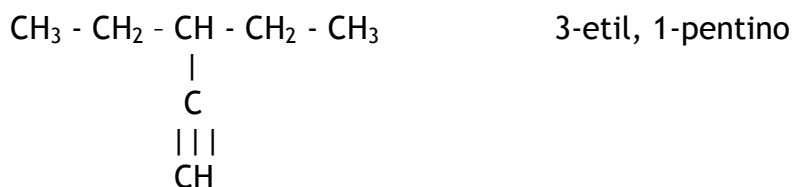
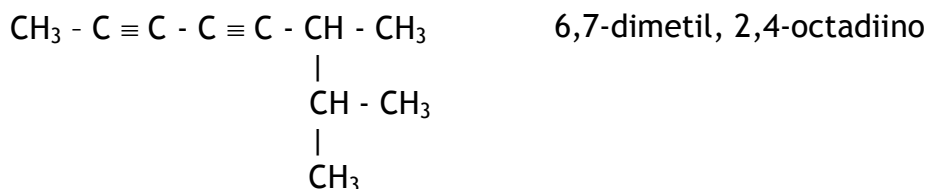
2-isopropil, 4,4-dimetil, 2, 5-heptadieno

2,3-dimetil 2-buteno



2.2.2. Alquinos

3. Nombra los siguientes compuestos



4. Formula los siguientes compuestos

2,5-heptadiino 4-metil, 5-propil, 2,6-octadiino



4-(1-propinil), 5-ino, 2-hepteno

