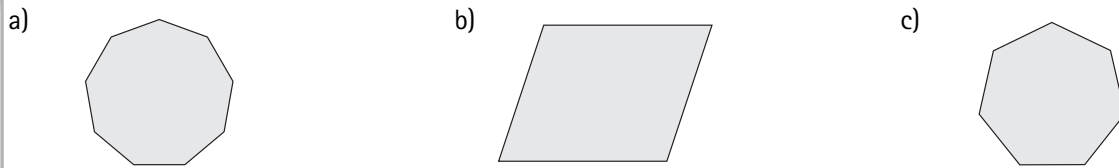


ACTIVIDADES

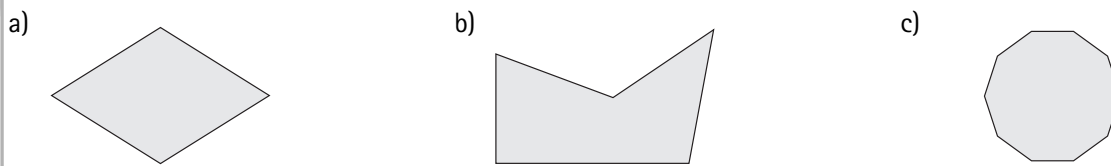
1 Dibuja las siguientes figuras planas.

- a) Un paralelogramo regular.
- b) Un triángulo rectángulo isósceles.
- c) Un hexágono cóncavo.

2 ¿En cuántos triángulos se pueden descomponer los siguientes polígonos?



3 Calcula la suma de los ángulos interiores de las figuras planas.



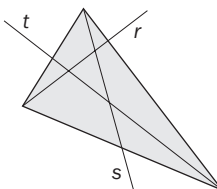
4 Razona si son iguales o no las siguientes parejas de polígonos.



5 Utiliza los criterios de igualdad adecuados para estudiar si son iguales los triángulos.



6 ¿Qué nombre reciben las rectas r , s y t que están dibujadas en el triángulo?



7 Dibuja una circunferencia que pase por los tres vértices del triángulo ABC .

