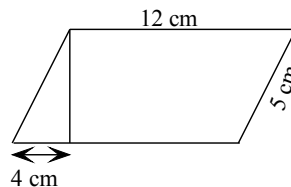
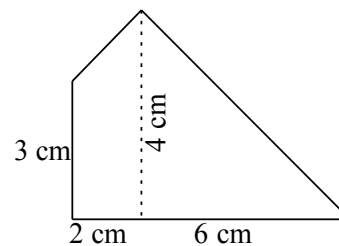
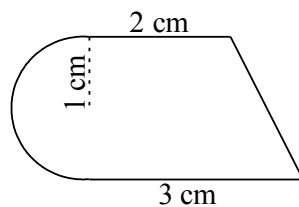


Nombre: _____

1. Calcula la diagonal y el perímetro de un rectángulo de lados 12 y 10 cm. (1p)
2. Calcula el área de una iglesia templaria con planta en forma de octógono regular, si el lado mide 6 metros y el radio 5 metros. (1p)
3. Queremos comprar un toldo para cubrir un patio que tiene forma de rombo, con diagonales de 6,8 m y 4,3 m. Si el metro cuadrado de toldo nos sale a 30 € ¿Cuánto nos costará?(1p)
4. Calcula el área de los siguientes dos círculos sabiendo: (1.5p)
 - a) Su diámetro es 3 cm.
 - b) Su perímetro es de 100,53 cm.
5. Calcula el área y el perímetro de la siguiente figura: (1.5p)



6. Calcula el área de las siguientes figuras: (2p)



7. Calcula el área de la zona sombreada: (2p)

