
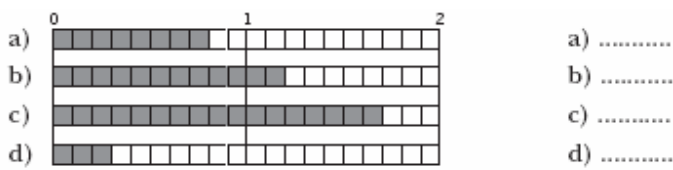


31089



LOS NÚMEROS DECIMALES (Unidad 5 Ficha 1)	
APELLIDOS Y NOMBRE _____	
NIVEL _____	FECHA _____

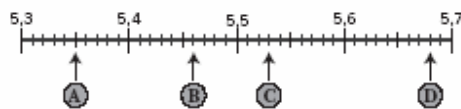
1. ¿Qué número se ha representado en cada regleta?



2. Escribe con cifras.

- a) Dos unidades y cinco décimas: .....
- b) Cuatro décimas:.....
- c) Tres unidades y una décima:.....

3. ¿Qué número representa cada letra?



A → .....      B → .....      C → .....      D → .....

4. Escribe cómo se leen los siguientes números.

13,406:.....

0,023 :.....

1,045 :.....

6. Pasa a céntimos.

- |                  |                  |                   |
|------------------|------------------|-------------------|
| a) 0,45 €: ..... | b) 2,07 €: ..... | c) 0,08 €: .....  |
| d) 5,27 €: ..... | e) 12,5 €: ..... | f) 10,30 €: ..... |