

2º ESO -PRÁCTICA PARA EXAMEN

1-Rodea con un círculo la letra de las frases que sean correctas. Pon atención.

A-Los ostrogodos invadieron Roma.

B-Los suevos se asentaron en el sureste de la Península Ibérica.

C-Los visigodos se asentaron primero en la Galia y después en la Península Ibérica.

D-Los burgundios ocuparon la zona de Borgoña francesa y Suíza..

E-Los vándalos fueron expulsados por los francos al norte de la Galia.

2-El último emperador de Roma fue....., Fue derrotado en el año por

3- Un noble franco, llamado venció a los musulmanes en la batalla de, impidiendo así el avance del Islam por Europa. Su nieto, llamado, coronado emperador en el año.....,se propuso como objetivo político.....

4-Bizancio fue.....

5- El Imperio Bizantino tuvo su máximo apogeo en el siglo..... durante el reinado de, cuyos principales logros fueron.....

6-El Cisma de Oriente tuvo lugar en el siglo..... y se produjo debido a.....

7-Completa el siguiente cuadro que se refiere al arte Bizantino:

MATERIALES	PLANTA/NAVES	ARCOS/COLUMN	BÓVEDAS	DECORACIÓN

COLEGIO FUNDACIÓN SANTAMARCA

ALUMNO:

CIENCIAS SOCIALES 2º ESO

1ª EVALUACIÓN

FECHA:

1-El creador del Islam fue....., nacido en.....

Fue perseguido y tuvo que huir. A esa huida de la conoce como.....

En el año

2- Islam quiere decir.....

A sus seguidores se les llama....., que significa.....

3-Los que siguen esta fe, se guían por un libro, llamado.....A los que sólo

siguen el libro sagrado se les conoce como..... Y a los que siguen además

la..... se les denomina.....

4-Escribe aquí los **principales preceptos** del Islam y algunas otras normas:

1-
2-
3-
4-
5-
6-
7-
8-
9-

5-Las etapas de la expansión musulmana fueron tres:

ETAPA	TERRITORIOS	CAPITAL

6-La máxima autoridad dentro del Islam era, que tenía los poderes.....

7-El imperio se dividía en.....

8- La sociedad islámica estaba dividida en grupos sociales, que son:

9-Las principales innovaciones que introdujeron los musulmanes fueron.....

10-Una **Mezquita** era

Y sus principales características son:

11-Define brevemente:

VISIR-

ZOCO-

KAABA-

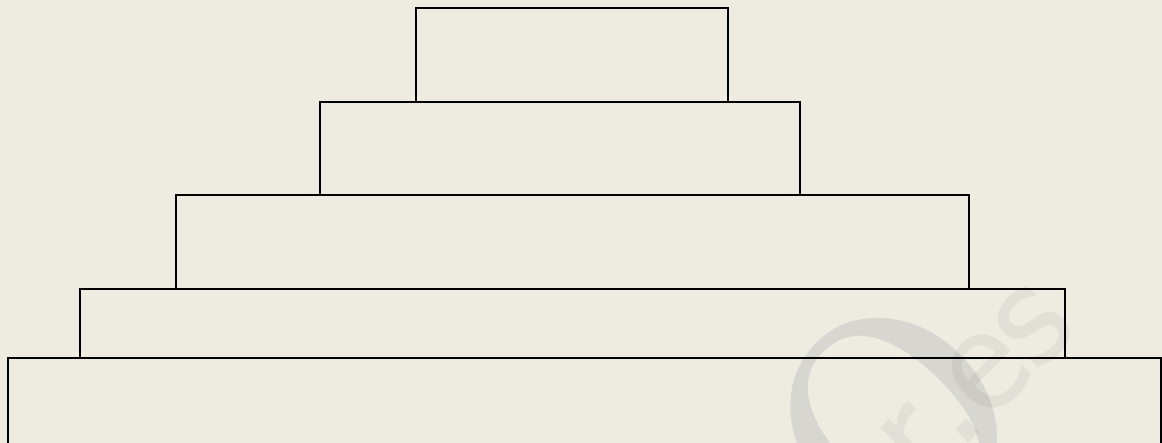
MADRAZA-

12-Llamamos **feudalismo** a

13-Tiene su origen en.....

14- Describe la relación de **vasallaje**. ¿De cuántos elementos se componía?

15-Imagina que la siguiente tabla es una pirámide social. Escribe en cada espacio los que pertenecerían a cada grupo por nacimiento:



16-Un señorío , llamadoestaba dividido en:

17-¿Qué poderes tenía el rey?


18-¿Quiénes eran los caballeros?

19-Una mesnada era.....

20-El clero se dividía en:

21- ¿Cómo vivían los campesinos? ¿Cómo se les llamaba?

22- Comenta todo lo que sepas de la siguiente fotografías y señala sus elementos:



PRÁCTICA 2º ESO

6- Completa este cuadro sobre el arte **Gótico** con sus características:

Planta	Materiales	Muros, Torres.	Columnas	Arcos, Bóvedas.

7-¿Qué fueron las Cruzadas?.¿Quiénes participaron?

8-Explica quiénes trabajaban en un taller artesano .¿Qué era un gremio?

9-Las nuevas ciudades a partir del s. XIII, se llaman..... y su origen es.....

Los habitantes de estas ciudades se llaman y se dedican principalmente a.....

10-Los principales problemas que afectaron a la población de la Edad Media fueron.....

11-De las siguientes características, señala las que son propias del Arte Hispano- árabe:

A-Los muros son gruesos con pocas ventanas

E-Sus arcos son de herradura.

B-Utiliza bóvedas nervadas.

F-Sus arcos son ojivales y conopiales.

C-Decoran las paredes con mocárabes y cerámicas.

G-Tienen pináculos en las torres.

D-Utiliza bóveda de cañón.

H-El material más usado es el ladrillo.

12-Los musulmanes llegaron a la Península Ibérica en el año..... al mando de

Y vencieron al rey visigodo..... en la batalla de.....

13- Aunque los musulmanes sólo tardaron..... años en dominar la Península, los cristianos tardaron..... en reconquistarla.

14-Explica cuándo y dónde comenzó la Reconquista.

15-La sociedad hispano- musulmana estaba compuesta por los siguientes grupos sociales:

16-¿Qué son las Taifas?

17-Los primeros Reinos cristianos de la Península fueron.....

CIENCIAS SOCIALES 2º ESO PRÁCTICA

1- Los principales hechos históricos acaecidos durante el reinado de los Reyes Católicos fueron.....


2- ¿Qué dificultades se encontró Isabel para acceder al trono? ¿A quién sucedió en la corona?

3- Dibuja un árbol genealógico sencillo de Isabel y Fernando. ¿Cuántos hijos tuvieron?

4- ¿A qué llamamos Política matrimonial de Fernando el Católico?

5- ¿Cómo afirmaron los Reyes Católicos su autoridad en sus reinos?

6. Habla de la figura de Cristóbal Colón



Retrato de Cristóbal Colón

7- ¿Cuántos viajes hizo?

Resume el primero:

- Salida.
- Barcos.
- Ruta seguida.
- Dificultades encontradas.
- Llegada.

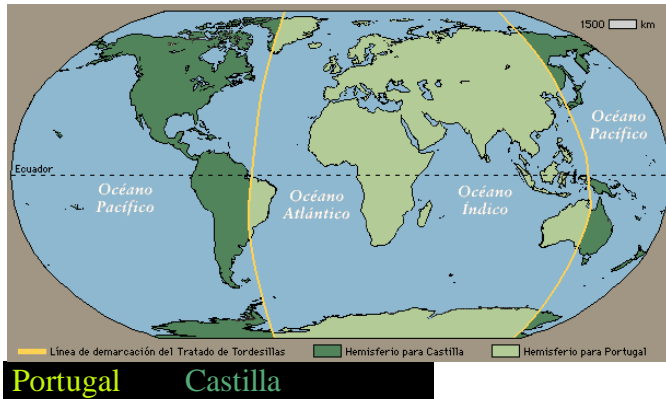
8- ¿A qué llamamos Capitulaciones de Santa Fe?

9- ¿Quién era Boabdil?

10- ¿Quiénes eran los moriscos?

11- Explica qué fue la Inquisición.

12-¿Qué se firmó en el famoso Tratado de Tordesillas?



13- Nombra los principales navegantes portugueses y qué viajes realizaron.

14- El primer viaje de vuelta al Mundo. Resume lo principal:

- Salida desde.....
 - ¿Cuántas naves y hombres?
 - Al mando de.....
 - Ruta que siguieron...
 - Dificultades encontradas.
 - Llegada bajo el mando de..... con.....barcos yhombres.
- 15-¿Quién fue Lutero? ¿Qué propuso?

16- Principales diferencias entre el Luteranismo y el Catolicismo. Utiliza una tabla como ésta:

	LUTERANISMO	CATOLICISMO
SACRAMENTOS		
CREENCIAS		
BIBLIA		
CULTO		
PAÍSES		

17-La Iglesia de Roma combatió la Reforma luterana por medio de.....



Retrato de Carlos V

18-¿Qué acuerdos se tomaron en Trento?

19--¿Quiénes fueron los reyes de la Casa de Austria en España?

20- ¿Qué territorios heredó Carlos V de sus abuelos?

21--Sintetiza los principales conflictos internos y externos que marcaron la política de Carlos V.

POLÍTICA INTERIOR	POLÍTICA EXTERIOR

22- Carlos se caso con.....
¿Tuvo su esposa algún papel destacado?

23- Carlos V tuvo un destacado rival en Europa. Su nombre era.....

24-- Habla de las principales culturas precolombinas y dónde estaban asentadas.

25- En tiempos de Carlos se descubrió México.
-¿Quién lo descubrió?
-Habla de esta conquista.

26-¿Por medio de qué organismos e instituciones se gobernaban los territorios americanos?

27-¿Qué era la Mita?

28--¿En qué guerras y conflictos y contra quién tuvo que intervenir Felipe II?

POLÍTICA INTERIOR	POLÍTICA EXTERIOR



Retrato de Felipe II

29-¿Sabes quién fue Don Juan de Austria?

30- ¿Quién conquistó Perú?

31- La sociedad colonial durante los siglos XVI y XVII estaba formada por.....

32. ¿A qué se dedicaban los que vivían en las colonias americanas?

Escudo de Tenochtitlán



Define:

TENOCHTITLÁN-

ATAHUALPA-

JUANA I-

HIJOS DE JUANA I Y FELIPE EL HERMOSO DE BORGONA
Leonor (1498) . Fue reina de Portugal y en segundas nupcias reina de Francia.
Carlos (1500) . Emperador Carlos I de España y V de Alemania.
Isabel (1501) . Reina de Dinamarca
Fernando (1503) . Emperador de Alemania
María (1505) . Reina de Hungría y Bohemia
Catalina (1507) . Reina y regente de Portugal.



*Antiguo Palacio de Tordesillas
(hoy desaparecido) Donde vivió
Juana I*



*Casas donde se firmó el Tratado de
Tordesillas*

GONZALO FERNANDEZ DE CÓRDOBA-

CONCORDIA DE SEGOVIA-

TAÍNOS-

NÚÑEZ DE BALBOA-

MARÍA TUDOR-

LEPANTO-

JUAN BRAVO-

JUAN SEBASTIÁN ELCANO-

2º ESO- PRÁCTICA REPASO

Contesta a las siguientes preguntas y después comprueba tus respuestas:

1-El Imperio Romano de Occidente cayó debido a
en el año..... En cambio, el de Oriente pervivió y se le conoce con el nombre de
..... con capital en Duró hasta.....

Su momento de máximo esplendor coincidió con el reinado de.....

2-¿Quién creó el Islam? ¿Dónde? ¿ En qué fechas?.....

-Los principales preceptos del Islam son.....

3-Las principales etapas de expansión del Islam fueron:

ETAPA	CAPITAL

4-¿Cuáles eran las edificaciones más usuales de los musulmanes? ¿Qué elementos arquitectónicos utilizaban más frecuentemente?

5-Un feudo es.....

Estaba habitado por una sociedad estamental compuesta por.....

6-¿Qué entiendes por relación de vasallaje? ¿En qué partes estaba dividida?

7-Explica qué es *el clero regular* y *el clero secular*.

8--Los musulmanes llegaron a la Península Ibérica en el año..... al mando deY vencieron el rey visigodo..... en el batalla de.....

Tardaron.....años en conquistar la península, a la que dieron el nombre de.....

9-En la evolución política de la Hispania musulmana, se pueden distinguir las siguientes etapas hasta el s. XV:

10-La sociedad de Al-Ándalus estaba formada por:

11- La Reconquista comenzó en....., cuando los astures visigodos, al mando de vencieron a los musulmanes en la batalla conocida como....., cerca de Esta Reconquista duró..... Y terminó en el año.....

12-Los primeros Reinos cristianos de la Península fueron.....

13- Las nuevas ciudades a partir del s. XIII, se llaman..... y los habitantes son..... que conviven con otro grupo social,..... que habitaban barrios separados, llamados..... y se dedicaban a.....

14- Compara los elementos del arte Románico con los del Gótico:

	ROMÁNICO	GÓTICO
SIGLOS		
MATERIALES		
PLANTA /NAVES		
ARCOS		
BÓVEDAS		
DECORACIÓN		

15-Explica quiénes trabajaban en un taller artesano. ¿Qué era un gremio?

16-¿Qué territorios llegó a tener la Corona de Aragón en el s. XV?

17- Explica qué era la MESTA.

18-Para conseguir un estado moderno, los Reyes Católicos crearon una serie de organismos.....

19-Nombra los reyes de la Casa de Austria en España.

20- Contrasta la Reforma con la Contrarreforma:

	REFORMA	CONTRARREFORMA
PRINCIPIOS		
SACRAMENTOS		
CULTO		
BIBLIA		
SACERDOCIO		

21-El Tratado de Tordesillas.

22;¿Qué problemas de política exterior tuvo que afrontar Felipe II?

23-Después del descubrimiento de América por..... en el año.....,
.....y dieron la Primera Vuelta al Mundo.

Por su parte,..... Conquistó México y
Conquistó Perú.

24-Llamamos *densidad de población* a.....

25-Las áreas más pobladas del planeta son.....

26-Resume cómo sería el modelo demográfico de un país poco desarrollado.

27-Explica cómo sería la pirámide de población de España. Puedes dibujarla.

28-Define *Ciudad* :

2º ESO- PRÁCTICA 6.

1-Rellena el siguiente mapa con las comunidades Autónomas de España.

-¿Cuáles son sus capitales?

-¿Cuántas provincias tiene cada una?

2-Escribe el nombre de las provincias de España.

-¿Cuáles son sus capitales?

PARA SABER MÁS...

Investiga:

-¿Sabrías decir qué ríos importantes pasan por las Comunidades autónomas y por alguna de sus capitales?

-¿Sabrías decir alguna otra población de cada provincia?

