

ACTIVIDADES DE REPASO

1-Calcula el tiempo que duraron los Imperios romanos de oriente y occidente.

2-¿Qué originó la caída del Imperio Romano de Occidente? ¿Cuál era su capital?

3-¿Qué periodo histórico se extiende desde el 476 hasta 1453?

4-El emperador romano que dividió el imperio en dos partes fue:

a-Trajano.

b-Teodosio.

c-Constantino.

d-Justiniano.

5-Completa el siguiente cuadro:

El emperador..... divide el imperio romano en:	
Imperio romano de.....	Imperio romano de.....
Capital	Capital
Fecha de su caída.....	Fecha de su caída

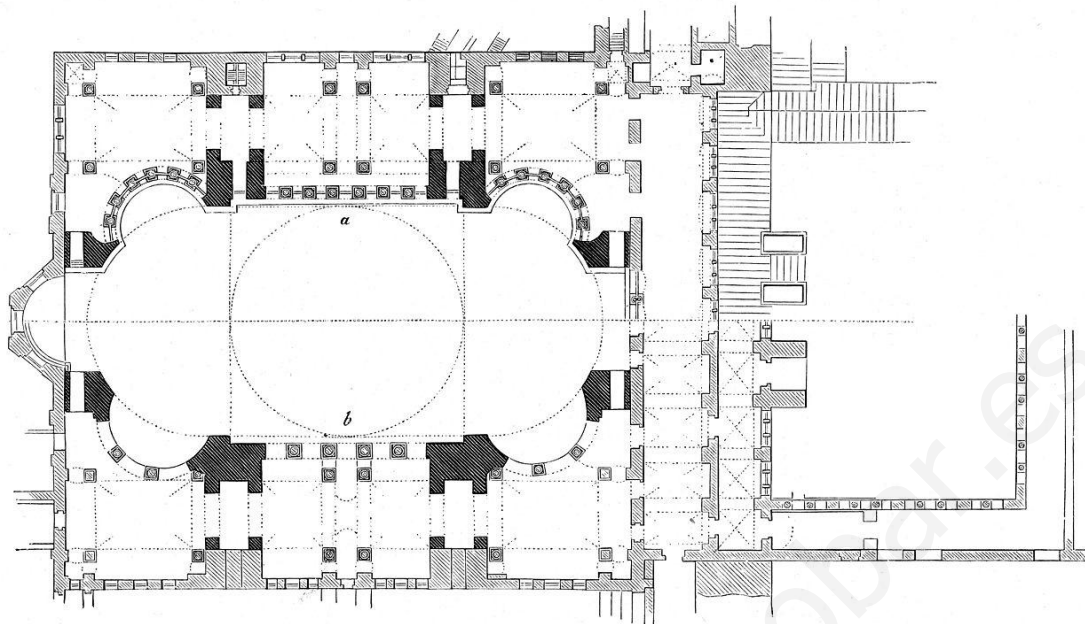
6-Explica de dónde viene la denominación de Imperio Bizantino.

7-¿En qué siglo alcanzó el Imperio Bizantino su mayor esplendor?

8-¿Cómo se gobernaba? ¿Quién era su emperador en esas fechas?

9-¿Recuerdas cómo estaba organizada la sociedad?

10- El siguiente plano corresponde a la iglesia de Santa Sofía. ¿Sabrías describirlo?



9-Describe el interior de Santa Sofía y explica sus características más destacadas.



Blank boxes for describing the interior of Hagia Sophia, with arrows pointing to specific features in the photograph above.

- Box 1: []
- Box 2: []
- Box 3: []
- Box 4: []
- Box 5: []
- Box 6: []
- Box 7: []

1-¿De dónde procede el nombre de Imperio Carolingio?



Retrato de Carlomagno

por Alberto Durero.

2-Observa el mapa de arriba. ¿Sabrías nombrar los países actuales que ocupaba el Imperio Carolingio?

3-Seguro que sabes cuál fue su capital.

4-Rellena los espacios:

Entre mediados del siglo VIII y finales del IX, en Europa se desarrolló el Imperio _____.

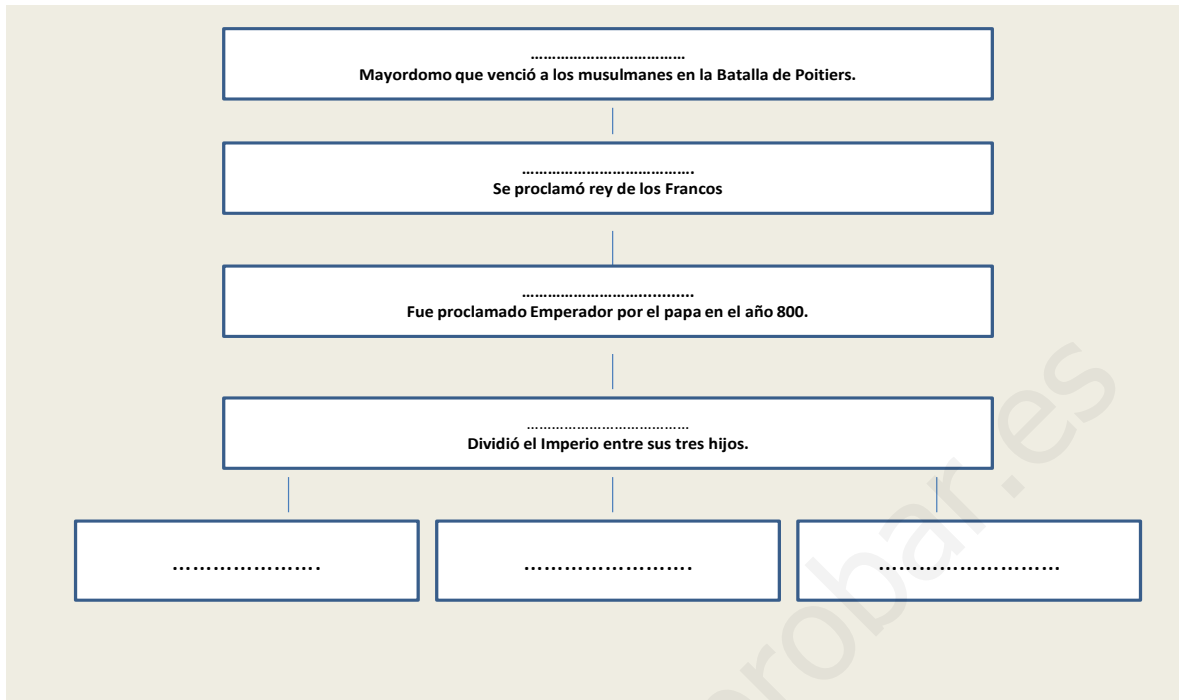
El artífice de este poderoso imperio fue el rey de los francos _____ que era hijo de _____ el Breve y nieto de _____ Martel.

Este Imperio llegó a ocupar las actuales Francia, Alemania, Italia y parte de Cataluña, y tuvo su capital en _____.

En el año _____ Carlomagno se hizo coronar emperador por el papa _____ III, el día de _____.

Cuando Luís el Piadoso murió, el Imperio carolingio se dividió en tres zonas, una para cada uno de sus _____ llamados _____. Este reparto se hizo en el conocido como Tratado de _____ año _____.

5-Completa el esquema con la genealogía de Carlomagno:



6-Escribe Verdadero o Falso:

1-En el Imperio carolingio, las actividades agrarias eran predominantes.	
2-La agricultura se realizaba en latifundios.	
3-Los latifundios se dividían en tantas partes como propietarios tuviese.	
4-La reserva señorial era una parte del latifundio.	
5-Las tierras de los mansos eran trabajadas por campesinos.	
6-Los tejidos y herramientas eran proporcionados por el comercio.	
7-Los siervos estaban sujetos a la tierra.	
8-Los cereales no constituían la base de la alimentación.	

7-Completa los espacios en blanco:

El arte carolingio tuvo influencia del arte clásico de _____ y Roma, al que se añadió un marcado carácter _____. En él, además se observan influencias del arte _____ e islámico.

En arquitectura, se construyeron: _____, monasterios y _____.

La arquitectura se caracteriza por: muros de sillería y _____, arcos de _____ planta basilical de _____ naves y crucero, cubiertas de _____.

Uno de los edificios más importantes es la capilla _____

En cuanto a la escultura, las obras son escasas, pero hay piezas realizadas en _____ de gran belleza. Destacan los mosaicos, las _____, y sobre todo, la _____ (labrado en oro, plata y metales preciosos).

1-Define los conceptos:

-Islam-

-Musulmanes-

-Corán-

2-Escribe los cinco preceptos religiosos de los musulmanes.

3-Indica si las siguientes frases son verdaderas o falsas:

1-El Islam nació en la Península de Arabia.	
2-Mahoma huyó de la Meca a Medina en el año 632.	
3-El año 622 se tomó como comienzo del calendario islámico.	
4-La expansión del imperio musulmán se hizo en cinco etapas.	
5-Los turcos compartieron el califato en 1055.	

4-Relaciona cada etapa con su capital:

A-Califato ortodoxo 1-Damasco

B-Califato omeya 2-Bagdad

C-Califato abasí 3-Medina

5-Aplicando la fórmula: Año cristiano – 622 calcula a qué años del calendario musulmán

0,97

Corresponderían las siguientes fechas cristianas:

-1212

-2014

6-Infórmate y cita al menos cinco países actuales donde más del 50% de la población sea de religión musulmana.

7-Escribe las fechas en que sucedieron los siguientes acontecimientos:

1-Nacimiento de Mahoma.

2-Hégira.

3-Conquista del Califato por los turcos.

4-Comienzo del Califato omeya.

5-Comienzo del califato abasí.

6-Invasión de la Península Ibérica.

8-Completa los espacios en blanco:

Las etapas del imperio musulmán fueron tres: _____,
_____ y _____

En la primera, a los sucesores de _____ se los elegía entre sus familiares y amigos.

En la segunda, gobernó la dinastía de los _____

En la tercera, gobernó la dinastía de los....., que trasladaron la capital a _____

9-Define brevemente:

-Califa-

-Visir-

-Koras-

-Cadíes-

10-Nombra las principales actividades económicas del mundo musulmán.

11- Observa la imagen y redacta un breve texto explicando qué es y para qué se utilizaba.



12-Completa el cuadro resumen:

Productos agrícolas introducidos por los musulmanes en occidente	
Artículos artesanos	
Principales productos con los que se comerciaba.	

13-Señala los elementos más importantes de la arquitectura musulmana:

Principales edificaciones	
Materiales	
Soportes y arcos	
Cúpulas	
Cubiertas	
Decoración interior	
Decoración exterior	

14-Completa los espacios en blanco:

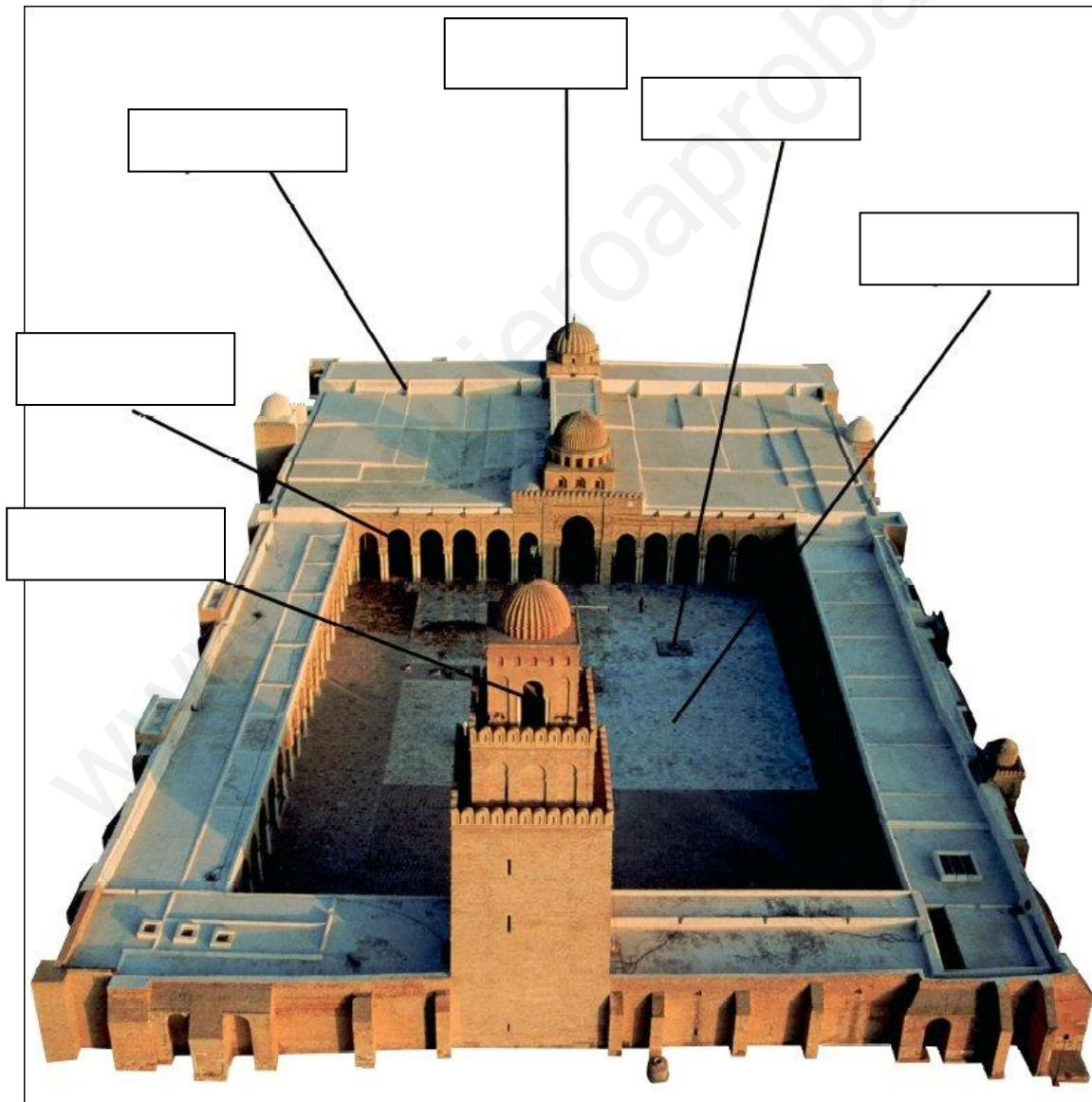
El patio de la mezquita está rodeado por un-----

En el patio se sitúan una -----, donde los fieles se lavan y purifican antes de orar, y una torre o -----, desde la que el ----- llama a los fieles a oración.

La ----- es un espacio cubierto. Uno de los muros, la -----

Se orienta hacia La Meca y contiene en el centro el -----, donde se guarda el Corán.

15- Escribe en las partes de una mezquita en su lugar correspondiente.



1-Define conceptos:

-Feudalismo.

-Feudo.

2-¿Entre qué siglos de la Edad Media se desarrolló el Feudalismo?

3-Calcula cuánto duró este régimen en Europa.

4-Explica por qué surgió el régimen feudal.

4-El feudo se dividía en:

5-Completa la definición con el término correcto:

-El territorio explotado directamente para el señor constituía la-----

-Las parcelas entregadas por el señor a los campesinos son los-----

-Los campesinos vivían en-----

6-Además había instalaciones y servicios comunes. Explica cuáles eran y a quién pertenecían.

¿Podían hacer uso de ellos de forma gratuita?

7-Explica los compromisos del pacto de vasallaje entre sus respectivos miembros. ¿A qué estaban obligados? Explícalo.



8-Escribe el nombre que corresponda en cada parte del feudo:



9-El territorio de la Europa feudal estaba dividido en numerosos reinos y estados independientes. Nombra algunos.

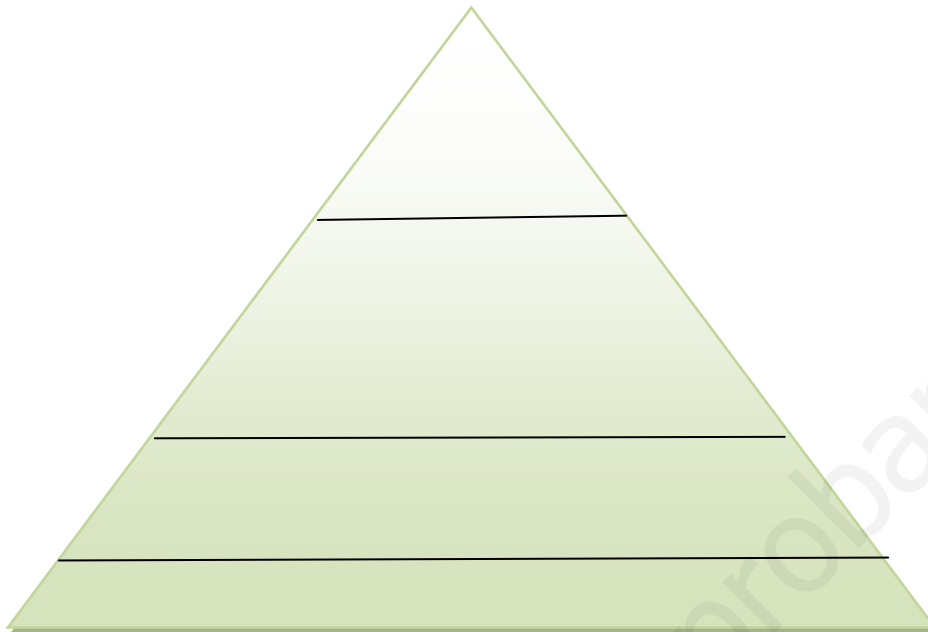
10-Define estamento.

11-Señala si es verdadero o falso:

1-En la época feudal todas las personas estaban unidas por lazos de dependencia.	
2-Las relaciones señoriales se establecían entre los campesinos.	
3-Entre el rey y los nobles no existía relación alguna de vasallaje.	

12- Completa la pirámide estamental de la Alta Edad Media. Coloca en ella los siguientes grupos:

Alto clero/bajo clero/campesinos/ caballeros/artesanos/ alta nobleza/ siervos/ rey/ villanos /



13-¿Cómo era el ejército de un reino?. ¿Quién lo controlaba? ¿Quiénes lo formaban?



14- Explica cómo era la vida de una dama. ¿Qué derechos tenía?



15. ¿Qué tipos de clero había?



16- ¿Cómo vivían los monjes? ¿A qué se dedicaban?

17- Sabrías explicar cómo vivían los campesinos?



18- Escribe en el lugar correspondiente las partes de un castillo medieval:

