

1 Lee el siguiente texto y responde a las cuestiones:

LOS GERMANOS

«Los alanos, vándalos y suevos entran en las Españas en el año 409. Los bárbaros las devastan en luchas sangrientas. Por su parte, la peste hace estragos rápidos. Reina un hambre tan espantosa que el género humano devora carne humana. Los bárbaros se reparten a suertes las provincias para establecerse en ellas: los vándalos y los suevos ocupan la Galicia; los alanos, la Lusitania y los vándalos, la Bética».

a) Di si las siguientes afirmaciones son verdaderas (V) o falsas (F):

Los alanos, vándalos y suevos eran pueblos bárbaros.

Los pueblos germanos llegaron a España en el siglo IV.

Los pueblos germanos recibían el nombre de bárbaros.

b) ¿Dónde se instalaron los pueblos que menciona el texto?

Los suevos se instalaron en

Los alanos se instalaron en

Los vándalos se instalaron en y en

c) En la actualidad ¿se usa el término «vándalo»? ¿Qué significa?

.....

2 Relaciona las definiciones:

- | | | | |
|------------|---|---|--|
| Bárbaros | • | • | Templo de los musulmanes. |
| Visigodos | • | • | Sistema económico, social y político de la Europa medieval. |
| Islam | • | • | Guerra de los cristianos y musulmanes para recuperar Jerusalén. |
| Mezquita | • | • | Religión fundada por Mahoma cuyo libro es el Corán. |
| Feudalismo | • | • | Nombre dado por los romanos a pueblos de fuera de sus fronteras. |
| Cruzadas | • | • | Epidemia que acabó con 1/3 de la población de Europa en 1348. |
| Peste | • | • | Pueblo bárbaro que ocupó la Península con capital en Toledo. |

3 Responde a estas preguntas:

a) ¿Qué son las Cruzadas?

.....

b) ¿Por qué se las llama así?

.....



4 Dibuja un mapa de España en tu cuaderno igual a este:



a) Dibuja una flecha roja que indique por dónde llegaron los bárbaros y explícalo.

.....

.....

.....

.....

.....

b) Dibuja una flecha azul que indique por dónde llegaron los musulmanes.

.....

c) ¿Por qué crees que los musulmanes llegaron por ese lugar y no por otro?

.....

5 Escribe una oración con cada una de estas palabras.

visigodos - musulmanes - torneo

.....

.....

.....

6 Ordena las siguientes frases para que tengan sentido:

a) de/ del/ descubrimiento/ el/ la/ con/ La/ romano/ terminó/ Imperio/ con/ América/ Media/ Edad/ y/ caída/ comenzó

.....

.....

b) tenían interés / antes del siglo XII / por saber / no / los nobles / leer y escribir

.....


.....

c) y / para llevar sus negocios / necesitaban saber escribir / los burgueses / hacer cálculos

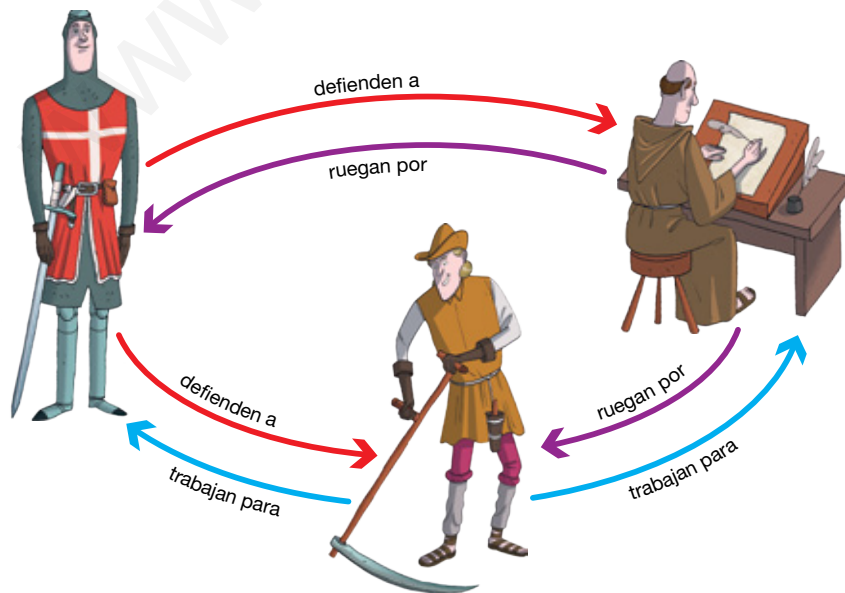
.....

.....

7 Investiga y descubre el nombre de cada una de las partes de una catedral gótica.



8 Observa y comenta este dibujo de la sociedad medieval, que está formada por estamentos. ¿Cuáles eran? ¿Quiénes los formaban? ¿Se podía pasar de uno a otro estamento?



.....

.....

.....

.....

.....

.....

.....

.....

.....

.....

9 Escribe el nombre de las principales iglesias de estilo románico que se pueden encontrar en el Camino de Santiago.

.....


.....

.....

.....

.....

10 ¿Qué sabes sobre los símbolos de los cristianos, musulmanes y judíos? Investiga sobre ellos, dibuja la cruz cristiana, la media luna musulmana y la estrella de David judía. ¿Encontrarías alguna bandera actual que tenga esos símbolos? Indica a qué país pertenece y dibújala con colores.



www.yoquieroaprobar.es

