

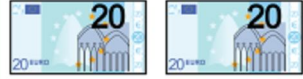


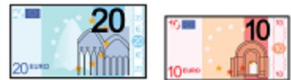


ANA	 €
NATALIA	 €
GLORIA	 €
DAVID	 €
QUIQUE	 €
FELIPE	 €

Cuenta el dinero que tiene cada uno , anótalo y después completa el siguiente gráfico:

40						
35						
30						
25						
20						
15						
10						
5						
	ANA	NATALIA	GLORIA	DAVID	QUIQUE	FELIPE

¿Quién tiene más?

¿Quién tiene menos?.....