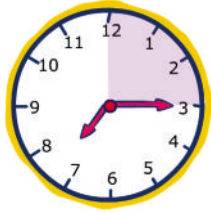


El reloj y las horas

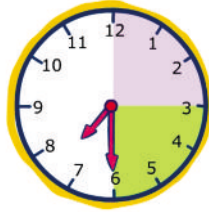
 Aprende.



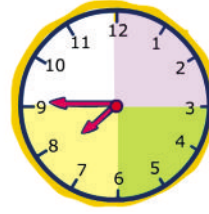
Son las 7
en punto




Son las 7
y cuarto



Son las 7
y media




Son las 8
menos cuarto



Son las 8
en punto

Una hora tiene cuatro cuartos de hora.
Media hora tiene dos cuartos de hora.


 Escribe la hora que marca cada reloj.










 Dibuja las agujas.



Las tres y cuarto

Las ocho y cuarto


Las dos menos cuarto

 Lee y dibuja las agujas.




Ha pasado media hora



 Une los relojes que marcan la misma hora.



 Dibuja esta hora en los dos relojes:

Las 7 y media

