


Resta de números de tres cifras

📶 Aprende.



$$\begin{array}{r}
 134 \leftarrow \text{Minuendo} \\
 - 113 \leftarrow \text{Sustraendo} \\
 \hline
 21 \leftarrow \text{Diferencia}
 \end{array}$$

Su puntuación final es de 21 puntos.

Para restar, escribimos el minuendo y debajo escribimos el sustraendo.
El resultado se llama diferencia.

📶 Coloca y resta.

Minuendo: 184
Sustraendo: 10

Diferencia:

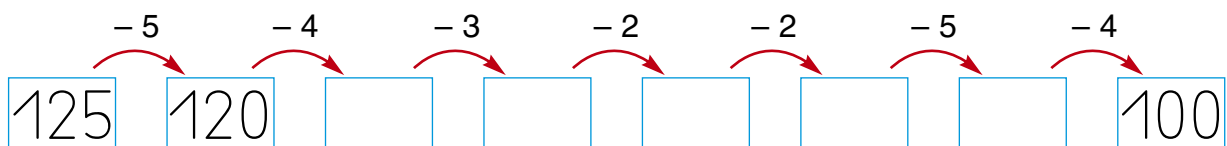
Minuendo: 276
Sustraendo: 146

Diferencia:

Minuendo: 269
Sustraendo: 235

Diferencia:

📶 Calcula




 Escribe el término que falta.

$$\begin{array}{r} 17 \\ - \square \\ \hline 16 \end{array}$$

$$\begin{array}{r} 23 \\ - \square \\ \hline 21 \end{array}$$

$$\begin{array}{r} \square \\ - 40 \\ \hline 28 \end{array}$$

$$\begin{array}{r} 97 \\ - \square \\ \hline 36 \end{array}$$

 Resta y ordena los resultados de mayor a menor.

$$\begin{array}{r} 167 \\ - 132 \\ \hline \square \end{array}$$

$$\begin{array}{r} 298 \\ - 146 \\ \hline \square \end{array}$$

$$\begin{array}{r} 157 \\ - 46 \\ \hline \square \end{array}$$

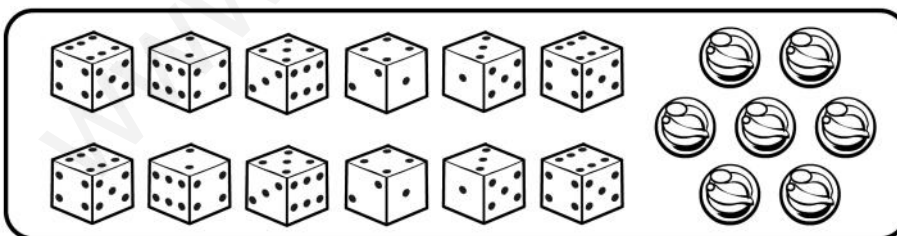
$$\begin{array}{r} 249 \\ - 113 \\ \hline \square \end{array}$$

$$\begin{array}{r} 185 \\ - 72 \\ \hline \square \end{array}$$

$$\begin{array}{r} 239 \\ - 218 \\ \hline \square \end{array}$$

$$\square > \square > \square > \square > \square > \square$$

 Cuenta, anota y resuelve.



Dados

Canicas

¿Qué hay más, dados o canicas?

$$\square \bigcirc \square = \square$$

Hay
 más.