

ACTIVIDADES: COMPARACIÓN Y ORDEN DE NÚMEROS MENORES A 1000

1. Encierra con un círculo azul los números mayores que 150 y con un círculo rojo los números menores que 150:

145	65	178	56	132	169	89
200	160	110	138	10	28	152
146	134	99	167	77	123	45

2. Ponle precio a cada artículo según lo que se indica:



Trapero

\$

Entre 500 y 750



Basurero

\$

Entre 400 y 900



Arbolito

\$

Entre 800 y 1000



Cuaderno de
papel reciclado

\$

Entre 400 y 600

3. Escribe un número según corresponda:

286 es menor que.....

567 es mayor que.....

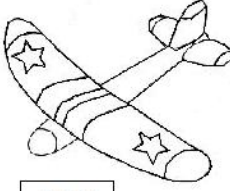





846 es igual que.....

917 es menor que.....

4. Escribe dos números distintos que puedas formar con los siguientes dígitos. Luego ordénalos de mayor a menor:

<div style="border: 1px solid black; padding: 5px; margin-bottom: 5px;">2, 5 y 6</div> <div style="border: 1px solid black; padding: 10px; min-height: 40px;"> y </div> <div style="margin-top: 10px;"> > </div>	<div style="border: 1px solid black; padding: 5px; margin-bottom: 5px;">4, 7 y 8</div> <div style="border: 1px solid black; padding: 10px; min-height: 40px;"> y </div> <div style="margin-top: 10px;"> > </div>
---	---

5. En una fábrica de juguetes se muestran los siguientes objetos con su precio:

					
\$ 599	\$ 852	\$ 525	\$ 670	\$ 678	\$ 985



Ordena los precios de menor a mayor:

.....

6. Ordena los precios de menor a mayor:

\$ 853	\$ 586	\$ 489	\$ 512	\$ 857	\$ 453
<	<	<	<	<	<

7. Pinta al niño que tiene menos dinero:



8. Completa tal como se indica:

Escribe un número que esté antes de:



Escribe un número que esté después de:



Escribe un número que esté justo antes de:



Escribe un número que esté justo después de:



Escribe un número que esté entre:

