






Nombre _____ Fecha _____

1 Calcula. Después, rodea de rojo las restas que den como resultado un número menor que 50.

$\begin{array}{r} 54 \\ - 24 \\ \hline \end{array}$ <input style="width: 40px; height: 30px; margin-left: auto; margin-right: auto;" type="text"/>	$\begin{array}{r} 62 \\ - 10 \\ \hline \end{array}$ <input style="width: 40px; height: 30px; margin-left: auto; margin-right: auto;" type="text"/>	$\begin{array}{r} 98 \\ - 37 \\ \hline \end{array}$ <input style="width: 40px; height: 30px; margin-left: auto; margin-right: auto;" type="text"/>	$\begin{array}{r} 76 \\ - 15 \\ \hline \end{array}$ <input style="width: 40px; height: 30px; margin-left: auto; margin-right: auto;" type="text"/>
$\begin{array}{r} 36 \\ - 13 \\ \hline \end{array}$ <input style="width: 40px; height: 30px; margin-left: auto; margin-right: auto;" type="text"/>	$\begin{array}{r} 84 \\ - 73 \\ \hline \end{array}$ <input style="width: 40px; height: 30px; margin-left: auto; margin-right: auto;" type="text"/>	$\begin{array}{r} 58 \\ - 32 \\ \hline \end{array}$ <input style="width: 40px; height: 30px; margin-left: auto; margin-right: auto;" type="text"/>	$\begin{array}{r} 98 \\ - 50 \\ \hline \end{array}$ <input style="width: 40px; height: 30px; margin-left: auto; margin-right: auto;" type="text"/>

2 Lee y escribe el dorsal de cada corredor. Después, completa.





63	91	34	49	69
Mi dorsal es mayor que 30 y menor que 40.	Mi dorsal está entre 40 y 50.	Yo tengo un dorsal con 9 decenas.	El mío es menor que 70 y tiene 3 unidades.	El mío es mayor que 60 y tiene 9 unidades.
				

- Los dorsales mayores que 50 ►
- Los dorsales menores que 50 ►
- Los cinco dorsales ordenados de menor a mayor.

34 ○ ○ ○ ○

Nombre _____ Fecha _____

1 Relaciona cada niño con el número de canicas que tiene.

<p>Tengo un poco más de 30 canicas.</p> 	<div style="border: 1px solid black; padding: 2px; width: 30px; margin: 5px auto;">38</div> <div style="border: 1px solid black; padding: 2px; width: 30px; margin: 5px auto;">27</div>	 <p>Tengo casi 30 canicas.</p>
<p>Tengo casi 40 canicas.</p> 	<div style="border: 1px solid black; padding: 2px; width: 30px; margin: 5px auto;">32</div> <div style="border: 1px solid black; padding: 2px; width: 30px; margin: 5px auto;">43</div>	 <p>Tengo un poco más de 40 canicas.</p>

2 Completa.

800 ►

C	D	U

 ► C = U

►













C	D	U

 ► C = U

3 Observa, escribe los números y calcula.

 ► Veintisiete  ► Treinta y ocho

 ► Treinta y cinco  ► Cincuenta y seis

 + 	 + 	 + 	 + 
<input style="width: 30px; height: 30px;" type="text"/>	<input style="width: 30px; height: 30px;" type="text"/>	<input style="width: 30px; height: 30px;" type="text"/>	<input style="width: 30px; height: 30px;" type="text"/>
 <input style="width: 30px; height: 30px;" type="text"/>	 <input style="width: 30px; height: 30px;" type="text"/>	 <input style="width: 30px; height: 30px;" type="text"/>	 <input style="width: 30px; height: 30px;" type="text"/>
<hr style="width: 100%;"/>	<hr style="width: 100%;"/>	<hr style="width: 100%;"/>	<hr style="width: 100%;"/>
<input style="width: 30px; height: 30px;" type="text"/>	<input style="width: 30px; height: 30px;" type="text"/>	<input style="width: 30px; height: 30px;" type="text"/>	<input style="width: 30px; height: 30px;" type="text"/>