




1. Suma.

9	6	7	6
5	8	7	9
<u>+4</u>	<u>+1</u>	<u>+3</u>	<u>+2</u>
<input type="text"/>	<input type="text"/>	<input type="text"/>	<input type="text"/>

2. Resta.

9	8	7	6
<u>-5</u>	<u>-2</u>	<u>-5</u>	<u>-3</u>
<input type="text"/>	<input type="text"/>	<input type="text"/>	<input type="text"/>

3. ¿Cuántos elefantes van en busca de comida?

	+		=	
<input type="text"/>		<input type="text"/>		<input type="text"/>

4. Completa.

Con 6 decenas y 4 unidades formamos el 64.

Con 5 decenas y 7 unidades formamos el

Con 2 decenas y 5 unidades formamos el

5. Completa con signos y con letras:

< (menor), > (mayor), = (igual)

El 16 es que el 35
 El 68 es que el 21
 El 30 es que el 30
 El 93 es que el 89

16 35
 68 21
 30 30
 93 89

6. Ordena de mayor a menor los siguientes números.

58 12 87 61

> > >

7. Completa las series y relaciona.

10 20 30

↓ veinte cuarenta sesenta setenta
 diez treinta cincuenta ochenta noventa

0 5 10

↓ diez veinte treinta treinta y cinco
 cero cinco quince veinticinco cuarenta