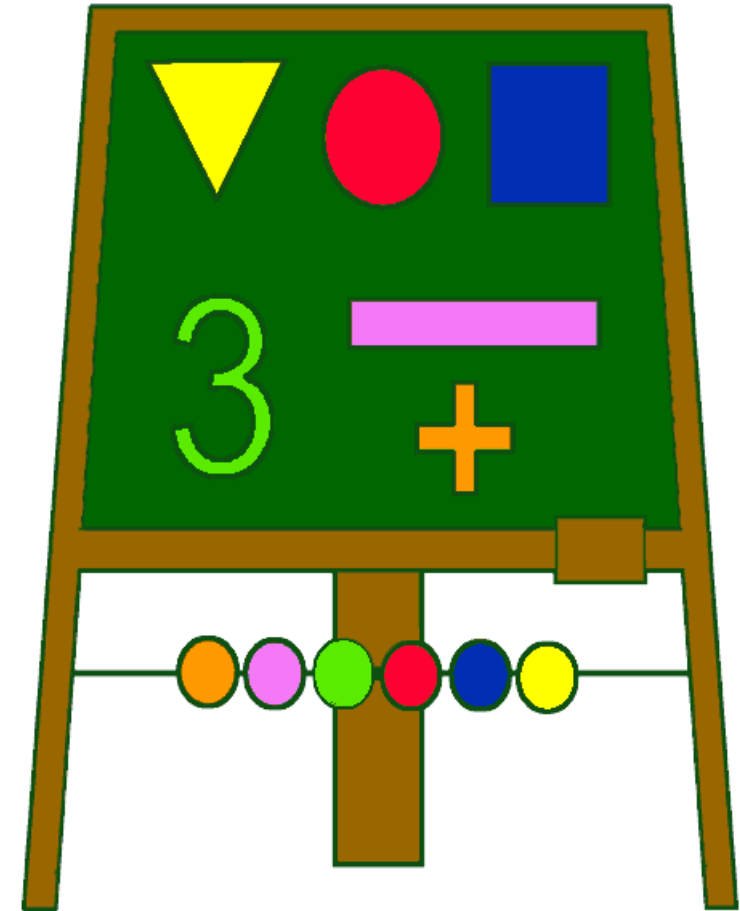


- \* Numeración con naturales
- \* Cálculo con naturales
  - sumas sin llevar
  - resta sin llevar
  - suma y resta sin llevar
  - suma llevándose y resta sin llevar
  - suma llevándose
  - resta llevándose
  - multiplicaciones
  - divisiones
  - sumas y restas
  - sumas, restas multiplicaciones
  - multiplicaciones y divisiones
  - sumas, restas, multiplicaciones y divisiones
- \* Numeración con decimales
- \* Cálculo con decimales
  - sumas
  - restas
  - multiplicaciones
  - divisiones
  - sumas y restas
  - sumas, restas multiplicaciones
  - multiplicaciones y divisiones
  - sumas, restas, multiplicaciones y divisiones
- \* Fracciones
- \* Problemas 1a, 1b, 1, 2, 3, 4, 5, 6 y 7

Nº serie.:pr7480 © Mariano Vindel del Hoyo 2004-2005

PROHIBIDA SU VENTA



Alumno.:

Problemas 1a

69.-Un agricultor ha plantado 12 perales, 6 manzanos y 24 naranjos.  
¿Cuántos árboles ha plantado?

SOLUCION \_\_\_\_\_

70.-Un armario tiene 126 libros de aventuras y 234 de miedo.  
¿Cuántos libros hay en el armario?

SOLUCION \_\_\_\_\_

71.-En una clase de 25 alumnos el martes faltaron cuatro. ¿Cuántos  
alumnos hubo en la clase?

SOLUCION \_\_\_\_\_

1.-Un libro tiene 45 páginas, si voy leyendo por la 23. ¿Cuántas me  
quedan por leer?

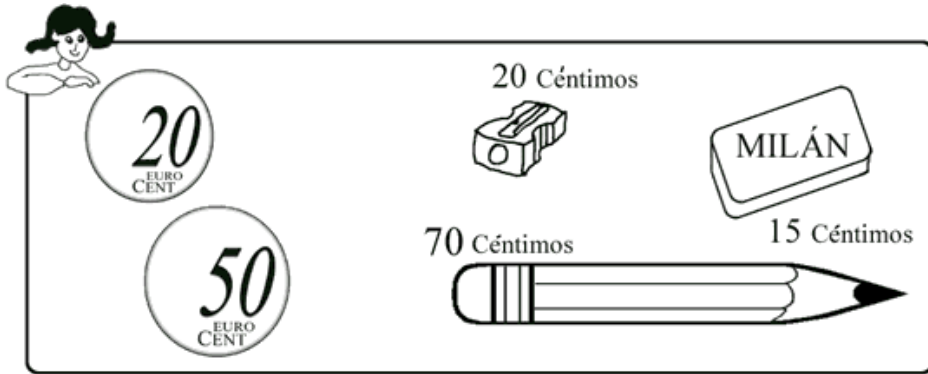
SOLUCION \_\_\_\_\_

2.-Juan tiene 123 cromos y Pepe 145. ¿Cuántos cromos tienen los  
dos juntos?

SOLUCION \_\_\_\_\_

3.-En un árbol hay 33 pájaros y un poco después solo quedan 21.  
¿Cuántos pájaros se han marchado?

SOLUCION \_\_\_\_\_



4.-¿Cuánto dinero tiene María?

SOLUCION \_\_\_\_\_

5.-¿Cuánto le sobra si se compra el lápiz?

SOLUCION \_\_\_\_\_

6.-¿Cuánto cuestan el sacapuntas y la goma?

SOLUCION \_\_\_\_\_

7.-¿Cuánto cuestan las 3 cosas?

SOLUCION \_\_\_\_\_

66.-Antonio está leyendo un cuento, ha leído 23 páginas y le faltan por leer 37. ¿Cuántas páginas tiene el cuento?

SOLUCION \_\_\_\_\_

67.-Tengo 134 canicas pero mi amigo me gana 23. ¿Cuántas me quedan?

SOLUCION \_\_\_\_\_

68.-Tengo una caja con 36 colores pero un amigo me pierde 5. ¿Cuántos colores me quedan?

SOLUCION \_\_\_\_\_



63.-¿Cuánto dinero tiene Carlos?

SOLUCION \_\_\_\_\_

64.-Si Carlos compra el boli. ¿Cuánto le sobra?

SOLUCION \_\_\_\_\_

65.-¿Cuánto cuesta todo lo que tiene María?

SOLUCION \_\_\_\_\_

8.-En clase hay 12 niños y 13 niñas. ¿Cuántos alumnos tiene el profesor?


SOLUCION \_\_\_\_\_

9.-En una clase hay 24 alumnos. Si 13 son niñas, ¿cuántos niños hay en la clase?

SOLUCION \_\_\_\_\_

10.-María tiene 8 años y su hermano es 3 años mayor. ¿Cuántos años tiene el hermano?

SOLUCION \_\_\_\_\_



11.-¿Cuántos puntos ha sacado Carlos?

SOLUCION \_\_\_\_\_

12.-¿Cuántos puntos ha sacado María?

SOLUCION \_\_\_\_\_

13.-¿Quién ha ganado?

SOLUCION \_\_\_\_\_

60.-Dos autobuses van de excursión, en uno van 23 niños y en otro 34, ¿cuántos niños van de excursión?

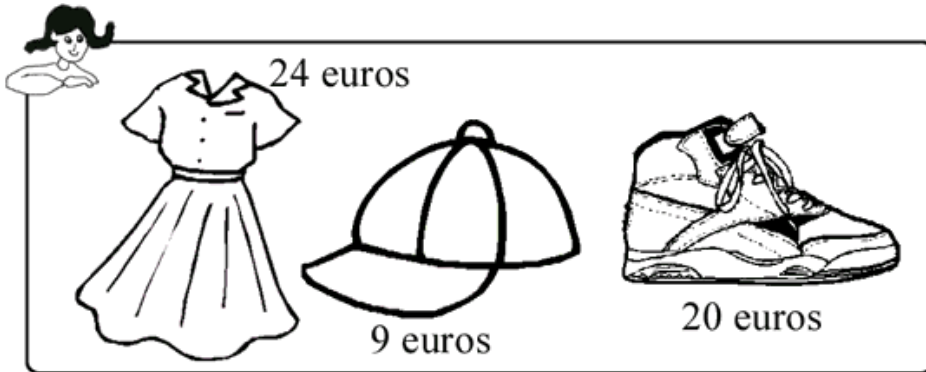
SOLUCION \_\_\_\_\_

61.-Un boli cuesta 87 céntimos y una goma 34 céntimos. ¿Cuánto cuesta más el boli que la goma?

SOLUCION \_\_\_\_\_

62.-Mi mamá ha gastado 9 euros en fruta, 12 en carne y 14 en pescado. ¿Cuántos euros ha gastado mi mamá?

SOLUCION \_\_\_\_\_



57.-¿Cuánto cuesta más el vestido que las zapatillas?

SOLUCION \_\_\_\_\_

58.-¿Cuánto cuestan las zapatillas y la gorra?

SOLUCION \_\_\_\_\_

59.-Si María tiene 47 euros y se compra el vestido. ¿Cuánto le sobra?

SOLUCION \_\_\_\_\_

14.-Mi mamá ha puesto en un jarrón 12 rosas y 15 claveles. ¿Cuántos claveles ha puesto en el jarrón?

SOLUCION \_\_\_\_\_

15.-Mi papá tiene 38 años. Si es 30 años mayor que yo. ¿Cuántos años tengo yo?

SOLUCION \_\_\_\_\_

16.-Luis tiene 3 bolsas de caramelos, en una tiene 15 de fresa, en otra 34 de menta y en otra 45 de naranja. ¿Cuántos caramelos tiene de fresa y naranja?

SOLUCION \_\_\_\_\_



Julio 2004						
L.	M	Mi	J	V	S	D
			1	2	3	4
5	6	7	8	9	10	11
12	13	14	15	16	17	18
19	20	21	22	23	24	25
26	27	28	29	30	31	



17.-A María le faltan 12 días para su cumpleaños. ¿Qué día es su cumpleaños?

SOLUCION \_\_\_\_\_

18.-Si cumple 12 años. ¿Cuántas velas le faltan a la tarta?

SOLUCION \_\_\_\_\_

54.-Si mi papá tiene 35 años y es tres años mayor que mi mamá. ¿Cuántos años tiene mi mamá?

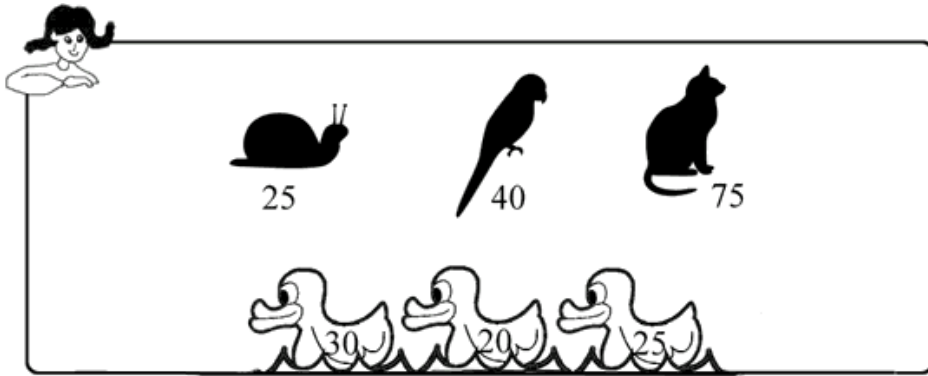
SOLUCION \_\_\_\_\_

55.-Los niños de la clase han traído para desayunar 8 manzanas, 12 plátanos y 9 bocadillos. ¿Cuántos niños han traído fruta?

SOLUCION \_\_\_\_\_

56.-Los niños de la clase tienen 7 años y el profesor 28. ¿Cuántos años es mayor el profesor que los niños?

SOLUCION \_\_\_\_\_



51.-María ha jugado en la feria a la pesca de patito y estos tres son los que ha conseguido. ¿Cuántos puntos ha sacado?

SOLUCION \_\_\_\_\_

52.-¿Qué regalo ha conseguido?

SOLUCION \_\_\_\_\_

53.-Si quiere el loro. ¿Cuántos puntos le sobran?

SOLUCION \_\_\_\_\_

19.-Luis tiene 167 cromos pero tiene 35 repetidos. ¿Cuántos tiene sin repetir?

SOLUCION \_\_\_\_\_


20.-En un autobús en el que caben 58 personas van 23 asientos vacíos. ¿Cuántas personas viajan en el autobús?

SOLUCION \_\_\_\_\_

21.-Un balón cuesta 19 euros y un coche catorce. ¿Cuánto cuesta más el balón que el coche?

SOLUCION \_\_\_\_\_





22.-¿Cuánto dinero tiene María?


SOLUCION \_\_\_\_\_

23.-¿Cuánto dinero tiene Carlos?

SOLUCION \_\_\_\_\_

24.-¿Cuánto dinero tiene más María que Carlos?

SOLUCION \_\_\_\_\_



48.-En un corral hay 12 gallinas, 9 conejos y 3 pavos. ¿Cuántos animales hay en el corral?

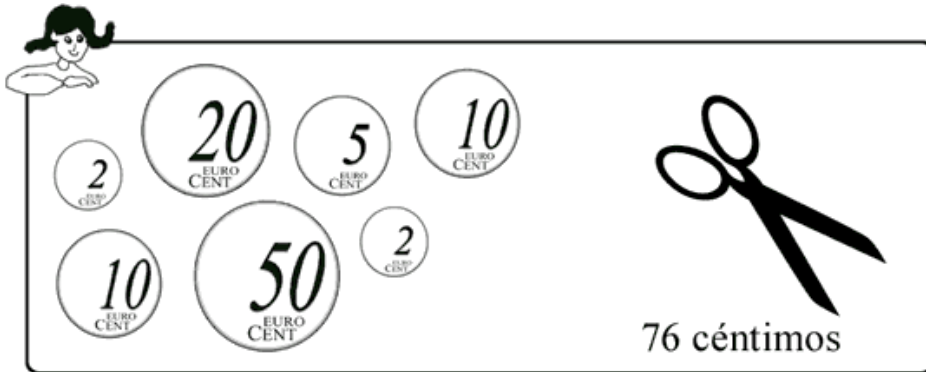
SOLUCION \_\_\_\_\_

49.-En el árbol de navidad hay 23 bombillas rojas, 9 amarillas , 3 verdes y 14 bolas de adorno. ¿Cuántas bombillas hay en el árbol?

SOLUCION \_\_\_\_\_

50.-María tiene 9 años y su hermana Laura 5. ¿Cuántos años tiene las dos juntas?

SOLUCION \_\_\_\_\_



46.-¿Cuánto dinero tiene María?

SOLUCION \_\_\_\_\_

47.-Si se compra las tijeras. ¿Cuánto le sobra?

SOLUCION \_\_\_\_\_

25.-Un hortelano plantó 128 matas de tomates, si se le secaron 28, ¿cuántas le nacieron?



SOLUCION \_\_\_\_\_

26.-Hoy es día 23 de marzo y a Ana le faltan 6 días para su cumpleaños. ¿Qué día es su cumpleaños?

SOLUCION \_\_\_\_\_

27.-Estamos a 29 de Octubre y hace 8 días que fue el cumpleaños de Javier. ¿Qué día cumplió los años Javier?

SOLUCION \_\_\_\_\_



28.-¿Cuántas páginas más ha leído Carlos que María?

SOLUCION \_\_\_\_\_

29.-Si el libro tiene 88 páginas. Cuántas le faltan a María para terminar el libro? ¿y a Carlos?

SOLUCION \_\_\_\_\_

30.-¿Cuántas páginas han leído entre los dos?

SOLUCION \_\_\_\_\_

43.-De un libro de 89 páginas, a Juan le quedan por leer quince.  
¿Cuántas páginas ha leído?

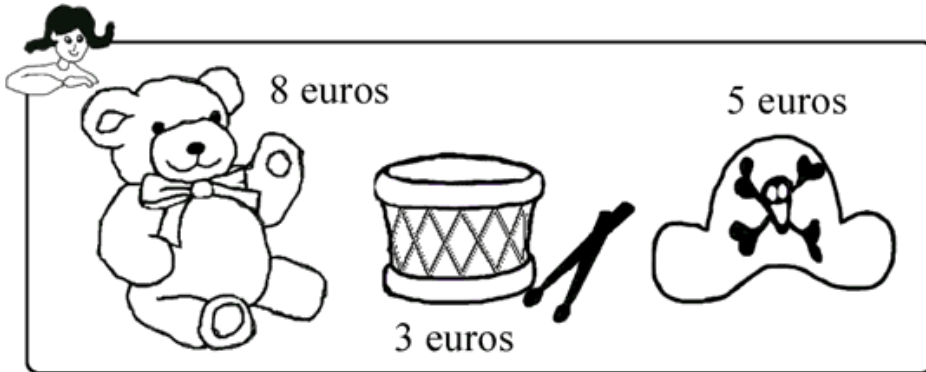
SOLUCION \_\_\_\_\_

44.-Quiero comprarme un balón de 28 euros pero solo tengo doce.  
¿Cuántos euros me faltan para poder comprarlo?

SOLUCION \_\_\_\_\_

45.-En una bolsa hay 15 globos rojos, 23 verdes y ocho amarillos.  
¿Cuántos globos rojos y amarillos hay en la bolsa?

SOLUCION \_\_\_\_\_



40.-Si María tiene 19 euros y se compra el osito. ¿Cuánto le sobra?

SOLUCION \_\_\_\_\_

41.-¿Cuánto cuestan las tres cosas?

SOLUCION \_\_\_\_\_

42.-¿Cuánto cuestan el tambor y el osito?

SOLUCION \_\_\_\_\_

31.-El profe dice hoy: - dentro de 12 días os doy las vacaciones.  
¿Qué día nos dan las vacaciones?


SOLUCION \_\_\_\_\_

32.-Un ramo de flores tiene seis rosas rojas, 5 rosas blancas, 14 rosas amarillas y 8 claves. ¿Cuántas rosas tiene el ramo?

SOLUCION \_\_\_\_\_

33.-Mi libreta tiene ahora 80 páginas, si le he arrancado siete.  
¿Cuántas hojas tenía la libreta?

SOLUCION \_\_\_\_\_



34.-Cuántos libros hay de poesía y de aventuras?

SOLUCION \_\_\_\_\_

35.-¿Cuántos libros hay más de novelas que de aventuras?

SOLUCION \_\_\_\_\_

36.-¿Cuántos libros hay en el armario?

SOLUCION \_\_\_\_\_

37.-Un lápiz cuesta 67 céntimos, un sacapuntas 25 y una libreta 98.  
¿Cuánto cuestan el lápiz y el sacapuntas?

SOLUCION \_\_\_\_\_

38.-¿Cuánto cuesta más la libreta que el lápiz?

SOLUCION \_\_\_\_\_

39.-¿Cuánto cuestan las tres cosas?

SOLUCION \_\_\_\_\_

# SOLUCIONES CUADERNO PROBLEMAS 1a N° serie.:pr7480 © Mariano Vindel del Hoyo 2004

1.-22	25.-100	49.-35
2.-268	26.-29	50.-14
3.-12	27.-21	51.-75
4.-70	28.-33	52.-El gato
5.-0	29.-56, 23	53.-35
6.-35	30.-97	54.-32
7.-105	31.-?	55.-20
8.-25	32.-25	56.-21
9.-11	33.-87	57.-4
10.-11	34.-27	58.-29
11.-350	35.-3	59.-23
12.-500	36.-42	60.-57
13.-María	37.-92	61.-53
14.-15	38.-31	62.-35
15.-8	39.-190	63.-80
16.-60	40.-11	64.-10
17.-26	41.-16	65.-105
19.-32	42.-11	66.-60
20.-35	43.-74	67.-111
21.-5	44.-16	68.-31
22.-90	45.-23	69.-42
23.-80	46.-99	70.-360
24.-10	47.-23	71.-21
	48.-24	