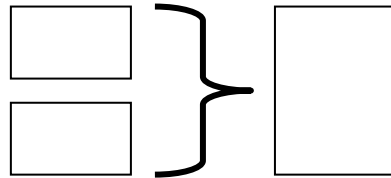


En el garaje hay 65 coches aparcados. Por la noche entran 27 más. ¿Cuántos coches hay en total?

Datos

.....
.....

Gráfico



Operación

.....
.....
.....
.....
.....
.....
.....
.....

Resultado:

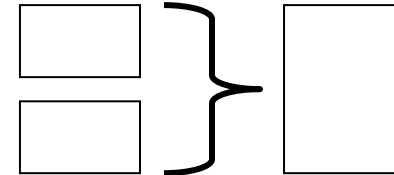
.....

Tengo 39 euros en la hucha. Mi abuela me dio 35 euros. ¿Cuántos tengo en total?

Datos

.....
.....

Gráfico



Operación

.....
.....
.....
.....
.....
.....
.....
.....

Resultado:

.....

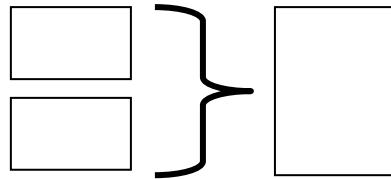
Nombre: Fecha:

En la ciudad hay 29 semáforos. Si colocan 63 semáforos. ¿Cuántos hay en total?

Datos

.....
.....

Gráfico



Operación

.....
.....
.....
.....
.....
.....
.....
.....
.....
.....

Resultado:

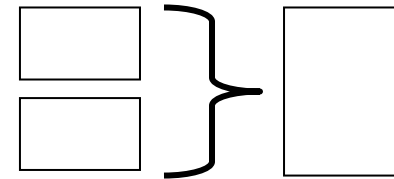
.....

En el restaurante hay 68 platos. Si compran 29 platos. ¿Cuántos hay en total?

Datos

.....
.....

Gráfico



Operación

.....
.....
.....
.....
.....
.....
.....
.....
.....
.....

Resultado:

.....

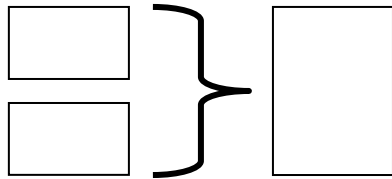
Nombre: Fecha:

En el parque hay 49 bancos. Si colocan 63 bancos ¿Cuántos hay en total?

Datos

.....
.....

Gráfico



Operación

.....
.....
.....
.....
.....
.....
.....
.....
.....
.....

Resultado:

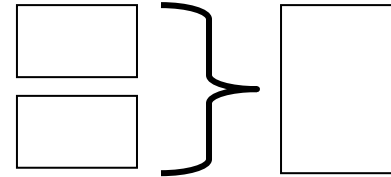
.....

En el cajón de la cocina hay 35 cubiertos. Si compran 29 cubiertos. ¿Cuántos hay en total?

Datos

.....
.....

Gráfico



Operación

.....
.....
.....
.....
.....
.....
.....
.....
.....
.....

Resultado:

.....

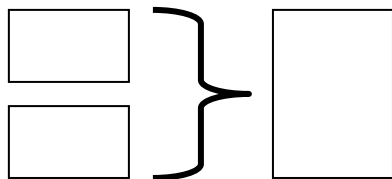
Nombre: Fecha:

En la clase hay 16 mesas azules y 13 mesas rojas. ¿Cuántas mesas hay en total?

Datos

.....
.....

Gráfico



Operación

.....
.....
.....
.....
.....
.....
.....
.....

Resultado:

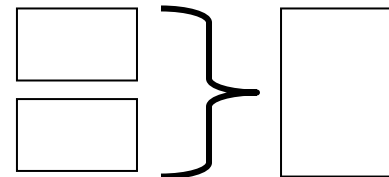
.....

En el jardín hay 25 margaritas y 14 rosas. ¿Cuántas flores hay en total?

Datos

.....
.....

Gráfico



Operación

.....
.....
.....
.....
.....
.....
.....
.....

Resultado:

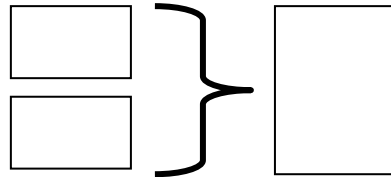
.....

Nombre: Fecha:

Antonio tiene una colección de 234 conchas y su primo le da 75 más. ¿Cuántas conchas tiene ahora la colección de Antonio?

Datos

.....
.....



Gráfico

Operación

.....
.....
.....
.....
.....
.....
.....
.....
.....
.....

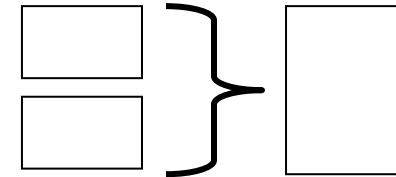
Resultado:

.....

Luisa tiene en su quiosco 286 revistas. Esta mañana ha vendido 75. ¿Cuántas revistas le quedan?

Datos

.....
.....



Gráfico

Operación

.....
.....
.....
.....
.....
.....
.....
.....
.....
.....

Resultado:

.....

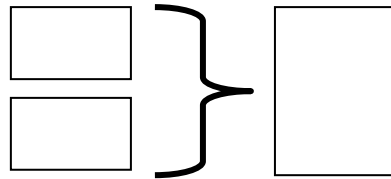
Nombre: Fecha:

Ana tiene 54 cromos y su amigo Luis 57 cromos. ¿Cuántos cromos tienen entre los dos?

Datos

.....
.....

Gráfico



Operación

.....
.....
.....
.....
.....
.....
.....
.....
.....
.....

Resultado:

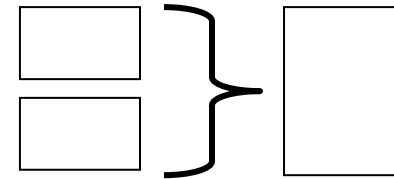
.....

María ha recogido 193 cestas de uvas y Marisa 162. ¿Cuántas uvas han recogido entre las dos?

Datos

.....
.....

Gráfico



Operación

.....
.....
.....
.....
.....
.....
.....
.....
.....
.....

Resultado:

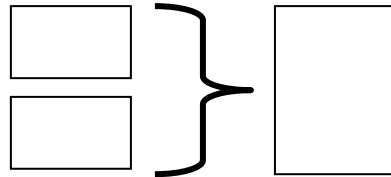
.....

Nombre: Fecha:

Un panadero ha hecho por la mañana 655 barras de pan. Por la tarde ha hecho 347 barras de pan. ¿Cuántas barras de pan ha hecho en total el panadero?

Datos

.....
.....



Gráfico

Operación

.....
.....
.....
.....
.....
.....
.....
.....
.....
.....

Resultado:

.....

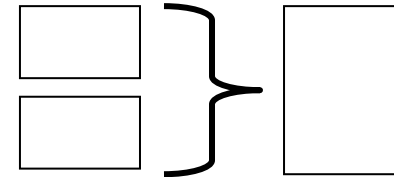
Nombre: Fecha:

En la rama de un arbolito hay 14 pajaritos. Si se vuelan 7 pajaritos. ¿Cuántos pajaritos quedaran en la rama?

Datos

.....
.....

Gráfico



Operación

.....
.....
.....
.....
.....
.....
.....
.....
.....
.....

Resultado:

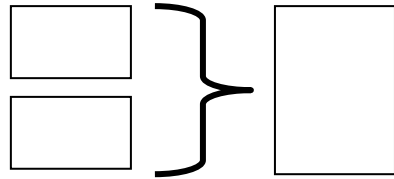
.....

Un ciclista ha recorrido 123 kilómetros en la primera etapa y 155 kilómetros en la segunda etapa. ¿Cuántos kilómetros ha recorrido en total?

Datos

.....
.....

Gráfico



Operación

.....
.....
.....
.....
.....
.....

Resultado

.....
.....

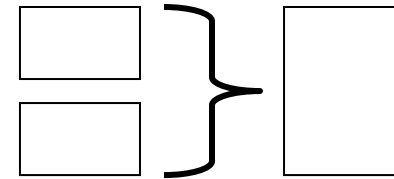
Nombre:

En un rebaño hay 187 ovejas blancas y 122 ovejas negras. ¿Cuántas ovejas hay en el rebaño en total?

Datos

.....
.....

Gráfico



Operación

.....
.....
.....
.....
.....
.....

Resultado:

.....
.....


Fecha:

En un vivero había 198 pinos. Vendieron 54 pinos. ¿Cuántos pinos le quedan ahora en el vivero?

Datos

.....
.....

Gráfico



Operación

.....
.....
.....
.....
.....
.....

Resultado:


.....
.....

En un bosque había 897 árboles, cada árbol tenía 23 nidos de pajaritos. ¿Cuántos nidos hay ahora en el bosque?

Datos

.....
.....

Gráfico



Operación

.....
.....
.....
.....
.....
.....

Resultado:

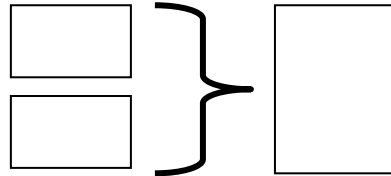
.....
.....

Nombre: Fecha:

En un árbol había 189 manzanas rojas y en otro árbol había 487 manzanas verdes. ¿Cuántas manzanas hay en total?

Datos

.....
.....



Gráfico

Operación

.....
.....
.....

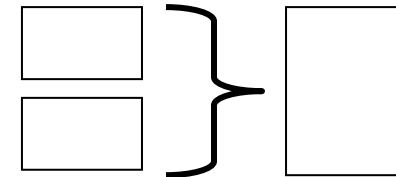
Resultado:

.....
.....

En un bosque había 147 setas venenosas y 254 setas comestibles. ¿Cuántas setas puedo recoger en total?

Datos

.....
.....



Gráfico

Operación

.....
.....
.....

Resultado:

.....
.....

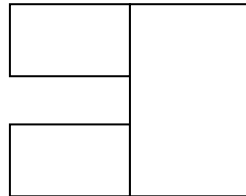
Nombre: Fecha:

Cada farola del parque tiene 8 bombillas. Si en el parque hay 254 farolas. ¿Cuántas bombillas hay en total?

Datos

.....
.....

Gráfico



Operación

.....
.....
.....
.....
.....
.....
.....
.....

Resultado:


.....
.....

En una panadería empaquetan bollos en bolsas de 12. ¿Cuántos bollos hay en 49 bolsas?

Datos

.....
.....

Gráfico



Operación

.....
.....
.....
.....
.....
.....
.....
.....

Resultado:

.....
.....

Nombre: Fecha:

Un equipo de futbol tiene 11 jugadores. ¿Cuántos jugadores tienen 36 equipos de la liga?

Datos

.....
.....

Gráfico

Operación

.....

Resultado:

.....
.....

En una granja habia 745 vacas. Se han vendido 287. ¿Cuántas vacas quedan en la granja?

Datos

.....
.....

Gráfico

Operación

.....

Resultado:

.....
.....

Nombre: Fecha:

Un bolígrafo cuesta 60 céntimos, un cuaderno 176 céntimos y un borrador 30 céntimos. ¿Cuanto cuesta todo junto?

Datos

.....
.....
.....

Gráfico

Operación

.....
.....
.....
.....
.....

Resultado:

.....
.....

Quiero comprar un libro que me cuesta 18 euros. Si tengo ahorrados 7 euros, ¿cuántos euros me faltan?

Datos

.....
.....

Gráfico

Operación

.....
.....
.....
.....

Resultado:

.....
.....

Nombre: Fecha:

¿Cuanto cuestan 9 lapiceros si uno cuesta 72 céntimos?

Datos

.....
.....

Gráfico

	—

Operación

.....
.....
.....

Resultado:

.....
.....

En una granja hay 76 perros y 56 gallinas. ¿Cuántas gallinas hay en la granja?

Datos

.....
.....

Gráfico

Operación

.....
.....
.....

Resultado:

.....
.....
.....


Nombre: Fecha:

Paco tiene 9 años y su hermano es 13 años mayor que él. ¿Cuántos años tiene su hermano?

Datos

.....
.....

Gráfico



Operación

.....
.....
.....

Resultado:

.....
.....

En un parque había 235 árboles pero se secaron 129.. ¿Cuántos árboles quedan en el parque?

Datos

.....
.....

Gráfico



Operación

.....
.....
.....

Resultado:

.....
.....

Nombre: Fecha:

La mamá de Olga ha comprado 7 euros de carne, 5 de fruta y 3 de aceite. ¿Cuánto le ha costado la carne y el aceite?

Datos

.....
.....
.....

Gráfico

Operación

.....
.....
.....
.....
.....
.....
.....
.....
.....
.....

Resultado:

.....
.....

¿Cuántas patas tienen 67 perros?

Datos

.....
.....

Gráfico

Operación

.....
.....
.....
.....
.....
.....
.....
.....
.....
.....

Resultado:

.....
.....

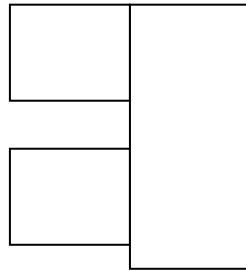
Nombre: Fecha:

En una carpintería hacen 7 puertas y 16 ventanas al día. ¿Cuántas puertas harán en 5 días?

Datos

.....
.....

Gráfico



Operación

.....
.....
.....
.....

Resultado:


.....
.....

Juana tiene 198 céntimos, Ana tiene 230 y Carmen 120. ¿Cuántos céntimos tienen entre Ana y Carmen?

Datos

.....
.....
.....

Gráfico



Operación

.....
.....
.....

Resultado:

.....
.....
.....

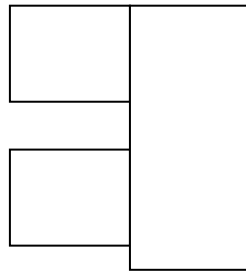
Nombre: Fecha:

Un ciclista recorre 120 Kilómetros en un día. ¿Cuántos Kilómetros recorrerá en una semana?

Datos

.....
.....

Gráfico



Operación

.....
.....
.....

Resultado:

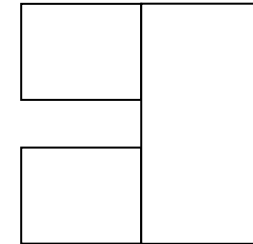
.....
.....

Cada semana un niño ahorra 67 céntimos. ¿Cuántos céntimos ahorrara en 8 semanas?

Datos

.....
.....
.....

Gráfico



Operación

.....
.....
.....

Resultado:

.....
.....

Nombre: Fecha:


María tiene 10 pegatinas. Carlos tiene 6 pegatinas. ¿Cuántas pegatinas tienen entre los dos

Datos

María

Carlos

Gráfico



Operación

Resultado:

.....

.....


Pablo tiene 8 lapiceros. Pilar tiene 5 lapiceros. ¿Cuántos lapiceros tienen entre los dos?

Datos

Pablo

Pilar

Gráfico



Operación

Resultado:

.

.....

.....

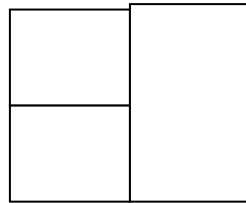
Nombre: Fecha:

María tiene 10 pegatinas. Carlos tiene 6 pegatinas. ¿Cuántas pegatinas tienen entre los dos?

Datos

.....
.....

Gráfico



Operación

.....
.....
.....

Resultado:

.....
.....

Pablo tiene 8 lapiceros. Pilar tiene 5 lapiceros. ¿Cuántos lapiceros tienen entre los dos?

Datos

.....
.....

Gráfico



Operación

.....
.....
.....

Resultado:

.....
.....


Nombre: Fecha:

Miguel tiene 75 céntimos. Su abuelo le ha dado 52 céntimos. ¿Cuántos céntimos tiene ahora Miguel?

Datos

.....
.....

Gráfico



Operación

.....
.....
.....

Resultado:

.....
.....

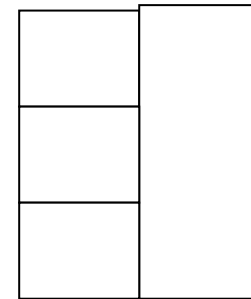
Nombre: Fecha:

Para celebrar su cumpleaños, José ha comprado 32 caramelos de naranja, 23 de fresa y 14 de limón. ¿Cuántos caramelos ha comprado en total?

Datos

.....
.....
.....

Gráfico



Operación

.....
.....
.....

Resultado:


.....
.....

El cartero tiene que repartir 54 cartas, 12 paquetes y 55 postales.
¿Cuántas cosas tiene que repartir en total?

Datos

.....
.....
.....

Gráfico



Operación

.....
.....
.....

Resultado:

.....
.....

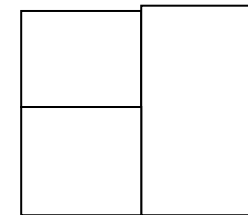
Nombre: Fecha:

David ha cogido 52 cochas en la playa y su amiga Marta 27. ¿Cuántas conchas han cogido entre los dos?.

Datos

.....
.....

Gráfico



Operación

.....
.....
.....

Resultado:

.....
.....