

Apellidos:

Nombre:





1. Calcula estas divisiones y rodea las que sean exactas.

$$636 \overline{) 6}$$

$$1812 \overline{) 3}$$

$$2833 \overline{) 4}$$

2. Estima el peso de los siguientes objetos y rodea la respuesta correcta.

	medio kilo 100 g 2 kg		cuarto de kilo 1 kg 5 kg
	cuarto de kilo 10 kg 20 g		cuarto de kilo medio kilo 3 kg

3. ¿Cuántos vasos de cuarto de litro podemos llenar con 3 litros de leche?

4. El padre de Azucena ha echado 5 pastillas de abono a los rosales. Si cada pastilla pesa 20 g, ¿cuántos gramos de abono habrá echado en los rosales?

5. Una lata de bonito en aceite pesa 100 g. El aceite de la lata pesa 28 g y la lata vacía pesa 10 g. ¿Cuántos gramos pesa el bonito?

