

EL RELOJ

Aguja pequeña:
indica las horas

Aguja grande:
indica los minutos



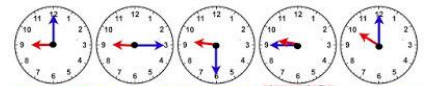
1 hora = 60 minutos

media hora = 30 minutos

un cuarto de hora = 15 minutos

3 cuartos de hora = 45 minutos

LAS HORAS



Las 9
en punto

Las 9
y cuarto

Las 9
y media

Las 10
menos
cuarto

Las 10
en punto


9:00

9:15


9:30

9:45


10:00




Las 10 y 30 de la
noche




Las 3 de la tarde




Las 6 menos cuarto
de la mañana.




Las 11 y 30 de la
mañana




Las 3 y cuarto de la
tarde




Las 11 menos cuarto
de la mañana.



Las 5 y 30 de la
tarde




Las 9 y cuarto de la
noche





Las 7 menos cuarto
de la tarde.

REALIZA LAS ACTIVIDADES Y COMPLETA LOS RELOJES.


David entró al colegio a las 9 menos cuarto de la mañana y salió a las 2 y cuarto.



¿Cuánto tiempo estuvo en el colegio? 



Entró en el colegio  Salió del colegio 

Paqui jugó un partido de pádel el sábado por la tarde. Empezó a las cuatro y media y terminó a las seis en punto.



¿Cuánto duró el partido? 



Empezó  Terminó 

Marcos y Gema fueron al cine el sábado por la mañana. La película empezó a las once y media y terminó a las una en punto.

¿Cuánto duró la película? 



Empezó  Terminó 

Una clase empezó a la once menos cuarto y terminó a las doce.

¿Cuánto duró la clase? 

