
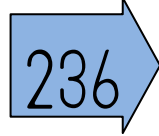









1.- Colorea los números impares y ordena los pares de mayor a menor.

324	123	215	210	348	56
-----	-----	-----	-----	-----	----

2.- Escribe el siguiente número par.

 324	<input type="text"/>	 236	<input type="text"/>	 340	<input type="text"/>
---	----------------------	---	----------------------	---	----------------------

3.- Escribe el siguiente número impar.

 321	<input type="text"/>	 235	<input type="text"/>	 347	<input type="text"/>
 373	<input type="text"/>	 199	<input type="text"/>	 299	<input type="text"/>

4.- Coloca el signo adecuado. (mayor, menor o igual).

<input type="text"/> 56	<input type="text"/>	<input type="text"/> 56	<input type="text"/> 212	<input type="text"/>	<input type="text"/> 122
<input type="text"/> 156	<input type="text"/>	<input type="text"/> 165	<input type="text"/> 217	<input type="text"/>	<input type="text"/> 322
<input type="text"/> 321	<input type="text"/>	<input type="text"/> 345	<input type="text"/> 346	<input type="text"/>	<input type="text"/> 376
<input type="text"/> 356	<input type="text"/>	<input type="text"/> 365	<input type="text"/> 329	<input type="text"/>	<input type="text"/> 330