

1. Resuelve:

$$\cos^2 \frac{x}{2} + \cos x - \frac{1}{2} = 0$$

(1,5 puntos)

2. Demuestra la siguiente identidad trigonométrica:

$$\operatorname{sen} 2\alpha \cdot \cos \alpha - \operatorname{sen} \alpha \cdot \cos 2\alpha = \operatorname{sen} \alpha$$

(1,5 puntos)

3. Si $\cos \alpha = -\frac{1}{4}$ y $\alpha < \pi$, halla:

a) $\operatorname{sen} \alpha$ b) $\cos\left(\frac{\pi}{3} + \alpha\right)$ c) $\operatorname{tg} \frac{\alpha}{2}$ d) $\operatorname{sen}\left(\frac{\pi}{6} - \alpha\right)$

(1 punto)

4. Desde un punto del suelo medimos el ángulo bajo el que se ve un edificio y obtenemos 40° . Nos alejamos 30 m y el ángulo es ahora de 28° . Calcula la altura del edificio y la distancia desde la que se hizo la primera observación.

(1,5 puntos)

5. Resuelve $z^2 - 10z + 29 = 0$

(1,5 puntos)

6. Halla el lado del triángulo cuyos vértices son los afijos de las raíces cúbicas de $4\sqrt{3} - 4i$.

(1,5 puntos)

7. Efectúa y representa la solución:

$$\frac{(3 - 2i)^2 - (1 + i) \cdot (2 - i)}{-3 + i}$$

(1,5 puntos)

SOLUCIONES

① $\cos^2 \frac{x}{2} + \cos x - \frac{1}{2} = 0$ Como $\cos \frac{x}{2} = \pm \sqrt{\frac{1+\cos x}{2}}$

$\left(\sqrt{\frac{1+\cos x}{2}}\right)^2 + \cos x - \frac{1}{2} = 0; \frac{1+\cos x}{2} + \frac{2\cos x}{2} - \frac{1}{2} = 0;$


$3\cos x = 0; \cos x = 0; x = \text{Arccos}(0) = 90^\circ + 360^\circ k, k \in \mathbb{Z}$
 270°

② $\sin 2\alpha \cdot \cos \alpha - \sin \alpha \cdot \cos 2\alpha = \sin \alpha.$

Como $\begin{cases} \sin 2\alpha = 2\sin \alpha \cos \alpha \\ \cos 2\alpha = \cos^2 \alpha - \sin^2 \alpha \end{cases}$ Substituímos en el primer miembro de la identidad

$2\sin \alpha \cos \alpha \cdot \cos \alpha - \sin \alpha (\cos^2 \alpha - \sin^2 \alpha) = 2\sin \alpha \cos^2 \alpha - \sin \alpha \cos^2 \alpha + \sin^3 \alpha = \sin \alpha \cos^2 \alpha + \sin^3 \alpha = \sin \alpha \cdot (\cos^2 \alpha + \sin^2 \alpha) = \sin \alpha \cdot 1 = \sin \alpha.$
 (Como queríamos demostrar)

③ $\cos \alpha = -\frac{1}{4}$ y $\alpha < \pi \Rightarrow$ Estamos en el 2º cuadrante.



a) $\sin^2 \alpha + \cos^2 \alpha = 1; \sin^2 \alpha = 1 - \cos^2 \alpha;$

$\sin^2 \alpha = 1 - \left(-\frac{1}{4}\right)^2 = 1 - \frac{1}{16} = \frac{15}{16}$

$\sin \alpha = \sqrt{\frac{15}{16}}; \sin \alpha = \frac{\sqrt{15}}{4}$

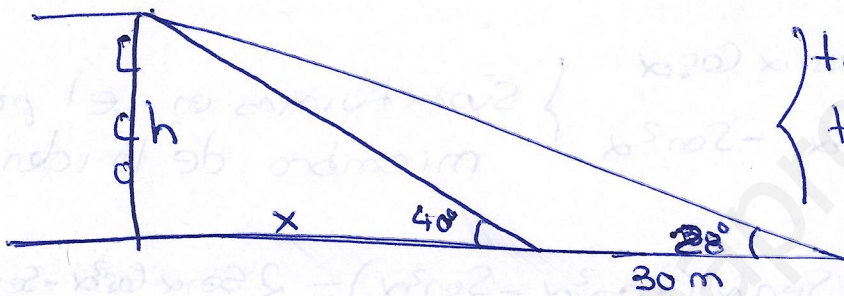
b) $\cos\left(\frac{\pi}{3} + \alpha\right) = \cos \frac{\pi}{3} \cdot \cos \alpha - \sin \frac{\pi}{3} \cdot \sin \alpha = \frac{1}{2} \cdot \left(-\frac{1}{4}\right) - \frac{\sqrt{3}}{2} \cdot \frac{\sqrt{15}}{4} = -\frac{1}{8} - \frac{\sqrt{45}}{8} = \frac{-1 - \sqrt{45}}{8} = \frac{-1 - 3\sqrt{5}}{8}$

c) $\operatorname{tg} \frac{\alpha}{2} = \pm \sqrt{\frac{1-\cos \alpha}{1+\cos \alpha}} \rightarrow \text{Si } \alpha < \pi \Rightarrow \frac{\alpha}{2} < \frac{\pi}{2} \Rightarrow \frac{\alpha}{2} \text{ está en el 1er Cuadrante} \Rightarrow \operatorname{tg} \alpha > 0$

$$\left[\operatorname{tg} \frac{\alpha}{2} = \pm \sqrt{\frac{1+\frac{1}{4}}{1-\frac{1}{4}}} = \pm \sqrt{\frac{5/4}{3/4}} = \pm \sqrt{\frac{5}{3}} = \frac{\sqrt{5}}{\sqrt{3}} \right]$$

d) $\left[\operatorname{Sen} \left(\frac{\pi}{6} - \alpha \right) = \operatorname{Sen} \frac{\pi}{6} \cos \alpha + \cos \frac{\pi}{6} \cdot \operatorname{Sen} \alpha = \right.$
 $\left. = \frac{1}{2} \cdot \left(-\frac{1}{4}\right) + \frac{\sqrt{3}}{2} \cdot \frac{\sqrt{15}}{4} = -\frac{1}{8} + \frac{\sqrt{45}}{8} = \frac{-1+3\sqrt{5}}{8} \right]$

4)



$$\left. \begin{aligned} \operatorname{tg} 40^\circ &= \frac{h}{x} \\ \operatorname{tg} 28^\circ &= \frac{h}{x+30} \end{aligned} \right\} \rightarrow \boxed{h = x \cdot \operatorname{tg} 40^\circ}$$

$$\operatorname{tg} 28^\circ = \frac{x \cdot \operatorname{tg} 40^\circ}{x+30}; \operatorname{tg} 28^\circ(x+30) = x \operatorname{tg} 40^\circ; x \operatorname{tg} 28^\circ + 30 \operatorname{tg} 28^\circ = x \operatorname{tg} 40^\circ$$

$$0'53171x + 15'951 = 0'8391x; \boxed{x = 51'892 \text{ m}}$$

$$\boxed{h = 51'892 \cdot \operatorname{tg} 40^\circ = 43'543 \text{ m}}$$

5) $z^2 - 10z + 29 = 0$

$$z = \frac{10 \pm \sqrt{10^2 - 4 \cdot 29}}{2} = \frac{10 \pm \sqrt{100 - 116}}{2} = \frac{10 \pm \sqrt{-16}}{2} = \frac{10 \pm \sqrt{16} \cdot i}{2}$$

$$= \frac{10 \pm 4i}{2} \rightarrow \boxed{z_1 = 5 + 2i}$$

$$\boxed{z_2 = 5 - 2i}$$

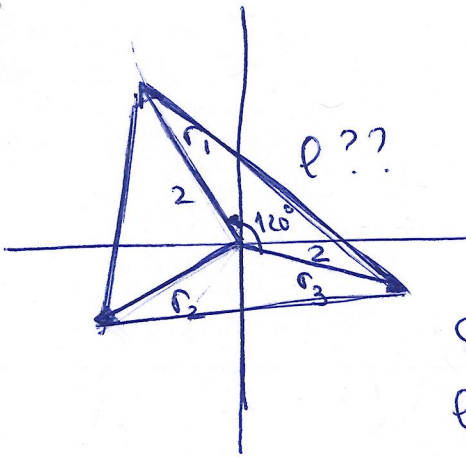
6) $z = 4\sqrt{3} - 4i$

$$|z| = \sqrt{(4\sqrt{3})^2 + 4^2} = \sqrt{16 \cdot 3 + 16} = \sqrt{64} = 8_{330^\circ}$$

$$\alpha = \operatorname{arctg} \left(\frac{-4}{4\sqrt{3}} \right) = 330^\circ$$

$$|r| = \sqrt[3]{8} = 2$$

$$\alpha_1 = \frac{330^\circ}{3} = 110^\circ \quad \alpha_2 = \frac{330^\circ}{3} + \frac{360^\circ}{3} = 230^\circ \quad \alpha_3 = \frac{330^\circ}{3} + \frac{360^\circ \cdot 2}{3} = 350^\circ$$




$$r_1 = 2_{110^\circ}$$

$$r_2 = 2_{230^\circ}$$

$$r_3 = 2_{350^\circ}$$

Como el triángulo es equilátero, lo dividimos en tres triángulos iguales cuyo ángulo central es $\frac{360^\circ}{3} = 120^\circ$



Por el teorema de seno

$$\frac{l}{\text{Sen } 120^\circ} = \frac{2}{\text{Sen } 30^\circ}$$

$$l = \frac{2 \cdot \text{Sen } 120^\circ}{\text{Sen } 30^\circ} = 3.46 \text{ m}$$

$$\textcircled{7} \frac{(3-2i)^2 - (1+i)(2-i)}{-3+i} = \frac{3^2 + (2i)^2 - 2 \cdot 3 \cdot 2i - (2 - i + 2i - i^2)}{-3+i}$$

$$\frac{9 + 4i^2 - 12i - 2 + i - 2i + i^2}{-3+i} \xrightarrow{\text{Como } i^2 = -1} \frac{9 - 4 - 12i - 2 + i - 2i - 1}{-3+i} =$$

$$\frac{(2-13i)}{(-3+i)} \cdot \frac{(i+3)}{(i+3)} = \frac{(2-13i)(i+3)}{i^2 - 3^2} = \frac{2i + 6 - 13i^2 - 39i}{-1 - 9} =$$

$$= \frac{2i + 6 + 13 - 39i}{-10} = \frac{19 - 37i}{-10} = -\frac{19}{10} + \frac{37}{10}i$$

