

Litro, medio litro y cuarto de litro

Alumno: _____ Curso: _____ Fecha: _____

1 Observa las botellas y dibuja las que faltan para tener la cantidad indicada.



= un litro



= medio litro



= cuarto de litro



un litro y medio




dos cuartos de litro

2 Completa la tabla siguiente poniendo una X en las casillas correctas.

Cabe más de 1 litro				
Cabe menos de 1 litro				

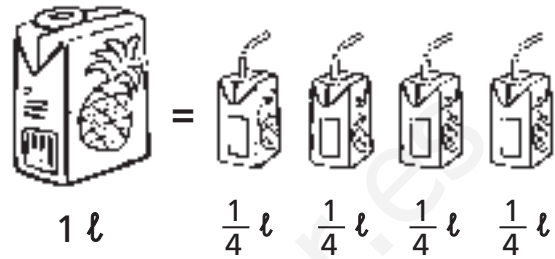
3 ¿Cuántos litros necesitamos para llenar 24 vasos? Colorea las botellas necesarias.









Alumno: _____ Curso: _____ Fecha: _____

Podemos escribir un cuarto de litro también de esta forma.

un cuarto de litro $\longrightarrow \frac{1}{4} \ell$



1 Observa el ejemplo y dibuja los recipientes necesarios para llenar cada botella.

	 1 ℓ	 $\frac{1}{2} \ell$	 $\frac{1}{4} \ell$
 $\frac{1}{4} \ell$			
 $\frac{1}{4} \ell$			

2 Colorea $\frac{1}{4} \ell$ de cada recipiente.

